



# सामाजिक अध्ययन

## कक्षा - छः

### भाग - तीन



‘राज्य शैक्षिक अनुसंधान और प्रशिक्षण परिषद’ का यह प्रयोग है।

पाठ्य सामग्री तैयार की है ‘सकलव्य’ संस्था और उससे जुड़े कई साथियों ने।

चित्रांकन: राजेश यादव - इटारसी, प्रीति आनन्द - हरदा, आशा शर्मा - भोपाल

सुरवृष्ट: ‘देश का पर्यावरण’ से साभार

मुद्रक: भण्डारी आफ़सेट प्रिंटेर्स, भोपाल

# विषय सूची

## भूगोल

पाठ-7	जापान	2-14
पाठ-8	एशिया के ध्रुवीय प्रदेश	15-25
पाठ-9	इरान	26-36
पाठ-10	प्राकृतिक बनावट, वनस्पति तथा जलवायु	37-47




## इतिहास



पाठ-7	राजा, महाराजा और शहर	48-65
पाठ-8	नए प्रश्न, नए विचार	66-72
पाठ-9	मौर्य वंश के राजा	73-81
पाठ-10	विदेशों से व्यापार संपर्क	81-87

## नागरिक शास्त्र

पाठ-7	सरकार	88-103
पाठ-8	जिला प्रशासन	104-113



# भूगोल

## पाठ-7 जापान

तुमने कई बार जापान के बारे में सुना होगा। उस देश की बनी कई सारी चीजें जैसे - रेडियो, टेपरिकार्डर टी.वी.;

विडियो भी बहुत जानी मानी हैं। शायद तुमने इनमें से कुछ देखी भी होगी।

जापान एक बहुत ही छोटा देश है। पर, वहां का उद्योग बहुत विकसित है। जापान एशिया महाद्वीप का पहला देश है, जहां ब्रिटेन और अमेरिका जैसे उद्योग बने।

चलो इस देश के बारे में पढ़ें।

- एशिया के नक्शे में जापान को ढूंढो। बताओ वह भारत से किस दिशा में जाने से मिलेगा ?

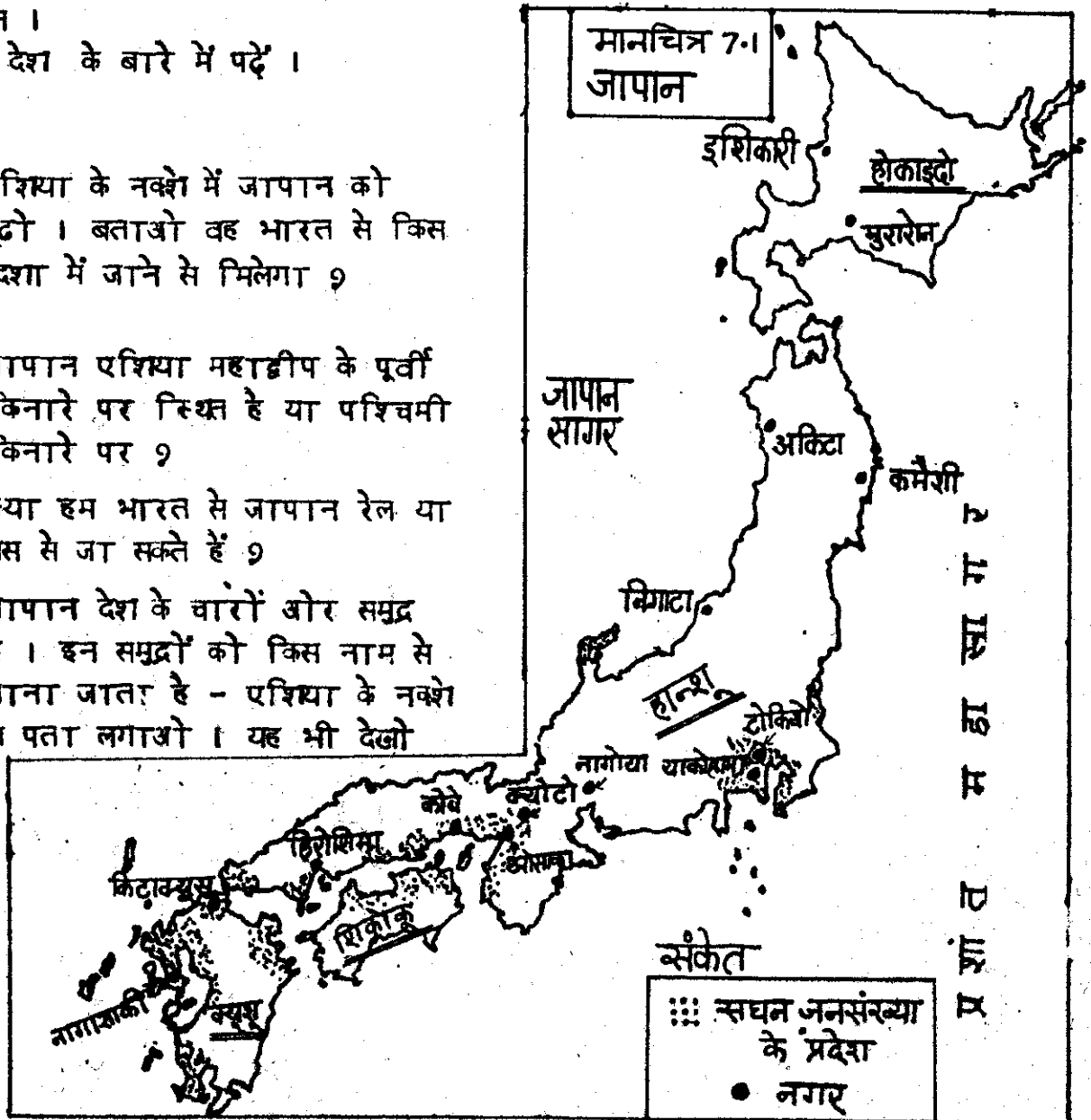
जापान एशिया महाद्वीप के पूर्वी किनारे पर स्थित है या पश्चिमी किनारे पर ?

क्या हम भारत से जापान रेल या बस से जा सकते हैं ?

जापान देश के चारों ओर समुद्र है। इन समुद्रों को किस नाम से जाना जाता है - एशिया के नक्शे से पता लगाओ। यह भी देखो

कि जापान के आसपास कौन से देश हैं ?

इंडोनेशिया की तरह जापान देश भी टापुओं या द्वीपों का बना है। इसमें कई हजार छोटे द्वीप हैं, पर इनमें चार बड़े द्वीप हैं। इनका नाम है - होकाइदो, हान्शू, क्यूसू और शिकोकू। मानचित्र (7.1) में इन्हें ढूंढो।




अब इस बात पर ध्यान दो कि जापान पृथ्वी पर कहाँ स्थित है। तुमने इंडोनेशिया देश को भूमध्य रेखा के पास पाया था। अब देखो कि जापान भूमध्य रेखा से कितनी दूर, उत्तर में है।

- तो क्या इंडोनेशिया जैसे यहाँ भी साल भर तेज गर्मी रहेगी ?

भूमध्य रेखा से अधिक उत्तर में होने के कारण जापान में सर्दी भी पड़ती है। जब सर्दी का मौसम आता है तो बहुत ठंड पड़ती है। दूसरे मौसम में गर्मी भी पड़ती है पर उतनी नहीं जितनी इंडोनेशिया में।

गर्मी सर्दी का मौसम तो अपने यहाँ मध्य प्रदेश में भी होता है। पर जापान की जलवायु मध्य प्रदेश से भी भिन्न है।

- ग्लोब व नक्शों में देखो कि पृथ्वी पर जापान कहाँ है और मध्य - प्रदेश कहाँ ?  
भूमध्य रेखा के ज्यादा निकट कौन है ?



चित्र 7.2 बर्फ से ढका एक घर।

- अब बताओ कि जाड़े के मौसम में ज्यादा ठंड कहाँ पड़ेगी ? और गर्मी के मौसम में अधिक गर्मी कहाँ होगी ? मध्य प्रदेश में या जापान में ?



चित्र 7.3

यह जापान के फूजियामा पर्वत का चित्र है। फूजियामा पर्वत एक ज्वालामुखी है। पर, इसकी ढलानें सपेद बरफों से ढकी हुई हैं।

- यह जापान देश दिखाता कैसा है ?

इसका अन्दाज़ा तुम नीचे दिए चित्र (7.4) को देखकर लगा सकते हो। इस चित्र में जापान के पर्वत, घाटी, मैदान आदि दिखाई देते हैं।

- इस चित्र को देखकर तुम्हें नीचे दिए गए वाक्यों में से कौन सा सही लगता है ?

1. जापान द्वीपों का देश है।
2. जापान पहाड़ों का देश है।
3. जापान एक पठार है।
4. जापान एक चौड़ा मैदानी देश है।
5. जापान में जावा की तरह ज्वालामुखी हैं।

- इस चित्र को देखकर क्या तुम्हें लगता है कि यहां के लोग कहाँ पर बस कर रहते होंगे ?

सब ओर तो पहाड़ ही पहाड़ हैं।

पर ध्यान से देखो। पहाड़ों के नीचे और समुद्र के किनारे पर छोटे-छोटे मैदान हैं। इन्हें पहचानों और इनके आगे "म" का निशान लगाओ।

इन्हीं मैदानों में अधिकांश ज़ेती होती है और गाँव बसे हैं। यहीं पर बड़े बड़े शहर भी स्थित हैं।


- जापान के नक्शे में (चित्र 7.0) देखो, किस द्वीप में कौन-कौन से शहर बसे हैं। हर द्वीप के प्रमुख शहरों के नाम लिखो।

इस नक्शे में तुम्हें कुछ बिन्दियाँ भी दिखेंगी (••••)। ये वो इलाके हैं, जहाँ घनी आबादी रहती है, यानी बहुत सारे लोग बसे हैं।

- इन्हें नक्शे में पहचानो। क्या ये समुद्र तट के इलाके हैं ?

बाकी जगहों में भी लोग रहते हैं पर कम।

उन भागों में क्या है ?



- यह भी देखो कि जापान के अधिकांश लोग उत्तरी हिस्सों में रहते हैं या दक्षिणी ?


जापान में खूब सारे पहाड़ हैं, यह तुमने देखा । अधिकतर पहाड़ वनों से ढके हैं ।

इस चित्र (7.5) में वहां के पेड़ देखो । वे किस चीज से ढके हैं ?

- क्या अपने चारों तरफ ऐसे पेड़ दिखते हैं ?

भारत में हिमालय पर्वत पर ऐसे वन जरूर होते हैं । तो जापान में वैसी ही ठंड पड़ती होगी ।

जिन इलाकों में मौसम साल भर ठंडा रहता है, वहां ऐसे पेड़ पाए जाते हैं । इन पेड़ों की पत्तियां लंबी व नुकीली -सई जैसी होती हैं । जैसे इस चित्र (7.5) में दिखाई है ।



चित्र 7.5 नुकीली पत्ती वाले कोणधारी वन

जापान में ऐसे पेड़ कई जगह पाए जाते हैं, खासकर, उच्च पहाड़ों पर जहां साल भर मौसम ठंडा रहता है और वर्षा भी गिरती है । पर, हर जगह ऐसे पेड़ नहीं होते । जिन हिस्सों में गर्मी का मौसम भी रहता है, वहां दूसरी तरह के पेड़ होते हैं ।

चित्र (7.6) में देखो । इन पेड़ों की पत्तियां चौड़ी होती हैं ।

- क्या अपने प्रदेश में चौड़ी पत्ती के पेड़ होते हैं ?

जापान में केन, बगुला, प्रेमिगान, जैसे पक्षी और लोमड़ी व हिरण जैसे जानवर बहुत पाए जाते हैं ।

← चित्र 7.6 चौड़ी पत्ती वाले बर्च पेड़ ।

## जापान में खेती

अब चलो जापान के पहाड़ों और जंगलों को छोड़कर वहाँ के खेतों को देखें। तो नीचे मैदान पर उतरें। चित्र

(7.7) में सपाट मैदान दिखाता है। उसके किनारे पहाड़ खड़े हैं। उन्हें मैदान में पानी से भरे खेत तो जरूर दिखा रहे होंगे।

### ● इनमें क्या उगाता होगा ?

जापान में मैदान इतने छोटे हैं और वहाँ की आबादी इतनी ज्यादा है कि लोग पहाड़ों की ढलानों पर भी खेती करते हैं। पथरीली और बहुत ढलानी जमीन पर तो खेती नहीं हो सकती। इसलिए जिन पर्वतीय ढलानों पर थोड़ी मिट्टी है, उन्हें काटकर छोटे-छोटे सीढ़ीनुमा खेत बना लिए जाते हैं।

चित्र में तुम एक पहाड़ पर ऐसे सीढ़ी-नुमा खेत देखा पा रहे हो।


दूसरे पहाड़ पर कुछ औरतें काम कर रही दिखाती हैं।

### ● क्या तुम अंदाज़ लगा सकते हो कि वे क्या कर रही हैं ?

इस पहाड़ की ढलान पर क्या उगा है ?

जापान में पहाड़ों की ढलानों पर चाय खूब उगाई जाती है। चाय के पौधों के लिए बहुत सा पानी गिर के बह जाना चाहिए। इसलिए ढलान पर ये अच्छे उगते हैं।

ढलानों पर कई प्रकार के फलदार पेड़ भी लगाए जाते हैं। शहतूत के पेड़ भी बहुत उगाए जाते हैं। इनकी पत्तियाँ छाकर रेशम की इन्लियाँ फसती हैं। जापान में रेशम काफी मात्रा में बनाया जाता है।



चित्र 7.7 समतल मैदान और पहाड़ पर खेती।



यह तो रही पहाड़ी ढलानों पर उगने वाले पेड़ पौधों की बात । अब आखीरे पता करें कि जापान के समतल क्षेत्रों में क्या-क्या फसलें ली जाती हैं । इसके लिए पहले जापान की बारिश और तापमान के बारे में कुछ बातें जानो ।

जापान में बारिश जून से सितम्बर तक होती है । इन महीनों में भारी वर्षा होती है ।

● क्या इन्हीं महीनों में अपने यहाँ भी बारिश का मौसम होता है ?  
इंडोनेशिया की तरह साल भर बारिश न अपने यहाँ होती है न जापान में ।


जापान में जून से सितम्बर तक तेज धूप भी पड़ती है । तेज धूप के साथ जहाँ बारिश होती है वहाँ अक्सर धान अच्छा होता है । इसलिए अपने यहाँ भी धान इन्हीं महीनों में उगाया जाता है ।

बरसात के समय जापान में भी धान उगाया जाता है । वहाँ की धान की छेती बहुत प्रसिद्ध है ।

जापान में धान के अलावा गेहूँ, जौ, राई, आलू, सब्जियाँ भी उगाई जाती हैं । ये फसलें ठंडे इलाकों में ज्यादा होती हैं ।

● बताओ कि ये जापान के कौन से द्वीप में अधिक उगती होंगी ?

जापानी लोगों ने अपने छोटे-छोटे क्षेत्रों में अधिक से अधिक उत्पादन लेने के कई तरीके विकसित किए हैं । वे क्षेत्रों में कैसे काम कर रहे हैं, चित्र 7-8 में देखो -



चित्र 7-8 छोटी मशीनों से छेती ।

वे अपने जैसे हल बैल से तो काम नहीं कर रहे हैं । क्षेत्रों में ट्रैक्टर भी नहीं हैं । ये छोटी-छोटी मशीनें हैं जो डीजल से चलती हैं । छेती के हर काम के लिए यहाँ ऐसी छोटी-छोटी मशीनें हैं । मिट्टी पलटने, मिट्टी को बारीक कणों में कटने, मिट्टी में पानी मिलाकर उसे कीचड़ बनाने, बोने, छरपतवार उखाड़ने, दवाई छिटकने, कटाई करने, यहाँ तक कि धान की स्पार्ड करने की भी मशीनें हैं ।

● चित्र में मशीन का उपयोग किस लिए किया जा रहा है ?

जापान में मशीनें ऐसी छोटी-छोटी क्यों हैं, क्या इसका कोई कारण सोच सकते हो ?

ये मशीनें वहाँ पिछले तीस सालों में बनी हैं । पहले वहाँ भी हाथ और हल से ही काम चलता था ।


● सोच कर बताओ कि जापान में 30 साल पहले ज्यादा लोग क्षेत्रों में काम करते होंगे कि अब ?

इतने विकसित तरीके से छेती करने पर भी जापान में अनाज आदि की कमी पड़ती है । जापान अनाज,

मांस, पल, दूध, मक्खन, शक्कर आदि विदेशों से मंगाता है ।

### मछली पकड़ना

जापान के चारों तरफ समुद्र ही समुद्र है । तो यहाँ मछली पकड़ने का खूब बड़ा धन्धा है ।



चित्र 7-9 नाव से मछली पकड़ रहे हैं ।

जापान का तट कितना ऋट-पटा है नक्शे में देखो । इसमें कई छाड़ियाँ हैं ।

● भारत के तट पर क्या तुमने कोई छाड़ी देखी थी ?

जापान की छाड़ियों में अच्छे बंदरगाह हैं । चारों ओर समुद्र में मछलियाँ भी खूब मिलती हैं । अतः बंदरगाहों से बड़े जलयानों में बैठकर यहाँ के लोग दूर तक समुद्र में मछली पकड़ने जाते हैं ।

चित्र 7-9 देखो। कई जलयानों में मछली पकड़ने के सभी सुविधाजनक यंत्र लगे होते हैं । जापान दूसरे देशों को मछली बेचता है । हाँ, जापान में मछली का तेल भी निकाला जाता है ।

कभी-कभी यहाँ समुद्र में भूँकर तपान आते हैं । इन्हें टायफून कहते हैं । तपान के कारण समुद्र किनारे की जगहों में पानी भर जाता है । घर, बिजली की लाइनें आदि टूट-पूट जाती हैं । ऐसे तपान अपने देश में भी आते हैं ।

### जापान में उद्योग

जापान के मैदानों और पहाड़ों और समुद्री किनारों को हमने देखा लिया, और वहाँ के जंगलों व छेतों की बात भी कर ली । अब जापान के कारखानों के बारे में कुछ जानो । जापान अपने कारखानों के लिए बहुत प्रसिद्ध है । उस देश में बहुत सारे कारखाने हैं । तरह-तरह के कारखाने भी हैं । मानचित्र 7-10 में जापान के प्रमुख औद्योगिक केन्द्रों की जानकारी दी है । वहाँ कौन से उद्योग हैं यह भी दिखाया है ।

नक्शा देकर हम सूची बनाओ कि किन नगरों में कौन से उद्योग हैं -

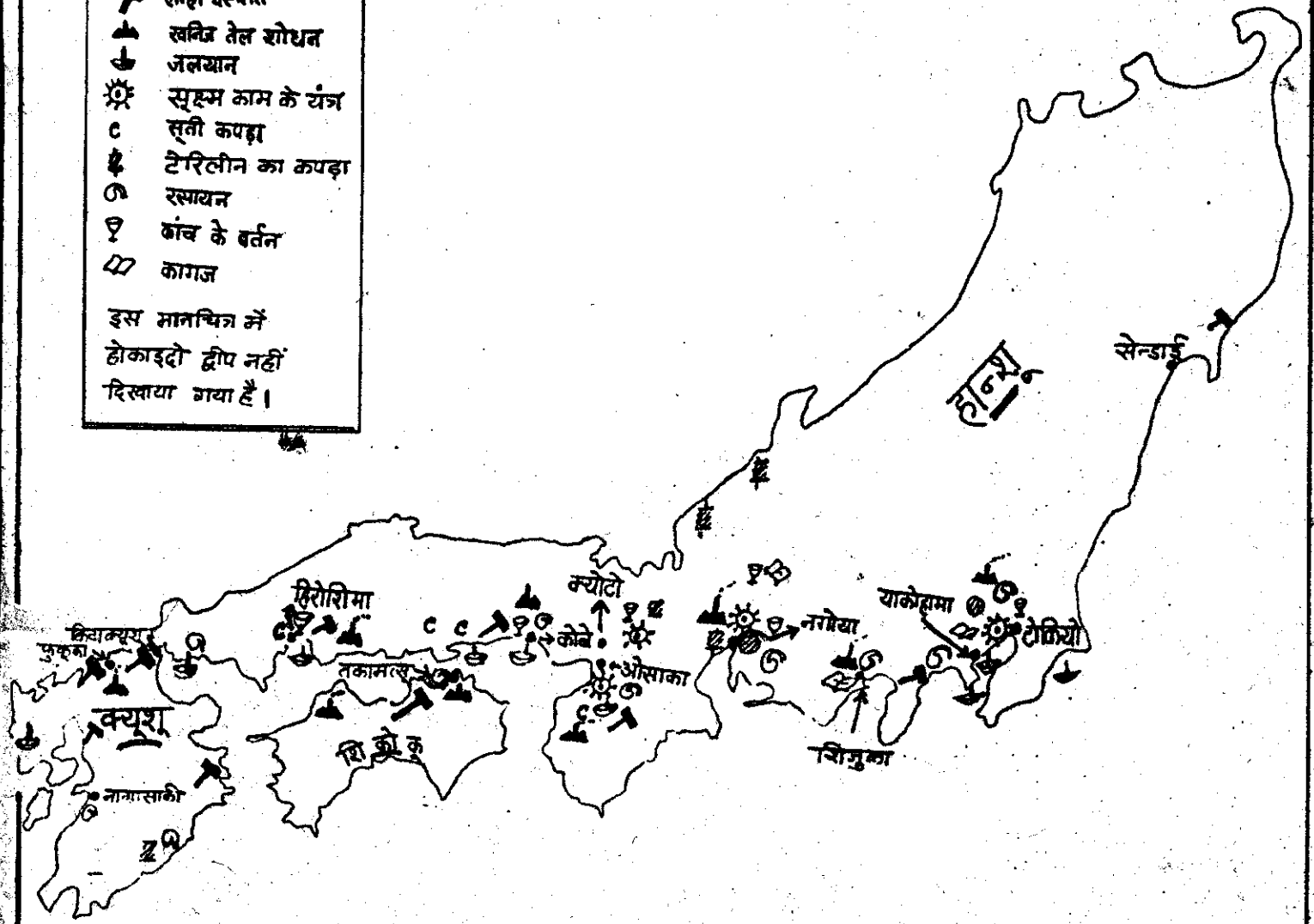
नगर	मुख्य उद्योग
1. टोकियो तथा याकोहामा	
2. नगोया	
3. ओसाका	
4. कोबे तथा क्योटो	


मानचित्र 7.10 जापान के महत्वपूर्ण उद्योग

संकेत


	लोहा इस्पात
	खनिज तेल शोधन
	जलयान
	सूक्ष्म काम के यंत्र
	सूती कपड़ा
	टेरिलीन का कपड़ा
	रसायन
	कांच के बर्तन
	कागज

इस मानचित्र में  
होकाइदो द्वीप नहीं  
दिखाया गया है।





चित्र 7.11 एक औद्योगिक क्षेत्र का दृश्य । धूर से ढके बड़े-बड़े कारखाने ।  
उनके अन्दर से गुजरती रेल पटरियां । पास में ही बंदरगाह ,  
जिसमें छोड़े हैं जहाज - माल लाने ले जानेको। बंदरगाह के  
उस पार ओर कारखाने ।



चित्र 7.12 एक मोटर कारखाने के अंदर

जापान में ऐसे तरह-तरह के उद्योग विकसित हैं। लेकिन इनके लिए अधिक कच्चा माल यहाँ नहीं मिलता। जापान में कुछ खनिज जैसे - कोयला, लोहा, ताँबा आदि अल्प मात्रा में ही मिलते हैं। पर बहुत सा कच्चा माल विदेशों से मँगाना पड़ता है। उसके बदले में तरह-तरह की बनी हुई चीजें जापान दूसरे देशों को भेजता है।




चित्र 7.13 यहाँ टेपरिकार्डर बन रहे हैं।

● नीचे दी गई तालिका को देखो -

जापान में दूसरे देशों से खरीदा माल.	कारखानों में बनी चीजें जिन्हें जापान दूसरे देशों को बेचता है.
1. खनिज तेल	1. मोटर गाड़ी
2. पेट्रोल	2. लोहा - इस्पात (स्टील)
3. ताँबा, टिन	3. जहाज
4. चाँदी, सोना	4. काँच की चीजें
5. खनिज लोहा	5. लोहे की चीजें
6. कोयला	6. रेडियो, टेपरिकार्डर
7. कपड़ा	7. मोटर साइकल
8. मांस	8. मशीनें
9. चारा	9. टैरीलीन का कपड़ा
10. रुई	10. प्लास्टिक
11. सोयाबीन	
12. गेहूँ	
13. लकड़ी	

- बताओ -**
1. खाने की कौन सी चीजें जापान मँगाता है ?
  2. यह भी बताओ कि यदि जापान कारखानों की बनी चीजें बाहर के देशों को न भेजे तो क्या उसके लोगों की भोजन की जरूरतें पूरी हो सकेंगी ?
  3. दूसरे देशों से खरीदी गई ये चीजें जापान के किन उद्योगों में काम आती होंगी, तालिका में भरते -
    1. लोहा -
    2. ताँबा व टिन -
    3. कोयला -
    4. लकड़ी -
    5. रुई -
    6. खनिज तेल -



चित्र 7-14 एक बंदरगाह का दृश्य । देखो कितने सारे जहाज हैं । जमीन पर रखे बड़े-बड़े छोके जहाज में चढ़ाए जाने के लिए तैयार हैं । सामान चढ़ाने उतारने की मशीन, क्रेन भी दिख रही है ।

बाहर से आने वाले माल को कारखानों तक पहुंचाने और बने हुए माल को बाहर भेजने के लिए जापान में परिवहन सुविधा बहुत जरूरी है । वहां सड़कें और रेल मार्ग बहुत अच्छे हैं । रेल गाड़ियां तो खूब तेज और समय पर चलती हैं । जापान में हर औद्योगिक क्षेत्र के पास बंदरगाह भी हैं। यह क्यों तम समझा सकते हो ?

अपने देश में तो अधिकतर लोग छेत्ती में काम करते हैं । पर जापान



चित्र 7-15 जापान की रेल ।

देश में बहुत कम लोग छेत्ती में काम करते हैं । वहां के अधिकतर लोग कारखानों में काम करते हैं ।


हजारों लोग शहर में अपने रहने की जगह से कारखानों में काम करने जाते हैं, और घर लौटते हैं । इसके लिए भी मोटर गाड़ियों और रेलगाड़ियों की सुविधा बहुत जरूरी है ।

### जापान के लोग

जापान में बड़े-बड़े नगर हैं जिनमें अनेक कारखाने हैं । धूमि की कमी के कारण नगर बहुत घने बसे हैं । घर भी अधिकतर छोटे-छोटे होते हैं । उनमें कुर्सी-मेज आदि अधिक नहीं होते । लोग छोटी मेज के चारों ओर बैठकर खाना खाते हैं । चट्टाईयों पर बिस्तर बिछाकर सोते हैं । वहां के घरों के अन्दर का चित्र 7-16 देखो ।



जापानी लोगों की परम्परागत पोशाक का नाम किमोनो है। चित्र में देखो यह ढीली-ढाली पोशाक कैसी होती है। अब पश्चिमी देशों के प्रभाव से जापान में ओरते प्राँके पहनने लगी हैं और आदमी कोट-पेन्ट पहनने लगे हैं। जापान की भाषा जापानी है। जापानी लोग बौद्ध धर्म और शिन्टो नाम के धर्म को मानते हैं।



चित्र भूकंप के कारण जमीन पर ऐसी दरारें पड़ती हैं और सड़क, रेल आदि 7.17 ऐसे टूट-पूट जाती हैं।

जापान में भूकंप बहुत आते हैं। चित्र में भूकंप के बाद का दृश्य देखो। पृथ्वी के भीतर की चट्टानें जिसकने से सतह में कंपन होता है। इसे भूकंप कहते हैं। जब भूकंप होता है जमीन तेजी से हिलने लगती है। मकान की दीवारें हिलने लगती हैं। पेड़-पौधे उखड़ जाते हैं। बहुत नुकसान होता है। मकान, सड़क, रेलमार्ग, बिजली के छंभ आदि टूट जाते हैं।

पहले तो जापान में लोग लकड़ी के मकान बनाते थे। लकड़ी के मकान भूकंप के धक्के से हिल उठते हैं पर जल्दी टूटते नहीं। जबकि कांक्रिट मकानों में आसानी से दरारें पड़ जाती हैं।

भूकंप में टूट जाने पर भी लकड़ी के मकानों से ज्यादा खतरा व नुकसान नहीं रहता।

उसी लकड़ी से दबारा मकान बनाया जा सकता है।

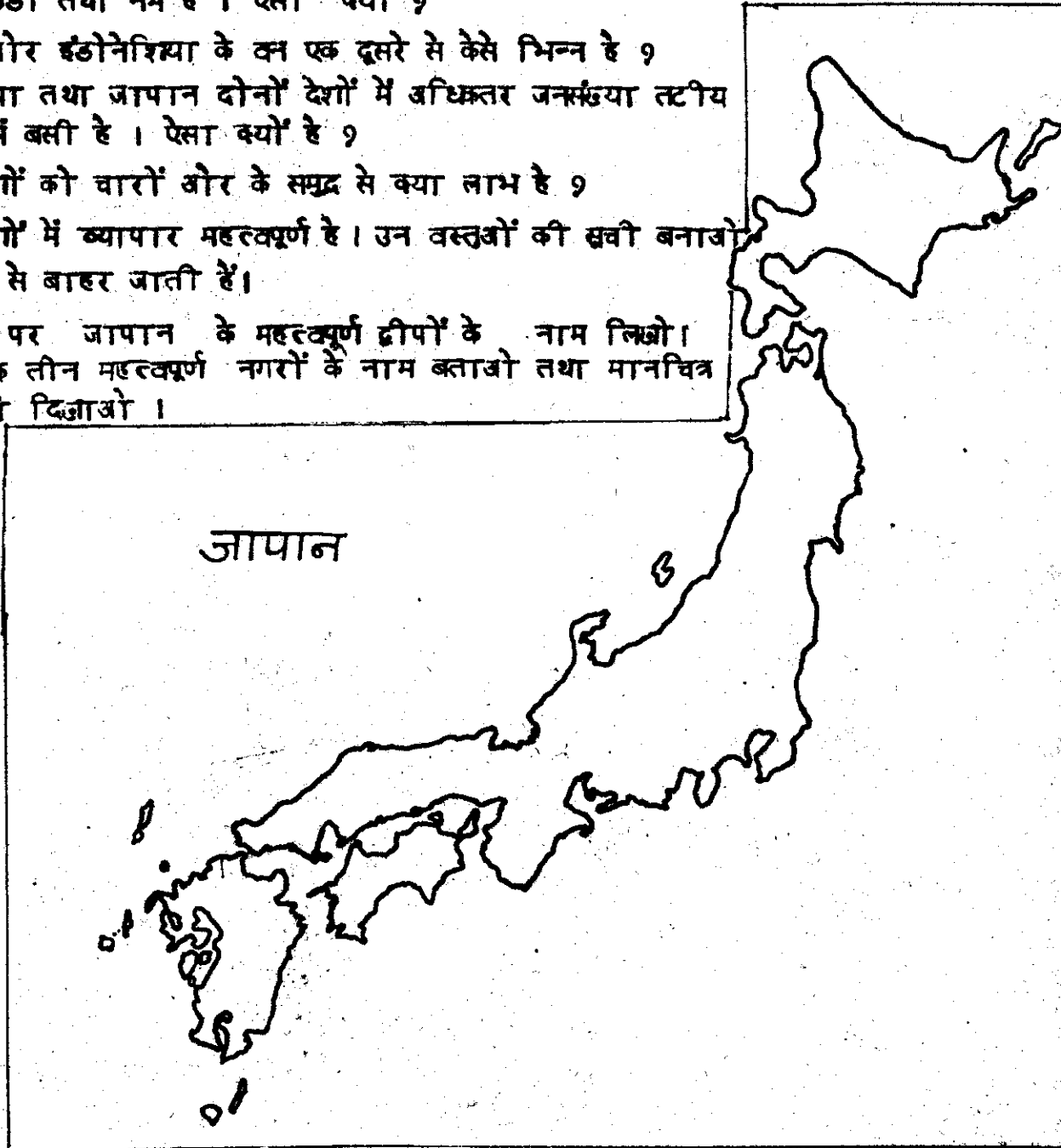
सोचो अगर कांक्रिट के मकान बार-बार टूट जाएं तो लोगों को कितना खतरा और नुकसान हो।

पर अब जापान के लोग ऐसे पक्के मकान बनाने लगे हैं जो भूकंप के धक्के से आसानी से नहीं टूटते।

## अभ्यास के लिए प्रश्न

### जापान तथा इंडोनेशिया की तुलना -

1. जापान तथा इंडोनेशिया में प्राकृतिक बनावट की दृष्टि से निम्न लिखित में से समानताएं बताओ -  
अ- ये दोनों देश द्वीप समूह हैं/ प्रायद्वीप हैं.  
ब- इन देशों में पर्वतीय प्रदेश अधिक हैं/यहां मैदान अधिक हैं.  
स- यहां अनेक ज्वालामुखी हैं / यहां अनेक पठार हैं.
2. इंडोनेशिया की जलवायु गर्म तथा नम है, जबकि जापान की जलवायु ठंडी तथा नम है। ऐसा क्यों ?
3. जापान और इंडोनेशिया के उन एक दूसरे से कैसे भिन्न है ?
4. इंडोनेशिया तथा जापान दोनों देशों में अधिकतर जनसंख्या तटीय मैदानों में बसी है। ऐसा क्यों है ?
5. दोनों देशों को चारों ओर के समुद्र से क्या लाभ है ?
6. दोनों देशों में व्यापार महत्वपूर्ण है। उन वस्तुओं की सूची बताओ जो यहां से बाहर जाती हैं।
7. मानचित्र पर जापान के महत्वपूर्ण द्वीपों के नाम लिखो।
8. जापान के तीन महत्वपूर्ण नगरों के नाम बताओ तथा मानचित्र पर उनको दिखाओ।





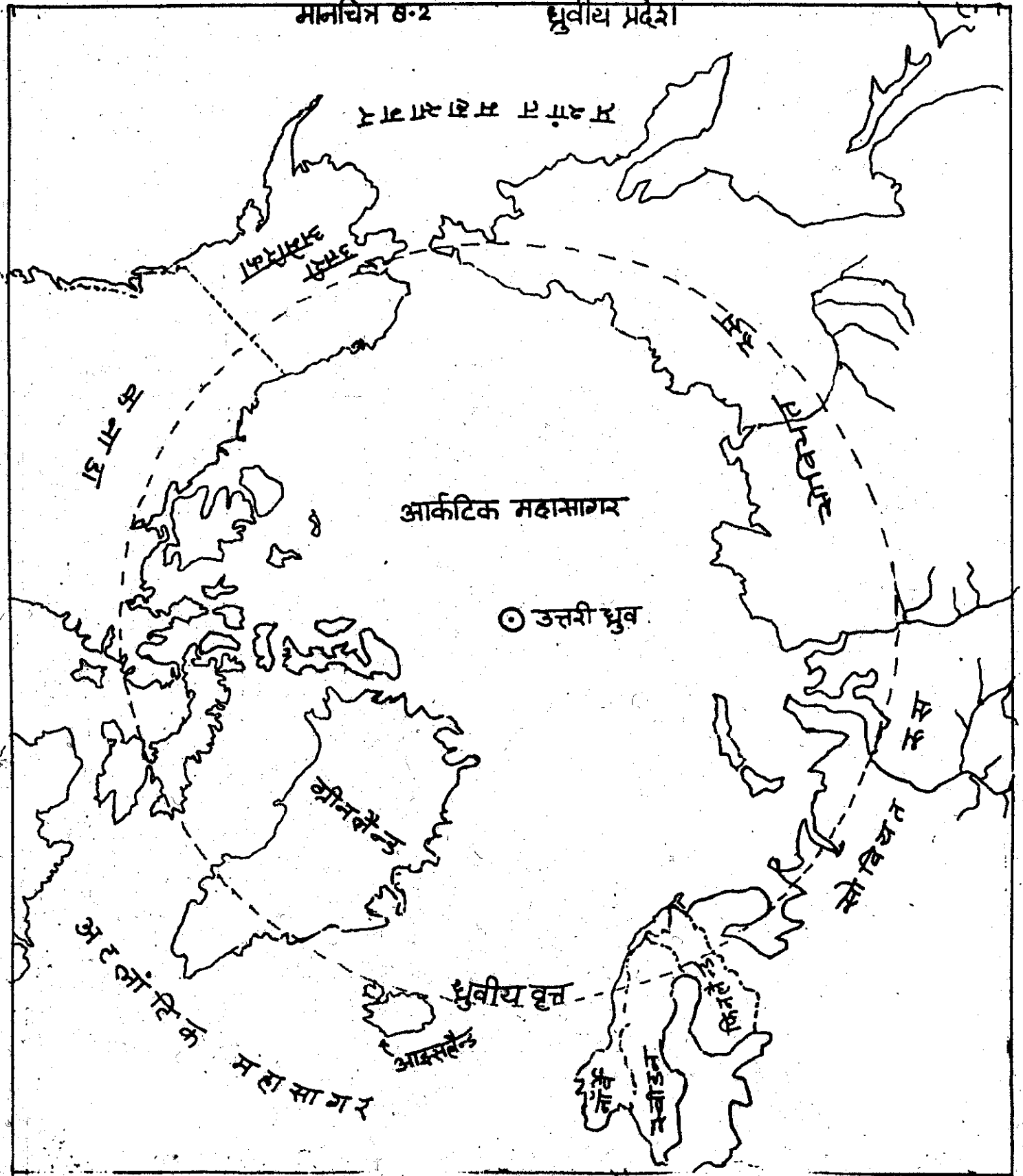
इस पाठ में हम एक ऐसे प्रदेश के बारे में पढ़ेंगे जो हमारे अनुभव से बहुत अलग है। वह एक ऐसा प्रदेश है जहाँ कई महीने लगातार रात रहती है और कई महीने लगातार दिन। हमारे यहाँ जैसे वहाँ पर सूरज रोज़ सुबह उगकर शाम को डूबता नहीं है। क्या तुम ऐसी जगह के बारे में कल्पना कर सकते हो ?

वहाँ इतनी ठंड पड़ती है, इतनी ठंड पड़ती है कि चारों तरफ बर्फ ही बर्फ जमी रहती है। जमीन पर बर्फ, झीलों पर बर्फ, नदियों पर बर्फ और पूरा सागर का सागर ही बर्फ बना रहता है। पृथ्वी के इस क्षेत्र को ध्रुवीय प्रदेश कहा जाता है।



चित्र 8.1. ऐसे दिखते हैं ध्रुवीय प्रदेश। इस दृश्य का अपने शब्दों में वर्णन करो।

यह प्रदेश कहाँ है ? तुमने ग्लोब पर देखा होगा कि पृथ्वी पर दो ध्रुव हैं - उत्तरी ध्रुव और दक्षिणी ध्रुव। मानचित्र 8.2 को देखो। इस मानचित्र में उत्तरी ध्रुव के आसपास का क्षेत्र दिखाया गया है। सब से बीच में आर्कटिक महासागर है। यहाँ बीचों बीच बर्फ की मोटी तह जमी रहती है। ग्लोब पर इसे देखो। लगता है यह सागर पृथ्वी पर बर्फ की टोपी है।



चित्र (8.3) में इस महासागर की बर्फ की चट्टानों को देखो - जहाज उससे घिरा हुआ है। क्या यह यहाँ से निकल पायेगा ?

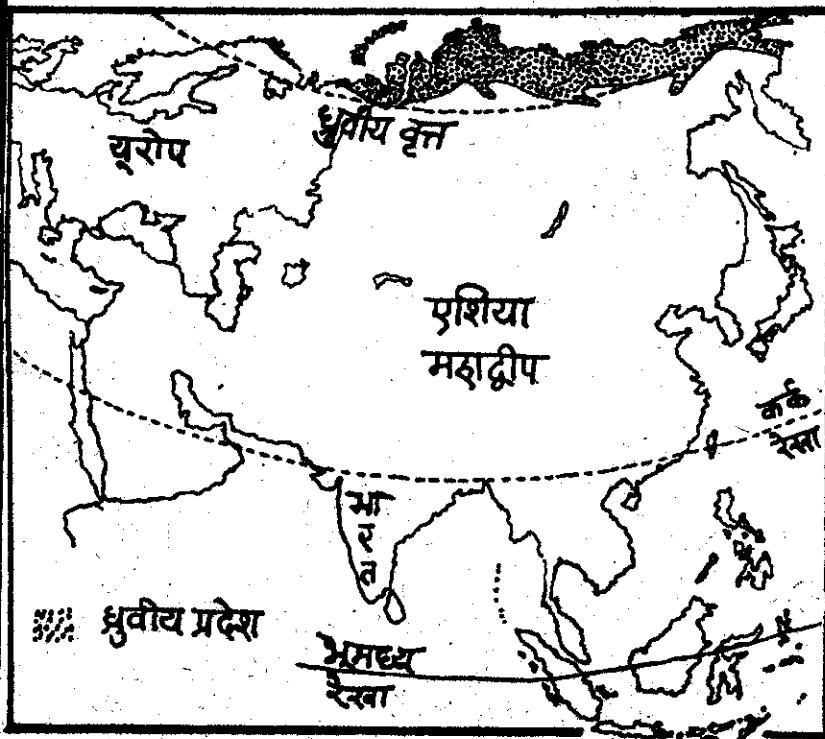
- मानचित्र(8.2) से पता करो कि आर्कटिक महासागर के आसपास कौन से देश हैं ? इनके नाम अपनी कापी में लिख लो।

इन सभी देशों का उत्तरी हिस्सा जहाँ अधिक ठंड होती है, टुंड्रा प्रदेश कहलाता है।

- क्या टुंड्रा प्रदेश कोई अलग देश है ? अगर नहीं तो उस प्रदेश में किस-किस देशों का हिस्सा शामिल है ?

एशिया का जो हिस्सा टुंड्रा प्रदेश में शामिल है, उसे मानचित्र(8.4) में दिखाया गया है।

#### मानचित्र 8.4 एशिया के ध्रुवीय प्रदेश



चित्र 8.3

- यह हिस्सा कौन से देश में है ? अपनी कापी पर उस देश का नाम लिखो।

नक्शे में इंडोनेशिया, भारत और जापान भी पहचानो और देखो कि टुंड्रा प्रदेश इन सब से ज्यादा उत्तर में है। भूमध्य रेखा से बहुत दूर, बिल्कुल ध्रुव के पास। इसीलिए इस इलाके को ध्रुवीय प्रदेश भी कहते हैं।

#### जलवायु और वनस्पति

टुंड्रा प्रदेश की सबसे प्रमुख बात है यहाँ की ठंड। यहाँ इतनी ठंड होती है जिसका जंदाजा लगाना कठिन है। जापान की ठंड टुंड्रा की ठंड के मुकाबले में कुछ भी नहीं है।

यहाँ सिर्फ तीन महीने मौसम कुछ गर्म रहता है। नौ महीने सूर्य वासमान में ही नहीं दिखता और कठिन जाड़ा पड़ता है।

इस ठंड का मुख्य कारण है यहां के दिन-रात का एक अजीब चक्कर । अपने यहां रोज सुबह सूरज उगता है और शाम को डूब जाता है । मगर दुंड्रा प्रदेश में ऐसा नहीं होता ।

यहां लगभग तीन महीने लगातार रात होती है । तब सूरज की रोशनी यहां बिल्कुल नहीं रहती । फिर अगले तीन महीनों में भी सूरज तो दिखता नहीं है मगर सूर्योदय से पहले हमारे यहां जैसा उजाला रहता है, वैसा उजाला लगातार बना रहता है । उसके बाद अगले तीन महीनों तक दुंड्रा प्रदेश में सूरज आसमान में दिखता रहता है, डूबता ही नहीं । लगातार तीन महीने "दिन" रहता है ।

पर कैसा दिन ?

अपने यहां सूरज आसमान के एक छोर (क्षितिज) से उदय होता है और धीरे-धीरे आसमान में ऊपर चढ़ता दिखता है, फिर शाम को दूसरी तरफ (पश्चिम दिशा में) उतरता दिखता है । ऐसा कुछ दुंड्रा प्रदेश में नहीं होता है । वहां सूरज दिन भर आसमान के छोर (क्षितिज) के पास ही मंडराता रहता है । न ऊपर चढ़ता है न अस्त होता है । इस कारण इस समय बहुत हल्की गर्मी पड़ती है । यही तीन महीने वहां का गर्मी का मौसम है ।


इसके बाद तीन महीने फिर सूरज नहीं दिखता, पर लगातार शामसी रोशनी बनी रहती है । और इसके बाद फिर से तीन महीने रात रहती है ।

ऐसा क्यों होता है यह समझने के लिए तुम चाहो तो ग्लोब और मोमबत्ती

से प्रयोग करके देखो ।

दुंड्रा प्रदेश में गर्मी के तीन महीनों में भी बहुत ठंड रहती है । जाड़े के नौ महीनों की तुलना में जरूर ठंड कम हो जाती है । सूरज की हल्की किरणों के कारण गर्मी के महीनों में कुछ हिमपिघल जाती है, झीले भर जाती हैं । परन्तु सतह के नीचे मिट्टी जमी रहती है । मिट्टी पानी को सोखती नहीं है । धूम की कमी के कारण पानी भाप भी नहीं बन पाता है । इसी कारण जगह-जगह दलदल बन जाते हैं । नदियां जो सर्दी में जम जाती हैं, अब पिघलकर बहने लगती हैं । निकट के सागर का हिम भी पिघल जाता है ।

गर्मी के इन दो-तीन महीनों में अनेक पौधे, काई, लाइकेन नाम के घास (चित्र 8.5), छोटी झाड़ियां, बेरियां, सेज, बौने कूब आदि उग आते हैं ।



चित्र 8.5 लाइकेन

- बताओ यहाँ केवल गर्मियों के महीनों में ही क्यों पेड़-पौधे उगते हैं ?

चट्टानों सतह के बीच-बीच में जहाँ भी मिट्टी इकट्ठी हो जाती है यह वनस्पति उग आती है। तेज तूफानी हवा के कारण यहाँ बड़े वृक्ष ही नहीं पाते - दूट जाते हैं। इसीलिए यह अधिकतर वृक्ष विहीन प्रदेश है।

यह वनस्पति यहाँ के जानवरों के लिए भोजन के काम आती है। गर्मियों के महीनों में इन्हें खाने के लिए तरह-तरह के जानवर यहाँ आते हैं।

जिन नौ महीनों में सूरज नहीं चमकता है, कड़ाके की ठंड पड़ती है। तुम जानते होगे कि जब वृक्ष ठंड पड़ती है तो पानी जमकर बर्फ बन जाता है। जिस ठंड में पानी बर्फ बन जाता है उससे भी 50 डिग्री अधिक ठंड टुंड्रा प्रदेश में पड़ती है।

जब ऐसी ठंड पड़ती है नदियाँ, झील, समुद्र सब जम जाते हैं। तेज बर्फीली हवाएं चलती रहती हैं।

### ध्रुवीय प्रदेश के जानवर भी हमारे

गांय, भैंस, हाथी, घोड़ों से कितने अलग हैं। और नाम भी अजीब-अजीब। चलो इनमें से कुछ से परिचित हो जाएं।

रेनडियर : चित्र 8.6 देखो। यह यहाँ का एक प्रमुख जानवर है। वास्तव में यह हिरण परिवार का ही सदस्य है। अन्तर यह है कि इसका सिर बहुत बड़ा होता है और दोनों नर और मादा में बारह-सींग जैसे बड़े-बड़े सींग होते हैं।

करैबो : यह जानवर रेनडियर का ही एक किस्म है। इसकी रोपदार छाल (समूर) से लोग कोट बनाते हैं।

- तुम सोचो कई महीने यदि सूर्य न दिखे और बर्फ पड़े तो क्या पेड़ पौधे जिन्दा रह सकते हैं ?

सर्दियों के महीनों में यहाँ सभी वनस्पति मर जाती है, चारों ओर अधारा, वीरान, उजाड़ प्रदेश हो जाता है। जानवर भी इस प्रदेश को छोड़ जाते हैं। चिड़ियां तक यहाँ से उड़ जाती हैं।

- अगर तुम अपने आप को ऐसी जगह पर पाओ जहाँ तीन महीने रात और तीन महीने दिन हो और भयंकर ठंड हो तो तुम क्या करोगे, कैसे रहोगे ? आगे पढ़ने में पहले अपनी कल्पना से इस विषय पर एक कहानी लिखो।

तुम्हें शायद लगता होगा कि ऐसी जगह लोग नहीं रह सकते हैं। आश्चर्य की बात है कि ऐसी जगह भी हम जैसे लोग रहते हैं। एशिया के इस प्रदेश के लोग याकुत, चुक्ची और सेमीयाड नाम से जाने जाते हैं। वे टुंड्रा प्रदेश अधिकतर खाली है - यहाँ रहने वाले लोगों की संख्या बहुत कम है।

चित्र 8.6 रेनडियर




ये लोग यहाँ कैसे रहते होंगे - क्या खाते पीते होंगे ?

इतने ठंड और बर्फीले प्रदेश में खेती करना तो असंभव है । पेड़ - पौधे यहाँ बहुत कम उगते हैं और वह भी दो तीन महीनों के लिए ।

अपने यहाँ हम पेड़- पौधों पर ज्यादा और जानवरों पर कम निर्भर हैं । हमारा मुख्य भोजन पौधों से आता है । जलाने के लिए पेड़ों से लकड़ी तोड़ लाते हैं । झोंपड़ी, घर बनाने में भी लकड़ी का इस्तेमाल करते हैं । पहनने के लिए कपास का उपयोग करते हैं । मगर टुंड्रा प्रदेश में इसके विपरीत है । वहाँ के लोगों का जीवन जानवरों पर ही निर्भर है । यह कैसे, आगे देखते हैं ।

टुंड्रा प्रदेश के लोगों का मुख्य धंधा शिकार, मछली मारना और पशुपालन है।

इसका मुख्य भोजन मांस है । अनाज सब्जी, फल आदि इन्हें बहुत कम मिलता है । ये लोग धुवीय भालू, रेनडियर, करेब, खरगोश, लोमड़ी आदि जानवरों का शिकार करते हैं । चित्र 8.10 व 8.11 को देखो, वहाँ के कुछ लोगों को शिकार करते हुए दिखाया गया है ।




चित्र 8.11 "हारपून" से सील का शिकार ।



**धुवीय भालू :** चित्र (8.7) बर्फ पर रहने वाला यह भालू बिल्कुल सफेद खाल का होता है और बहुत ही खतरनाक होता है । इसकी खाल के लिए इसका खूब शिकार किया जाता है ।

**सील :** (चित्र 8.8) तैरने वाले इस जानवर का खूब शिकार होता है । इसकी खाल से कोट बनाए जाते हैं । इस की खाल बहुत मुलायम व गरम होती है । सील से चमड़ा तथा तेल बरामद किया जाता है ।

चित्र 8.7 धुवीय भालू चित्र 8.8 सील



नदियों, झीलों और सागर में अनेक जानवर, जैसे सील मछली, वालरस, व्हेल मछली मिलती हैं। ऐसे जानवरों का ये कैसे शिकार करते हैं? गर्मी के मौसम में जब नदी, झील व सागर में पानी होता है तब वे नावों में जाकर उनका शिकार करते हैं। पर कैसे होती है इनकी नाव ?

जानवरों की छाल को हड्डी या लकड़ी के टाचि पर मढ़कर यह लोग नाव बनाते हैं। ऐसी नाव को 'क्याक' कहते हैं।

सर्दियों में जब पानी पर बर्फ जम जाती है यह लोग बर्फ में छेद करके हारपून से सील मछली का शिकार करते हैं।

हथियारों में तीर कमान का हस्ते-माल अभी भी यहां होता है। इसके अलावा बड़े-बड़े जानवरों की लंबी हड्डियों से यह लोग एक नुकीला हथियार बनाते हैं, जिसे हारपून कहते हैं। चित्र (8.11) में हारपून को देखो। आजकल तो कई जगहों पर बन्दूक आदि आधुनिक हथियार भी पहुंच गए हैं।

चित्र 8.9 वालरस



वालरस : (चित्र 8.9) यह भी एक तैरने वाला जानवर है और इसका संबंध सील परिवार से है। लेकिन यह सील से बहुत अलग दिखता है। हाथी की तरह इस

के दो बड़े-बड़े दांत होते हैं, और लंबी-लंबी मूँछ होती है। एक नर वालरस का वजन 1000 किलो से भी अधिक होता है। इतना भारी भटक होने के बावजूद भी यह जानवर चतुराई से तैरता है। अपनी मूँछ से यह कीचड़ को छानकर पानी में रहने वाली अनेक मछलियों को खाता है। वालरस बड़े-बड़े झुंडों में इकट्ठे रहते हैं।

इन जानवरों के अलावा दुंड्रा प्रदेश में खरगोश, लोमड़ी जैसे जानवर भी पाए जाते हैं और कुछ पक्षी भी।

पशुपालन : सोवियत रूस के टुंड्रावासियों की विशेषता यह है कि इन्होंने रेनडियर को पालतू बना लिया है। रेनडियर इन लोगों के जीवन का एक प्रमुख साधन है। यह वहाँ की गाड़ी छींचता है, इस पर सवारी की जाती है और इसका मांस खाया जाता है। इसकी छाल से तम्बू व नाव बनती हैं और इसकी हड्डियों से औजार भी। अधिकतर रेनडियर-पालक 20-25 रेनडियर रखते हैं। मगर कुछ कबीलों के पास सैकड़ों रेनडियर भी होते हैं।

तुम्हें अब तक स्पष्ट हो गया होगा कि इनका जीवन इनके जानवरों पर ही निर्भर है। इन लोगों का कपड़ा भी इन्हीं जानवरों की देन है। रेनडियर, करैबू व अन्य जानवरों की रोयेदार छाल से इन लोगों के कपड़े बनते हैं।



चित्र 8.13

खूटे, मोजे, टोपी सब रोयेदार छाल के ही होते हैं।

तुमने देखा कि टुंड्रा के लोग जानवरों का शिकार करते हैं और कुछ पशु भी पालते हैं। इस कारण वे एक ही जगह बसकर नहीं रह पाते। शिकार की तलाश में और चारे की तलाश में घूमते रहते हैं। वे गर्मी के मौसम में टुंड्रा प्रदेश में रहते हैं। उस समय वहाँ छोटे पौधे उग आते हैं। इन पर उनके रेनडियर चरते हैं। फिर अन्य कई जानवर यहाँ इस समय शिकार के लिए मिलते हैं। जाड़ा आने पर पूरे प्रदेश में क्लस्पति मर जाती है, बर्फ जम जाती है और अधरा ही अधरा रहता है। जानवर भी इस प्रदेश को छोड़ जाते हैं। यहाँ के लोग भी अपना घर बार बांधकर, जानवरों को साथ लेकर दक्षिण के वनों की ओर चल पड़ते हैं।

चित्र 8.14

इन दो चित्रों को देखकर तुम अंदाज लगा सकते हो, कि टुंड्रा प्रदेश के लोगों के कपड़े कैसे होंगे। उनके कपड़े



दक्षिण के वनों में भी खूब ठंड पड़ती है, पर दुंड्रा प्रदेश से कम । यहाँ सूरज भी आसमान में चमकता है । इस तरह दक्षिण के वनों में फिर भी जलाऊ लकड़ी, चारा और शिकार मिल जाता है । गर्मी के दिनों में ये लोग फिर दुंड्रा प्रदेश में लौट आते हैं ।

इन लोगों का साल का बहुत सा समय एक जगह से दूसरी जगह घूमने में निकल जाता है ।

घूमते रहने के कारण यह लोग अधिकतर तंबुओं में ही रहते हैं । चित्र 8-15 को देखो ।

ये तम्बू लकड़ी या हड्डियों के टाँचे पर छाल को पेसाकर बनाए जाते हैं । ठंड के मौसम में तम्बू पर बर्फ और मिट्टी बिछा देते हैं ताकि तम्बू के अंदर की गर्मी बाहर न निकले । तम्बू के अंदर चर्बी या लकड़ी जलायी जाती है । एक और प्रकार का घर तो पत्थर और


दलदल की मिट्टी से बना है, चित्र 8-16 में देखो ।

हमने देखा कि ये लोग लगातार एक जगह से दूसरी जगह चलते रहते हैं । तो अपना सामान कैसे ढोते होगे ?

इसके लिए यह लोग बर्फ पर चलने वाली एक गाड़ी इस्तेमाल करते हैं, जिसे स्लेज कहते हैं । यह जानवरों की हड्डियों से बनी होती है । इसमें पहिए होते ही नहीं हैं क्योंकि इसे तो आमतौर पर बर्फ पर ही खींचना होता है । स्लेज बर्फ पर पिस्तकती हुयी चलती है ।

चित्र (8-17) को देखो ।

इस गाड़ी को खींचने का काम करते हैं रेन्डियर या कुत्ते । दुंड्रा प्रदेश के लोग इन स्लेजों पर सैकड़ों मील की यात्रा करते हैं ।



रहन सहन में बदलाव : समय के साथ-साथ टुंड्रा प्रदेश के लोगों के रहन-सहन में बदलाव आने लगे हैं । सोवियत रूस की सरकार इस प्रयत्न में है कि यहाँ के लोग एक जगह पर बसकर रहें और एक ही जगह रेन्डियर के विशाल झुण्ड पाले जाने का इंतजाम हो ।

लकड़ी के घर, बिजली, मोटर से चलने वाली "क्याक" व स्लेज, बंदूक आदि चीजें यहाँ पहुँचने लगी हैं । इस प्रदेश में

अनेकों जगह खनिज तेल, हीरे, सोना आदि मिलता है । इस कारण अन्य प्रदेश के लोग अधिक मात्रा में वहाँ जाने लगे हैं । टुंड्रा प्रदेश तक हवाई - जहाज का सफर भी शुरू हो गया है । चित्र 8.18 को देखो ।

● क्या तुम टुंड्रा प्रदेश जाना चाहोगे? बर्यों १ ऊपर दिए पाठ से कुछ कारण बताओ ।



चित्र 8.18 हवाई जहाज से माल आया है । रेन्डियर के स्लेज से लोगों तक पहुँचगा ।

अभ्यास के लिए प्रश्न -

---

1. टुंड्रा प्रदेश में दिन रात का चक्र कैसा होता है ? लिखो ।
2. इंडोनेशिया तथा टुंड्रा प्रदेश में तुलना कर के बताओ कि दोनों जगहों पर रोज़ आकाश में सूर्य के पथ में क्या अन्तर है ?
3. टुंड्रा प्रदेश में कैसी वनस्पति होती है ? यह प्रदेश क्या विहीन प्रदेश क्यों कहलाता है ?
4. टुंड्रा प्रदेश में गर्मी का मौसम कैसा होता है ? बताओ ।
5. यहाँ के लोग छेती क्यों नहीं करते ?
6. टुंड्रा प्रदेश के लोग जाड़े में कहाँ चले जाते हैं, और क्यों ? वे गर्मी में फिर टुंड्रा प्रदेश क्यों लौट आते हैं ?
7. यहाँ के लोग बिना पहिए की गाड़ी क्यों बनाते हैं ?
8. यहाँ के लोग अपने घर कैसे बनाते हैं ?
9. टुंड्रा प्रदेश में बहुत कम लोग क्यों रहते हैं जबकि अपने देश में बहुत लोग रहते हैं ?
10. हमने अब तक तीन जगहों के लोगों के बारे में पढ़ा है - इंडोनेशिया, जापान और टुंड्रा । इनमें से कहाँ के लोग मुख्य रूप से कारखानों पर निर्भर करते हैं, कहाँ के लोग वनस्पति पर अधिक निर्भर रहते हैं और कहाँ के लोग जानवरों पर ?

\*\*\*\*\*

# पाठ-१ ईरान

भारत के पश्चिम में देश है ईरान ।  
एशिया के मानचित्र में देखो वह कहाँ  
दिखा है ।

● भारत से यदि हम जमीन के रास्ते  
ईरान जाना चाहें तो हमें कौन से  
अन्य देश पार करने होंगे ?

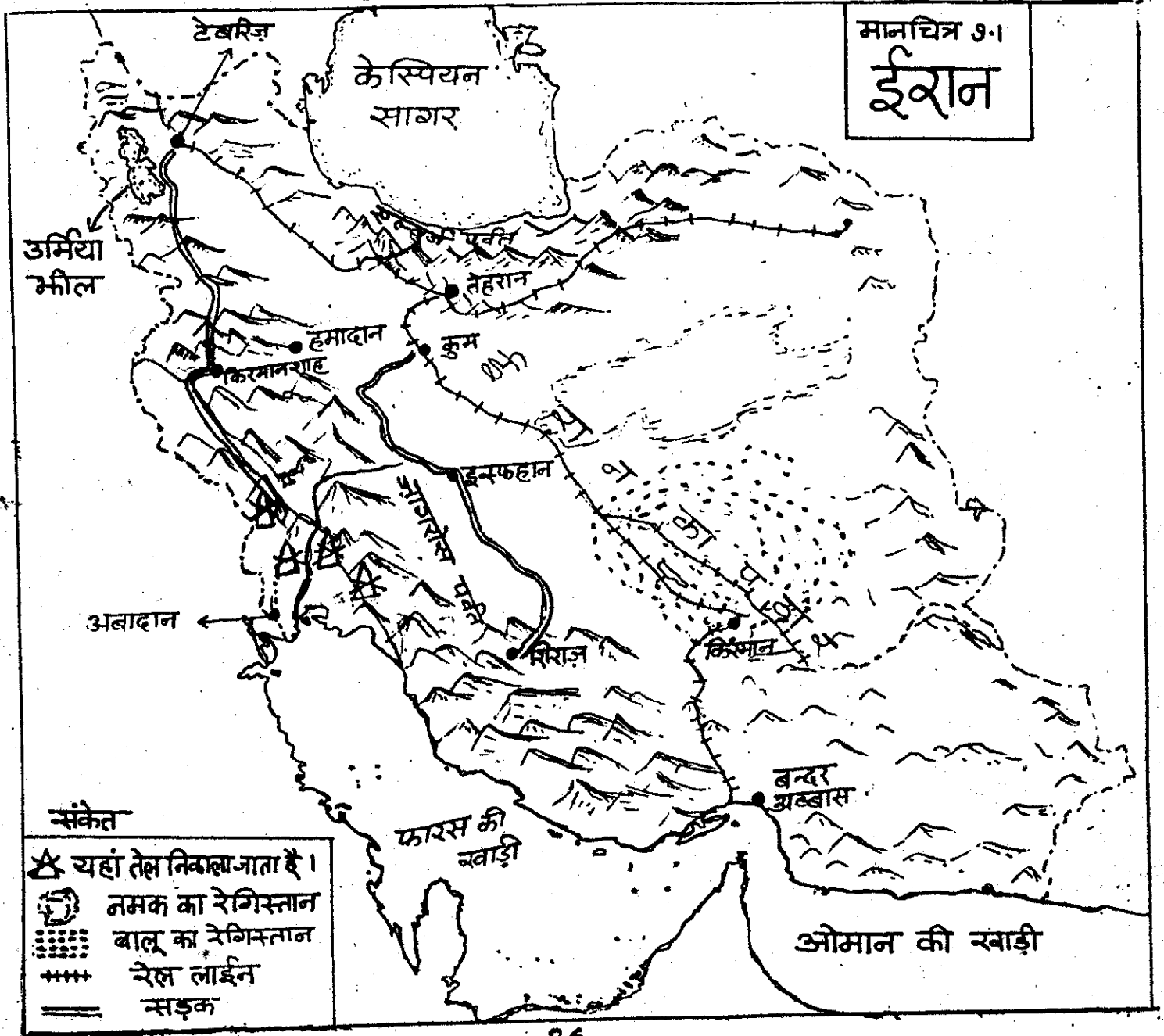
यदि बम्बई से जलयान में बैठकर  
हम ईरान जाना चाहें तो किन  
छाड़ियों व सागरों को पार करना  
होगा ?

● ईरान के पड़ोस में और कौन से  
देश हैं ?

ईरान के उत्तर में "केस्पियन  
सागर" नाम की एक बड़ी झील  
है । इसे भी एशिया के नक्शों में  
देखो ।

ईरान भूमध्य रेखा से कितनी दूर  
है - ग्लोब में देखो ।

यह रहा ईरान देश का नक्शा ।(१०१)



इसे ध्यान से देखोगे तो पाओगे कि ईरान देश का आकार कटोरे जैसा है ।

- ईरान देश के किनारे-किनारे पर चारों ओर क्या हैं 9 उनके नाम नक्शे में से जानो ।

किनारों से हट कर अब ईरान देश के बीच में आओ ।

- यह इलाका कैसा है - नक्शा देखकर वर्णन करो ।

ईरान में समुद्र तट के इलाके कौन से हैं - पहचान कर अपने पेन से उन पर लकीर पेर दो ।

ईरान में कोई बड़ी नदी नहीं बहती । जैसे उसके पड़ोसी देश इराक में दजला और फरात नाम की दो बड़ी नदियों के मैदान हैं, वैसे मैदान ईरान में नहीं हैं ।

अब चलो, बारी-बारी, ईरान के बीच के पठार, फिर उसके पहाड़, फिर उसके समुद्र तट को देखें - वहाँ के लोगों के जीवन को समझें ।

ईरान का अधिकतर भाग पठार है । (पठार क्या होता है - अगर तुम नहीं जानते हो तो गुरुजी से पूछ कर समझो ।)

ईरान का पठार बिल्कुल सूखा इलाका है । यहाँ बहुत ही कम वर्षा होती है । तुम्हें पठार में कुछ रेगिस्तान भी दिखे होंगे । बहुत ही कम वर्षा के कारण नदियों में पानी भी कम बहता है । चारों ओर के पहाड़ों से बह कर आई छोटी-छोटी नदियाँ बीच के पठार में आकर सूख जाती हैं ।

तुम जानते हो कि जब अपने यहाँ भी खूब गर्मी पड़ती है तो पेड़-पौधे सूख जाते हैं, नदियों, नालों में पानी कम हो जाता है । ऐसे में पानी न गिरे तो हालत और भी खराब हो जाती है ।

ईरान के पठार में लगभग पूरे साल ऐसी सूखे की स्थिति बनी रहती है । यहाँ तक कि दक्षिण और पूर्व में जो पहाड़ हैं और दक्षिण में पहाड़ों के नीचे जो समुद्र तट है, वहाँ भी बहुत कम वर्षा होती है । ईरान के और भागों में इतना सूखा मौसम नहीं होता । पश्चिमी और उत्तरी भागों में तो अच्छी खासी वर्षा हो जाती है । इस लिए वहाँ नदी नाले बहते हैं । उनके किनारे उपजाऊ मिट्टी के मैदान होते हैं, जहाँ खेती भी की जाती है । इन इलाकों में जाड़े के मौसम में वर्षा होती है । पहाड़ों पर बर्फ गिरती है, जो पिघल कर नदियों में बहती है ।

ईरान में जाड़े में खूब ठंडा मौसम रहता है । जैसा पंजाब या कश्मीर में । लेकिन गर्मी में गर्मी भी बेहद होती है । जैसे अपने यहाँ गर्मी का मौसम होता है, उससे भी कुछ अधिक ।

तुम जानते हो कि जब तक वर्षा नहीं होती मई, जून में कितनी गर्मी होती है । ईरान के पठार में तो वर्षा ही बहुत कम होती है, तो सोचो गर्मी कितनी ज्यादा होती होगी 9

चित्र 9.2 ईरान के सूखे इलाके ऐसे दिखते हैं -

### ईरान के सूखे इलाके

ऐसे सूखे इलाके में क्या पेड़ उगेगी 9 थोड़ी वर्षा में जंगल तो हो नहीं सकते- सिर्फ कुछ घास व झाड़ियां उग पाती हैं । चित्र (9.2) देखो

- क्या पहाड़ों पर कुछ वनस्पति है 9 पहाड़ों के नीचे क्या उगा दिखता है 9 इन चित्रों से वहाँ के लोगों के बारे में तुम क्या जान रहे हो, 5-6 वाक्यों में लिखो ।

यहाँ की सूखी और तेज गर्मी की जलवायु में क्या खेती हो सकती है 9 क्या ऐसे क्षेत्र में बहुत ज्यादा लोग रह सकते हैं 9 यदि लोग हों

तो उन्हें क्या भोजन मिलेगा 9

ईरान के सूखे इलाकों में रहने वाले लोगों का मुख्य धंधा पशुपालन ही है । पशुपालन के सहारे कई हजार लोग रहते हैं । यहाँ कई पशुपालक जातियाँ हैं जिन्हें सुर, बखितयार, बलुची, काश्काई आदि नामों से जाना जाता है । ये कबीले झाड़ियों और घासों पर अपने भेड़-बकरी चराते फिरते हैं ।

- उपर दिए चित्रों में और कौन सा जानवर है 9 यह किस काम आता होगा 9 क्या तुम सोच सकते हो कि ये लोग भेड़-बकरी की जगह गाय भैंस क्यों नहीं पालते 9

ये पशुमालक कबीले दोनों तरफ पहाड़ की तलहटी में रहते हैं। जाड़े में पहाड़ पर तो ठंड खूब रहती है, इसलिए नीचे एक तरफ पठार पर व दूसरी तरफ समुद्र के तट पर, वे अपने जानवर चराते फिरते हैं (चित्र 9.3)।

गर्मी आते-आते जब नीचे का चारा भी खत्म होने लगता है, ये लोग पहाड़ों पर अपने जानवरों को चराने चल पड़ते हैं। गर्मी में पहाड़ों पर बर्फ के पिघलने से कुछ हरियाली हो जाती है, नई मुलायम घास उग आती है। जबकि नीचे पठार पर तो गर्मी के मौसम में कुछ उगता ही नहीं। बताओ घास के अलावा जानवरों को और किस चीज की जरूरत होती है ? तो ये कबीले

ऐसे भागों से होकर जाते हैं जहां उन्हें और उनके पशुओं को पानी मिल सके।

जानवरों को लेकर घूमने वाले ये लोग अपना सामान लादने के लिए गधे और घोड़े भी पालते हैं। बहुत सूखे भागों में इस काम के लिए ऊँट भी पालते हैं।

- बहुत सूखे भागों में ऊँट ज्यादा काम क्यों देता है - बता सकते हो ?

अपने भेड़ों को चराते फिरते ये लोग क्या एक जगह मकान बनाकर रह सकते हैं ? तुम ध्रुवीय प्रदेश के पशुमालक लोगों के बारे में भी पढ़ चुके हो। वे लोग अपने घर रेन्डियर की खाल के बनाते हैं।

चित्र 9.3

एक बूढ़ा काश्काई चरवाहा अपनी भेड़ों को उच्च पहाड़ों पर गर्मी में उगी मुलायम घास चराते हुए। वह एक महीने पहले पारस की खाड़ी के पास के तट से चला था और 200 मील लंबी यात्रा पूरी कर यहां पहाड़ों के चारागाहों पर पहुंचा है।

एक पशुपालक कबीले का  
केम्प ।

चित्र 9.4 में देखो ईरान  
के पशुपालक लोगों का  
एक केम्प ।  
उन्के तम्बू किस चीज के  
बने होंगे ?

भेड़ों से इन्हें बहुत ऊन  
मिलता है । उन का  
कपड़ा या नमदा बनाकर  
उसे लकड़ी के ढाँचे पर  
तान कर तम्बू बनाए जाते  
हैं ।

लोग कुछ दिन

इन तम्बूओं में रहते हैं, फिर चारे की  
तलाश में आगे बढ़ना होता है तो तम्बू  
उखाड़कर, जानवरों पर लादकर दूसरी  
जगह चल देते हैं ।



चित्र 9.5 नज़लिस्तान

इन लोगों को बहुत सा भोजन भी  
अपने पशुओं से मिल जाता है, जैसे-दूध  
व मांस । जरूरत की अन्य चीजें ये  
लोग दूसरे लोगों से खरीद लेते हैं ।  
बदले में उन्हें चमड़े व ऊन की बनी चीजें  
दे देते हैं ।


#### नज़लिस्तान

पठार के बीच में बहुत सूखे भाग में  
रेगिस्तान है - जहाँ सिर्फ रेत ही रेत  
मिलती है । जैसे अपने देश में राजस्थान  
में थार रेगिस्तान है । ईरान में भी  
रेगिस्तानी इलाकों में केवल वहीं लोग  
रहते हैं जहाँ पानी के लिए कुँए या  
फिर सोते हैं या जहाँ जमीन के नीचे  
पानी मिल जाता है । ऐसी जगहों को  
नज़लिस्तान कहा जाता है ।

चित्र 9.5 में देखो एक नज़लिस्तान  
का दृश्य । पानी के कारण यहाँ पेड़-  
पौधे दिख रहे हैं । यह किस चीज के



पेड़ हैं? छत्र ऐसे प्रदेशों में बहुतायत से होता है।



अधिक पानी मिलने पर न्हालिस्तान में रहने वाले लोग सिंचाई कर के कुछ अनाज भी उगा लेते हैं। कई जगहों पर तो पानी के लिए जमीन के नीचे नालियां बना ली गई हैं। ये कई मील लम्बी होती हैं। चित्र 9.6 देखो। पानी के लिए इन लोगों को कितना प्रबन्ध करना होता है।

चित्र 9.6 भूमिगत नालियां।



भूमिगत नाली - इसमें पानी बहता है। नाली के ऊपर जमीन में बनाए गए छेद - इसमें से पानी निकाला जाता है।

**उत्तर और पश्चिम के पहाड़**

बीच के पठार और रेगिस्तान से निकलकर चलो ईरान के पश्चिम और उत्तर के पहाड़ों पर पहुँचें। तब जान चूके हों कि यहाँ काफी वर्षा होती है। यहाँ पहाड़ों पर जंगल भी मिलते हैं। चित्र 9.7 देखो। चित्र देखकर लगता है न कि यहाँ कुछ वर्षा होती होगी।



चित्र 9.7 पहाड़, जंगल व वन।

● इस जंगल में कैसे वृक्ष हैं 9 नुकीली पत्ती वाले या चौड़ी पत्ती वाले 9

बहुत उंचे पहाड़ों पर जहां वर्षा जमी रहती है, नुकीली पत्ती के कोण-धारी पेड़ भी मिलते हैं ।

जहां भी पहाड़ों के बीच थोड़ी भी छेती के लिए जमीन मिल गई है, लोग गांव बसाकर रहने लगे हैं । तुमने जापान और इंडोनेशिया में भी देखा था कि पहाड़ों पर बहुत ज्यादा लोग नहीं रहते - बस, कहीं-कहीं छोटी बस्तियां

### केस्पियन सागर के तट का मैदान

अब चलो पहाड़ों से उतरकर ईरान के बिल्कुल उत्तर में पहुंचें । यह केस्पियन सागर के तट का मैदानी भाग है । यहां

होती हैं । ईरान की इन पहाड़ी बस्तियों के लोग अपने छेतों पर गेहू, कपास, तम्बाकू, जौ, चुकन्दर और तरह तरह के फल पैदा कर लेते हैं ।

इन छेती किसानों करने वाली बस्तियों को घुमक्कड़ कबीलों के हमले का डर बना रहता है । तो ये लोग उंची दीवारों के घर बनाते हैं । हमले से बचाव के लिए शहर के चारों ओर दीवार व मजबूत दरवाजे भी बनते हैं । ये लोग मुख्य रूप से रोटी और मांस खाते हैं । फल व सब्जी भी खाते हैं ।

सूख वर्षा होती है । अच्छी छेती होती है । तरह-तरह की फसलें, यहां तक कि चावल भी उगाया जाता है ।

इस इलाके के लोग रोटी के बजाय चावल ज्यादा खाते हैं। यहां पल्ल और मेवे भी सूख होते हैं। यहां का एक चित्र देखो (9.8) पहाड़ों के नीचे पेड़ और फिर हरे भरे छेत दिखते हैं।

इस चित्र में तुम वहां के लोगों का पहनावा भी देख सकते हो। ओरतें ढीला पजामा और कुर्ता पहनती हैं और सिर पर कपड़ा बांधती हैं। ईरान में आदमी कमीज और ढीला पजामा पहनते हैं। जाड़े में लम्बा कोट भी पहनते हैं।

### ईरान के नगर

ईरान जैसे सूखे देश में पानी का बहुत इंतजाम करना होता है। ईरान के नगर उन्हीं स्थानों पर बसे हैं जहां लोगों को पानी मिलता है। पर्वतों के बीच जहां पानी मिलता है, भूमिगत नालियों या सुरंगों से पानी नगरों तक लाया जाता है। परंपरागत व पुराने नगरों के बीच छोटी नहरें भी मिलती हैं।

इस तरीके से आसपास की भूमि की सिंचाई कर के खेती भी होती है। कई जगह जमीन के नीचे टंकियां बना कर उनमें भी पानी इकट्ठा करके रखा जाता है।

ईरान की राजधानी तेहरान है। तेहरान का चित्र देखो (9.9)। वह पर्वतों के नीचे बसा है।

- ईरान का मानचित्र देखकर बताओ कि तेहरान के पास कौन से पर्वत हैं ?

ईरान के अन्य प्रमुख नगर इस्पहान शिराज, अबादान, किरमानशाह आदि हैं। मानचित्र में इन नगरों को दूंटों।



चित्र 9.9. तेहरान

ईरान में आबादी भारत से बहुत कम है। पानी की प्राप्ति व भूमि के अनुरूप ही लोग बस गए हैं। जहां खेतिहर भूमि है वहां अधिक लोग बसे हैं।

पर, एक अन्य बहुमूल्य चीज ने ईरान को बहुत धन दिया है। वह है, खनिज तेल।


### ईरान में खनिज तेल

इंडोनेशिया में खनिज तेल निकालने और उसके उपयोग की बात तुमने पढ़ी थी। ईरान में खनिज तेल पुराने समय से थोड़ा बहुत जलाने के काम आता था। उस समय खनिज तेल रिस कर धरती के ऊपर बहने लगता था। उसको लोग इकट्ठा कर के जलाते थे।

पिछले सौ-डेढ़ सौ सालों से खनिज तेल मशीनों, वाहनों, हवाई जहाज आदि चलाने के काम में बहुत आने लगा। तब से इसकी मांग बढ़ी।

जोज के बाद ईरान के पश्चिमी भागों में खनिज तेल के कई क्षेत्र मिले। इनमें तेल का भंडार भी बहुत था। मांग के कारण नलकूपों द्वारा बड़े पैमाने पर तेल निकाला जाने लगा। (चित्र 9.10)

तेल निकालकर, पाईप लाईनों द्वारा पारस की खाड़ी तक लाया जाता है। आमतौर पर कच्चा तेल ही विदेशों को भेज दिया जाता है। चित्र (9.11) में तेल ले जाने वाली पाईप लाईन देखो। कुछ तेल अबांदान शहर के तेल शोधक कारखाने में साफ किया जाता है।



चित्र 9.10 जमीन में से खनिज तेल निकाला जा रहा है।


ईरान से बहुत सारे देश तेल खरीदते हैं, उनमें से प्रमुख हैं -

- |                             |             |
|-----------------------------|-------------|
| 1. जापान                    | 2. जर्मनी   |
| 3. यूगोस्लाविया             | 4. रोमानिया |
| 5. चेकोस्लोवाकिया           | 6. अमेरिका  |
| 7. इंग्लैंड (ग्रेट ब्रिटेन) | 8. फ्रांस   |
| 9. नीदरलैंड                 | 10. इटली    |

- इन देशों को संसार के मानचित्र में पहचानो। बताओ, तेल इन देशों को किस वाहन से भेजा जाता होगा ?

तेल बेचने से ईरान को बहुत धन मिला है। इस धन से ईरान के लोगों ने सुख सुविधा के बहुत से साधन जुटा लिए हैं, जैसे- स्कूल, अस्पताल, सड़कें, वाहन और रोज काम की अनेक चीजें।

- क्या तुम पता लगा सकते हो कि अपने देश को खनिज तेल बेच कर धन मिलता है, या भारत ईरान व अन्य देशों से तेल खरीदता है ?



चित्र 9.11 तेल ले जाने की पाईप लाईनें।

अब ईरान में बहुत सी चीजों के कारखाने भी स्थापित हो गए हैं। ईरान में अब मोटर गाड़ियाँ, बिजली का सामान, कपड़ा, चमड़े व उन की चीजें बनने लगी हैं।

ईरान संसार भर में कालीनों के लिए प्रसिद्ध है। यहां उन की कालीनें बनाने का बहुत पुराना धंधा है। चित्र (9.12) देखो।

प्राचीन काल से ईरान में धातु तराश और ढाल कर और लकड़ी को तराशकर सुन्दर वस्तुएं बनाने की कला भी विकसित है। पत्थर व मिट्टी के सुन्दर बर्तन भी यहां बहुत पुराने समय से बनाए जाते रहे हैं।



चित्र 9.13 मिट्टी के बर्तन बनाते हुए।


चित्र 9.14 बहुत ध्यान से बर्तन पर चित्रकारी करते हुए एक छोटा ईरानी लड़का।

चित्र 9.12 कालीनें बनाकर सुजाई जा जा रही हैं।

ईरान के कारीगरों द्वारा बनाई ये सुन्दर चीजें विदेशों में भी बेची जाती हैं।

## अभ्यास के लिए प्रश्न

1. ईरान की भौगोलिक बनावट कटोरे जैसी क्यों बताई गई है ?
2. ईरान के बहुत से लोग पशु क्यों पालते हैं ? वे छेती क्यों नहीं करते ?
3. खज़लिस्तान किसे कहते हैं ? यहां लोगों को बसने के लिए क्या मिलता है ?
4. ईरान के किस भाग में वन होते हैं और क्यों ?
5. उत्तरी ईरान में लोग छेती क्यों करते हैं ? वहां क्या पैदा होता है ?
6. खनिज तेल बेचने से ईरान को जो धन मिलता है उससे वहां किन सुविधाओं का इंतजाम किया गया है ?




चित्र 945 छब्सरत नक्काशी की गई एक ईरानी इमारत

## पाठ - 10

# एशिया: प्राकृतिक बनावट, वनस्पति तथा जलवायु

तुमने एशिया के कई हिस्सों के बारे में पढ़ा । क्या तुमने सोचा एशिया के ओर भागों की बनावट कैसी है ? वहाँ के पेड़-पौधे कैसे हैं और उनका वहाँ के जाड़े-गर्मी व बरसात से क्या संबंध है ? इस पाठ में पूरे एशिया महाद्वीप की बनावट और उसमें पाये जाने वाले पेड़-पौधों के बारे में हम पढ़ेंगे ।


चित्र 10.1 सपाट समतल मैदान.



मैदान तथा नदियाँ : तुमने अपने चारों ओर समतल मैदान देखे होंगे । मैदानों में बहुत दूर तक चलते जाओ तब भी न कहीं जमीन अधिक उंची होती है और न नीची । यहाँ बहने वाली नदियों को देखो तभी पता चलता है कि यहाँ जमीन का ढाल किधर है । मैदान और इसमें बहने वाली नदी को रेखाचित्र 10.2 में देखो ।

- इस मैदान में ढाल किस तरफ है, पहचानो और तीर के निशान से दिखाओ ।

चित्र 10.2 मैदान और उसमें बहती नदी.



- क्या तुम्हारे आसपास का क्षेत्र मैदानी है ? उसका ढाल किस दिशा में है ?

चित्र में देखो मैदान में क्या दिखता है ? बता सकते हो - अधिकतर मैदान खेतिहर प्रदेश क्यों हैं ? यह इसलिए कि नदियाँ अपने साथ पहाड़ों से उपजाऊ मिट्टी बहाकर लाती हैं और अपने चारों ओर के मैदान में बिछाती रहती हैं ।



चित्र 10.3 मैदान में बहती नदी

- एशिया में ऐसे सपाट समतल मैदान कहाँ-कहाँ हैं ? उनमें कौन सी नदियाँ बहती हैं ?

यह तुम नक्शे (10.5) में देखकर पता करो और नीचे दी गई तालिकाएं भरें ।

एशिया की नदियों के नाम देखो और बताओ कि वे किन सागरों में गिर रही हैं ? क्या तुम कुछ अंदाज लगा सकते हो कि वे एशिया के मध्य से सागरों की ओर क्यों बह रही हैं ?

महासागर/सागर	इनमें ये नदियाँ गिरती हैं
प्रशान्त महासागर हिन्द महासागर अरब सागर आर्कटिक महासागर फारस की खाड़ी	

मानचित्र 10.6 में इन नदियों के मैदान देखो, कितने बड़े हैं !  
मानचित्र 10.6 में मैदानों को दूँटो और उनके नामों की सूची बनाओ ।

मैदान	नदियों के नाम

इस वर्ष के पाठों में तुमने इनमें से किसी नदी के मैदान के बारे में नहीं पढ़ा । पर तुमने कक्षा पाँच में भारत का भूगोल पढ़ते समय एक बड़े मैदान के बारे में पढ़ा था । कौन सा - याद है ?

**पर्वत तथा पठार :** इस वर्ष तुमने पर्वतों और पठार वाले देशों के बारे में ज़रूर पढ़ा है । शायद तुम छुट्टी विन्ध्याचल या सतपुड़ा पर्वत पर गए हो । तुमने हिमालय पर्वत का चित्र भी अपनी-अपनी पुस्तकों

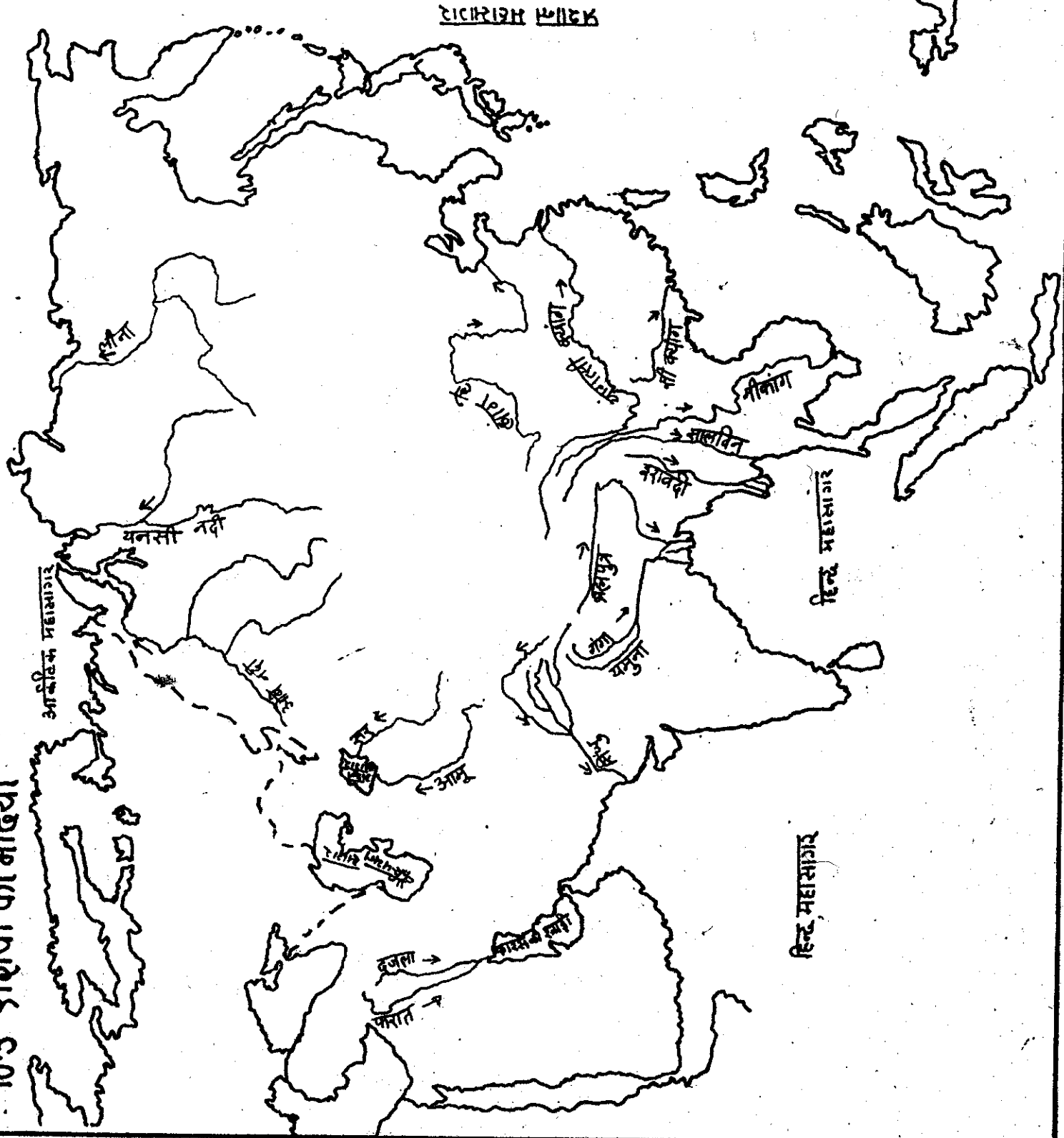
में देखा होगा । पर्वत का चित्र 10.4 देखो और उसकी तुलना मैदान से करो ।

क्या पर्वत मैदान से अधिक उँचे हैं ? क्या पर्वतों पर कहीं समतल भूमि दिखती

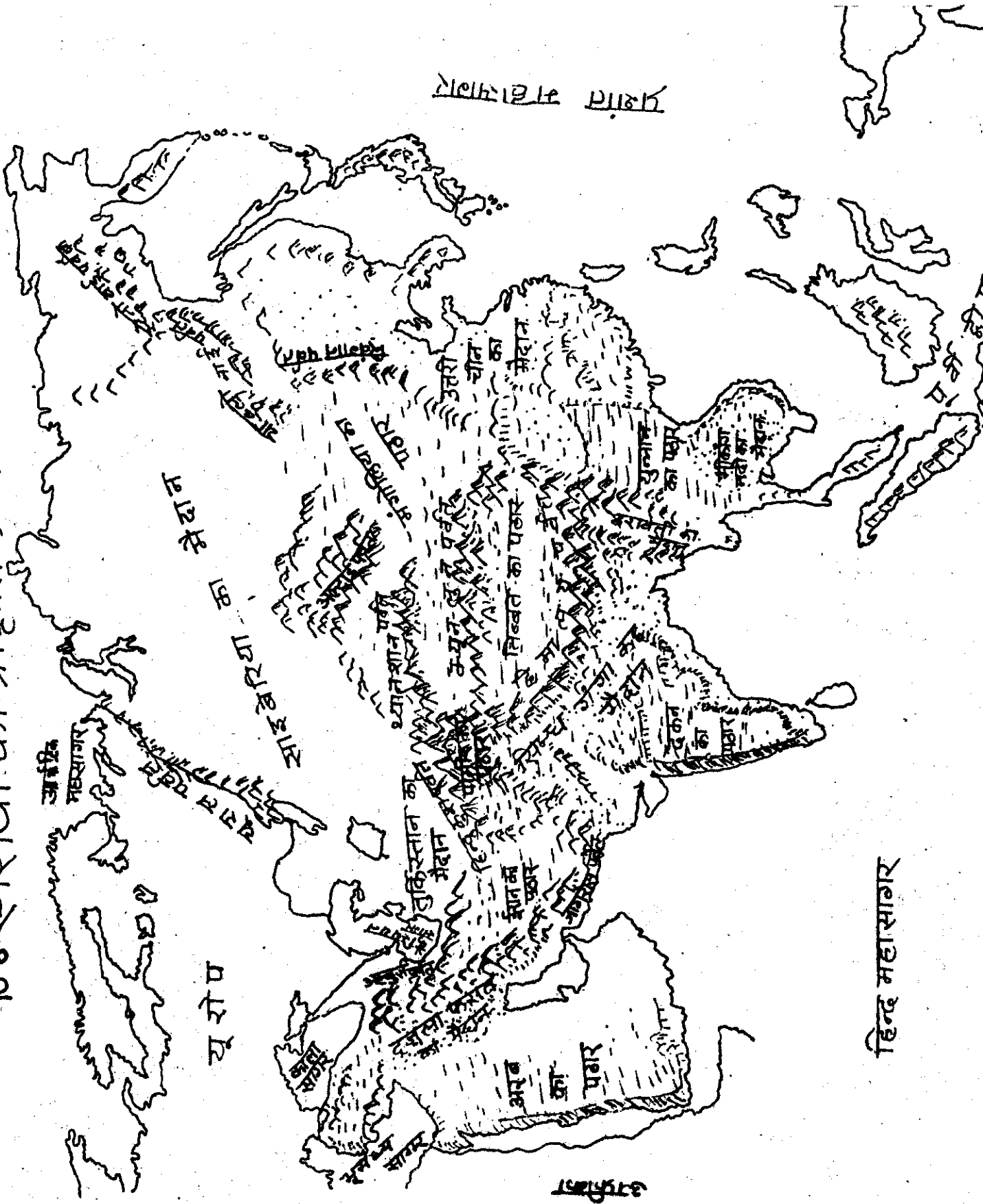
चित्र 10.4 पहाड़



# 10.5 एशिया की नदियां



# 10.6 एशिया की प्राकृतिक बनावट



प्रशांत महासागर

यूरोप

हिन्द महासागर

आसिया

हे 9 पर्वत की चोटी से सब ओर ढाल है। ऐसे ढलान पर चढ़ना उतरना कठिन हो जाता है। इन पर रास्ते बनाना, रेलमार्ग डालना और भी कठिन है। पहाड़ों पर से बहती हुई नदी की घाटी की तुलना मैदान की नदी से करो।

- क्या पहाड़ पर भी नदी समतल चौड़ा मैदान बना रही है 9

तुम यदि पहाड़ पर जाओगे तो नदियाँ खूब तेज कलकल करती बहती मिलेंगी।

- क्या मैदान में नदी ऐसे बहती है 9


भारत के उत्तर में हिमालय पर्वत है, यह तुम जानते हो। यह इतना उंचा है कि उसकी ढलानें बर्फ से ढकी रहती हैं। जाड़े में वर्षा की जगह बर्फ (हिम) गिरती है। एशिया में हिमालय के उत्तर में देखो (मानचित्र 10.6), कितनी पर्वत श्रेणियाँ हैं 9

- देखो पहाड़ एशिया में कहाँ-कहाँ हैं 9 एशिया की 8 प्रमुख पर्वत मालाओं के नाम नक्शे में से देखकर लिखो।

पठार : कई जगह पर्वत मालाओं के बीच के भाग उंचे होते हैं, लेकिन पर्वतों के समान उनमें उंची-उंची चोटियाँ नहीं होतीं, बस जमीन में हल्के उंचे-नीचे ढाल रहते हैं और बीच-बीच में छोटी-छोटी पहाड़ियाँ या नदियों की घाटियाँ भी होती हैं। ऐसे इलाके में पथरीले हिस्से भी दिखाई देते हैं। हम ऐसे इलाकों को पठार कहते हैं। तुमने पढ़ा था कि ईरान का पठार पर्वतों से घिरा है। एशिया के मध्य में देखो पर्वतों से घिरे तीन पठार हैं।



- दृढ़ कर उनके नाम लिखो। यह भी लिखो कि वे पठार किन पर्वतों से घिरे हैं।



रेखाचित्र 10.8 पर्वतों से घिरा पठार

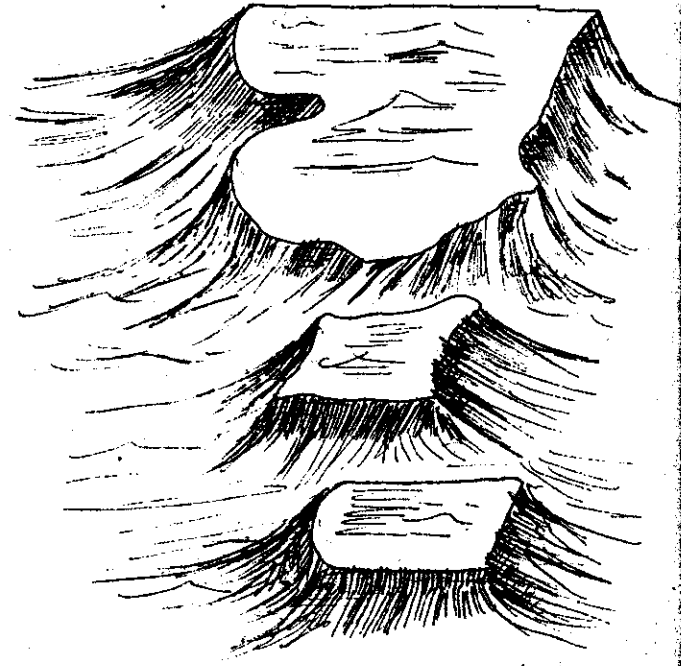
लेकिन सभी पठार पर्वतों से घिरे नहीं होते। उनके किनारे कगार होते हैं, रेखाचित्र में देखो। एक बार कगार पर चढ़कर पठार के ऊपर आ जाएं तो ऐसा लगता है जैसे मैदान हो। बम्बई से हमें जब दक्कन के पठार पर आना होता है तो ऐसे ही कगार पर चढ़कर ऊपर पहुंचते हैं। गंगा की घाटी से जब रीवा के पठार पर आते हैं तो कगार पर चढ़ना होता है।

- एशिया के दक्षिण में ऐसे दो पठार हैं। ढूंढ कर उनके नाम लिखो। एशिया के पश्चिम में भी एक कगार वाला पठार है। उसका नाम क्या है ?

रेखा चित्र देखकर मिट्टी से पठार, पहाड़ और मैदान बनाओ। जो दिखता है सो लिखो -

- पहाड़, पठार से कैसे पक दिखता है ?  
मैदान और पठार में क्या अंतर है ?  
मैदान पहाड़ से कैसे भिन्न दिखता है ?

द्वीप समूह : एशिया के देशों को जब तुमने पढ़ा था तब जान गए थे कि उसके दक्षिण पूर्व में अनेक द्वीप हैं। छोटे बड़े हजारों द्वीप, इन्हें सामूहिक रूप से पूर्वी द्वीप समूह कहते हैं। इनमें कई देश हैं। अधिकतर द्वीपों में पर्वत हैं। तुम जानते हो कि यहाँ कई ज्वालामुखी भी हैं।



रेखाचित्र 10.9 पठार और उसके कगार.

एशिया में जलवायु के अनुसार वनस्पति


एशिया महाद्वीप में भूमि कैसी-कैसी है, यह तुमने देखा। अब आओ देखें कि उस भूमि पर कहाँ क्या उगता है। हर इलाके में वही पेड़-पौधे होते हैं जो वहाँ की जलवायु में हो सकें। जलवायु के अनुसार पेड़-पौधे भी बदल जाते हैं।



1. एशिया के कई भागों में घने जंगल मिलते हैं, जैसे तुमने इंडोनेशिया में देखे थे। ये पेड़ साल भर हरे बने रहते हैं। इनकी पत्तियाँ चौड़ी होती हैं। इनमें पतझड़ नहीं होता। इन जंगलों को भूमध्य रेखीय वन भी कहते हैं क्योंकि ये भूमध्य रेखा के पास के इलाकों में उगते हैं।

इन पेड़ों को उगने के लिए वैसी ही जलवायु चाहिए जैसी इंडोनेशिया की है। यानी, साल भर गर्मी बनी रहना, साल भर बारिश होते रहना। ध्यान करो कि इंडोनेशिया में जाड़े का मौसम ही नहीं होता।

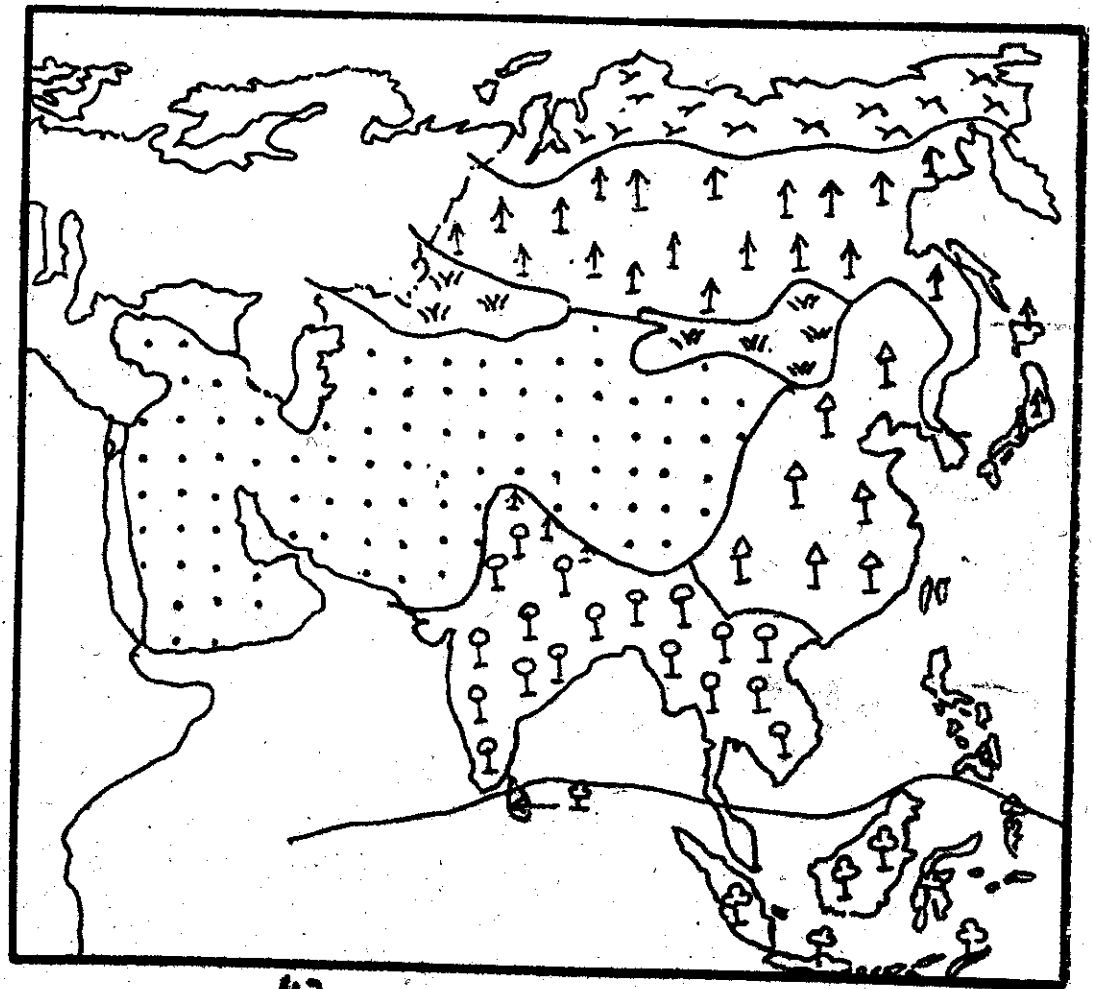
जहाँ ऐसे जंगल मिलें, हम अनुमान लगा सकते हैं कि वहाँ की जलवायु कैसी होगी। एशिया की वनस्पति का नक्शा



### 10.11 एशिया की वनस्पति

#### संकेत

- ∞ डुन्ड्रा वनस्पति
- :: रेगिस्तान की वनस्पति
- ↑ नुकीली पत्ती के कोणधारी वन
- ↑ ठंडे इलाकों के चौड़ी पत्ती के वन
- ♀ मानसूनी चौड़ी पत्ती के वन
- ♂ भूमध्य रेखीय वन
- ∞ घास के मैदान



साथ में दिया गया है । इसमें बताया है कि एशिया महाद्वीप के किन भागों में कैसे पेड़-पौधे होते हैं । इस नक्शे में इंडोनेशिया देश पहचानो । उसमें ऐसा चिन्ह बना दिखेगा । और कहां-कहां यह चिन्ह बना है ? इस चिन्ह से यह दर्शाया गया है कि यहां भूमध्य रेखीय वन, यानी इंडोनेशिया जैसे घने वन हैं ।

तो क्या अब तुम बता सकते हो कि नीचे दिए वाक्य सही हैं या गलत -

- इस क्षेत्र में सिर्फ जून से सितम्बर तक बारिश का मौसम होता है । इस क्षेत्र में साल भर गर्मी पड़ती है ।

2. चलो अब भूमध्य रेखा से आगे बढ़ें, उत्तर की ओर चलें । इस चिन्ह से दिखाए गए क्षेत्र को देखो । यह वो क्षेत्र है जहां भारत जैसे पेड़-पौधे होते हैं । जैसे- आम, नीम, पीपल, पलाश, चित्र-10.12 नीम का पेड़ और चौड़ी पत्ती



सागौन, अशोक । इनकी भी पत्तियां चौड़ी होती हैं । इनमें से कुछ पेड़ों में पतझड़ होता है । जासकर गर्मी के पहले । इन्हें मानसूनी वन भी कहा जाता है, क्योंकि ये वहां उगते हैं जहां मानसूनी वर्षा हो ।

इन पेड़ों को उगने के लिए वैसी ही जलवायु चाहिए जैसी भारत में होती है । यानी ये पेड़ उन इलाकों में उगते हैं, जहां साल में एक बार मानसूनी बारिश होती है । और जहां साल भर में जाड़े की शुरुआत भी हो और गर्मी की भी । ये वहां उगते हैं जहां ठंड के बजाय गर्मी ज्यादा पड़ती हो ।

भारत की जलवायु ऐसी ही है न ?

तो अब देखो कि इस क्षेत्र की जलवायु के बारे में तुम क्या अनुमान लगा सकते हो ।

- इस क्षेत्र साल के कुछ महीने वर्षा होती होगी, या पूरे साल ?

इस क्षेत्र में जाड़े का मौसम ज्यादा होता होगा या गर्मी का ?

3. अब नक्शे में कुछ ओर उत्तर की ओर नजर डालो । इस चिन्ह से भरे इलाके को देखो । यहां भी चौड़ी पत्ती के पेड़ होते हैं - पर, उनमें



चित्र 10.13 मेपल का पेड़ व चौड़ी पत्ती.


सर्दियों के पहले पतझड़ हो जाता है । ठंड के दिनों में वे सूने लड़े रहते हैं । पेड़ों के नाम हैं ओक, मेपल, बर्च । जाड़े के बाद इनमें नई पत्तियां आती हैं । ये पेड़ कैसी जलवायु में उगते हैं ? ये वहां उगते हैं जहां जाड़े-गर्मी का अलग मौसम हो पर गर्मी कम और जाड़ा अधिक पड़े । और जहां साल के कुछ महीनों में अच्छी बारिश हो । जैसे जापान की जलवायु है ।

इन वाक्यों में से सही-गलत छांटो-

● इस क्षेत्र में गर्मी का मौसम ज्यादा होता है ।

इस क्षेत्र में साल भर बारिश होती है ।

चित्र 10.14. रेगिस्तानी वनस्पति



4. अब जरा पूर्व दिशा की ओर ध्यान से देखो । एशिया का एक बड़ा क्षेत्र तुम्हें :: इस चिन्ह से बिछा मिलेगा । क्या इस इलाके में ऐसा कोई देश आता है जिसके बारे में तुमने अपने पाठ में पढ़ा हो ?

यह बड़ा इलाका सूखा रेगिस्तानी क्षेत्र है । यहां ऐसी वनस्पति मिलती है - कंटीले पौधे, झाड़ियां, खर के पेड़ ।

यह वनस्पति बिल्कुल सूखे क्षेत्र में भी उग लेती है । इसे घास वर्षा की जरूरत नहीं होती । :: इस चिन्ह से दिखाये क्षेत्र में न के बराबर बारिश होती है । यहां ठंड के मौसम में बहुत तेज ठंड और गर्मी के मौसम में बहुत तेज गर्मी पड़ती है ।

अब वनस्पति का चिन्ह देखकर क्या तुम इस क्षेत्र की जलवायु के बारे में अनुमान लगा सकते हो ?


इन वाक्यों में से सही गलत छांटो-  
● इस क्षेत्र में बारिश न के बराबर होती है ।

इस क्षेत्र में साल भर बर्फ जमी रहती है ।

इन इलाकों में इंडोनेशिया की तरह सघन वन वनों नहीं उगते ।

5. चलो रेगिस्तानी क्षेत्र के ठीक उत्तर में पहुंचो । यह बहुत सूखा क्षेत्र नहीं है । तभी यहां दूर-दूर घास ही घास दिखती है । पर बहुत कम पेड़ हैं ।

चित्र 10.15 घास के क्षेत्र



- ऐसा क्यों ? सोचकर बताओ यहाँ वर्षा अधिक होती होगी या कम। यह घास का क्षेत्र किस देश में जाता है ?

रेगिस्तानी क्षेत्र की तरह घास वाले क्षेत्र में भी ठंड में बहुत ठंड और गर्मी में बहुत गर्मी पड़ती है।

- 6° अब ओर भी उत्तर में इस चिन्ह से दिखाए क्षेत्र को देखो। इस क्षेत्र में नुकीली पत्ती वाले कोणधारी पेड़ होते हैं। इनमें साल भर हरियाली बनी रहती है। पत्तझड़ नहीं होता। अतः हम अनुमान लगा सकते हैं कि यहाँ कुछ बारिश अवश्य होती होगी।



चित्र 10.16 नुकीली पत्ती के पेड़ व पत्तियाँ

ऐसे पेड़ हमने जापान व ईरान के उच्च पहाड़ों पर देखे थे, जहाँ मौसम अधिकतर ठंडा रहता है व जाड़े में बर्फ गिरती है।

- ऐसे पेड़ों की एक चौड़ी पट्टी किस देश में है ? अपने देश में भी ये वन मिलते हैं क्या ? कहाँ ?

तो इन इलाकों की जलवायु कैसी होगी ? सही गलत बताओ -

- यहाँ गर्मी में छह गर्मी और जाड़े में छह ठंड पड़ती होगी।

यहाँ गर्मी हल्की होती होगी और मौसम अधिकतर ठंडा रहता होगा।

यहाँ हिमपात होता होगा।

यहाँ वर्षा न के बराबर होती होगी।

- 7° अब बिल्कुल उत्तर में पहुँच जाओ, ध्रुव के पास। हम फिर से टुंड्रा प्रदेश में आ गए। तुम जानते हो कि यहाँ साल भर उगने वाली कोई वनस्पति नहीं होती। सिर्फ 2-3 महीनों के लिए यहाँ कुछ काई, बेरियाँ, बौने पेड़, घास, झाड़ियाँ उग आती हैं।

टुंड्रा प्रदेश की जलवायु के कारण ऐसा होता है। इस बात को 5-8 वाक्यों में समझा कर लिखो।



## अभ्यास के लिए प्रश्न

खाली स्थान की पूर्ति करो ।

1. क हिमालय पर्वत माला के दक्षिण में ----- मैदान है और उत्तर में ----- पठार है ।

ख साइबेरिया के मैदान के पश्चिम में ----- पर्वत हैं और पूर्व में ----- पर्वत हैं ।

ग- तुर्किस्तान का मैदान हिन्दूकुश पर्वत की ----- दिशा में व कैस्पियन सागर की ----- दिशा में है ।

2. सही गलत बताओ -

क- मंगोलिया के पठार पर कगार से चढ़कर पहुंचा जाता है ।

ख- युन्नान का पठार मीकांग नदी के मैदान के उत्तर व पश्चिम में है ।

ग- उत्तरी चीन के मैदान में ओब तथा आमूर नदियाँ बहती हैं ।


घ- थ्यान्झान पर्वत माला साइबेरिया के मैदान के दक्षिण में है ।

ङ- सीक्यांग नदी और इराक्ती नदी एक ही महासागर में गिरती हैं ।

च- लीना नदी और यान्सी नदी एक ही महासागर में गिरती हैं ।

3. एशिया की वनस्पति के चिन्ह तितर-बितर हो गए हैं ।

इन्हें उत्तर से चलकर दक्षिण तरफ बढ़ते हुए क्रम में जमाओ-

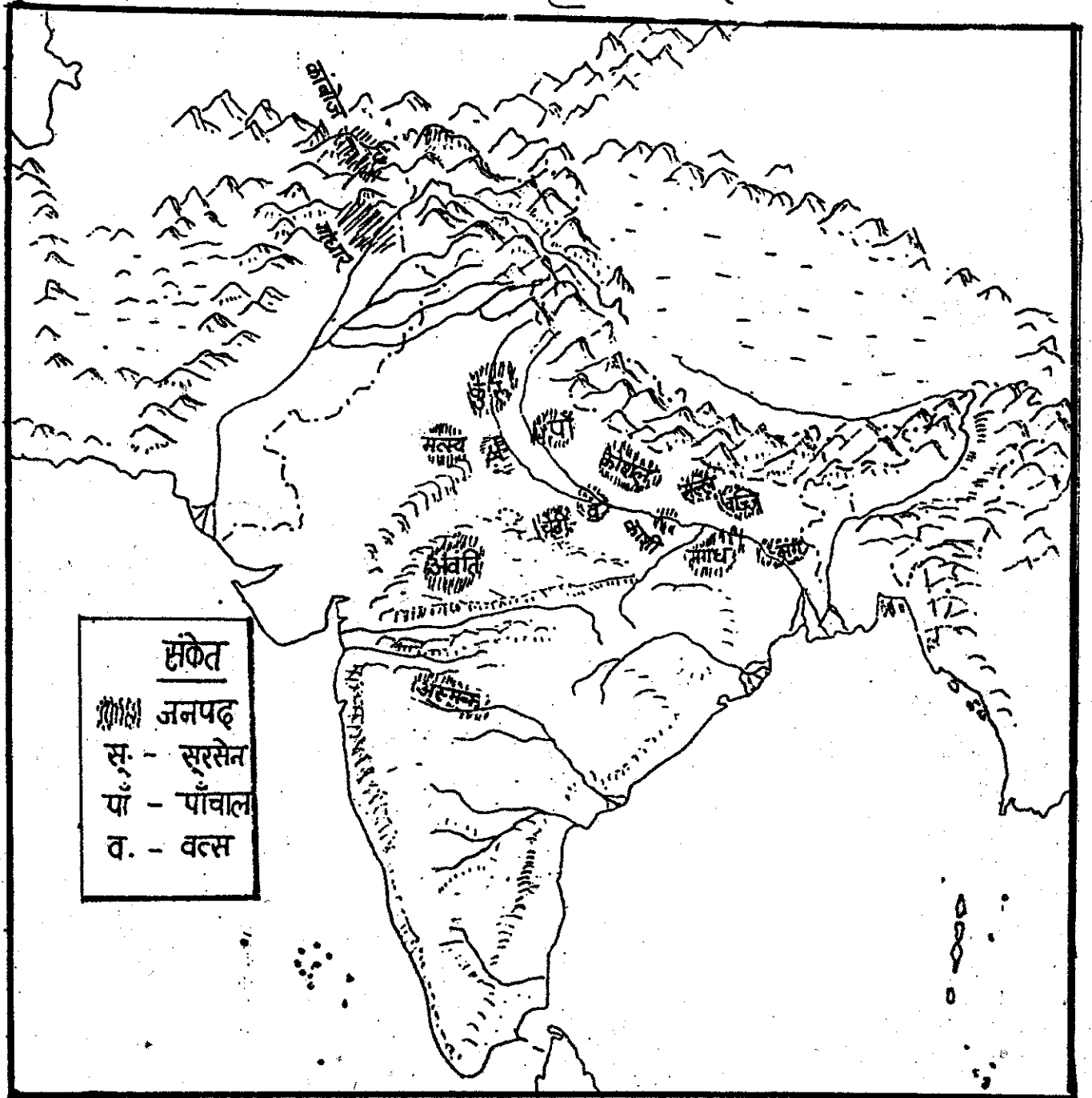


छेती करने वाले जायों के समय को रम देखा चुके हो । तब से कुछ तीन चार सौ साल और बीते । जैसे समय बीतता गया, कई सारे नए गांव बसते गए । कई नए

जनपद भी बने । अब सोलह बड़े जनपद बन गए थे । नीचे उस समय का एक नक्शा (नं० 1) दिया गया है ।

नक्शा - 1

सोलह जनपद



● इन जनपदों में से कौन-कौन से नए जनपद हैं ?

नए जनपद किन दिशाओं में बने हैं ?

कुछ जनपद पहाड़ों के बीच बसे, कुछ जनपद नदियों के किनारे मैदानों में बसे, कुछ पठार पर बसे। क्या तुम बता सकते हो कौन से जनपद कहाँ बसे ?


अधिकतर जनपद गंगा यमुना के मैदान में बने। गंगा और यमुना नदियों के किनारे गाँव बसाना आसान काम न था। यहाँ कुछ घने जंगल होते थे। छोटे-छोटे झण्डों में लोग आकर इन जंगलों को आग लगाकर जलाते और लोहे के कुल्हाड़े से काटते, फिर खेत बनाते थे।

यहाँ मिट्टी बहुत उपजाऊ थी। हर साल बाढ़ के बाद खेतों पर उपजाऊ मिट्टी की एक परत बिछ जाती। इस पर कुछ अच्छी धान की फसल होती थी।

पहले के दिनों की तुलना में अब कहीं ज्यादा अनाज होने लगा। धीरे-धीरे गाँवों की संख्या भी बढ़ी।

इस समय जनपदों में केवल गाँव ही गाँव नहीं थे। इनमें बड़े-बड़े शहर भी बनने लगे थे। ये शहर कैसे होते थे ? यहाँ कौन रहता था ? ये सब हम इस पाठ में आगे पढ़ेंगे।

तो आजो 2500 साल पहले के उन जनपदों और शहरों की कुछ झलकें देखें।



कल्पना करो कि हम 2500 साल पीछे पहुंच गए हैं - पुराने युग में ।

हिमालय पहाड़ों के नीचे मैदान में बसा है वज्जि जनपद । यहां लिच्छवि नाम के लोग रहते हैं । चलो उनके शहर वैशाली को देखें । पर इससे पहले मानचित्र । व 3 में देख तो लो कि हम कहाँ पहुंच गए हैं ।

कितना बड़ा और सुखसुरत शहर है वैशाली ! इसके ऊँचे-ऊँचे घर-महल तो लकड़ी के बने लगते हैं ।

वैशाली नगर के घरों से कई सारे पुरुष निकलकर शहर के बीच की तरफ जा रहे हैं । चलो इनके पीछे-पीछे हम भी चलें । ये देखो - वहां का बाजार है । बड़ी-बड़ी दुकानें हैं । कई जनपदों के व्यापारी यहां देश विदेश में बनी चीजें बेचने आते हैं ।

सिन्धु घाटी के शहरों के नष्ट होने के बाद अब फिर से लगभग हजार साल बाद अपने इतिहास में बड़े-बड़े भवन व बाजार बने हैं । देश-विदेश से व्यापार होना शुरू हुआ है ।

वैशाली शहर के बीच एक सुन्दर तालाब है । जो पुरुष जा रहे हैं वे इस तालाब में नहा रहे हैं । यह एक खास तालाब है । इसमें केवल लिच्छवि जन के लोग नहा सकते हैं, उनके नौकर या दास या फिर व्यापारी इसमें नहीं नहा सकते ।

तालाब में नहाकर सब लोग पास में बने एक बड़े सभा-घर के अंदर जा रहे हैं । सुना है आज एक महत्वपूर्ण विषय पर चर्चा होने वाली है । मगध जनपद

के राजा अजातशत्रु ने धमकी दी है कि वह वैशाली पर हमला बोलेंगा । लिच्छवि पुरुष इसके बारे में आज चर्चा करेंगे ।


लिच्छवि जनपद में कोई राजा नहीं है । लिच्छवि कंशा के सब पुरुष अपने आपको राजा कहते हैं । अगर कोई राजा न हों तो जनपद का काम कैसे चलता है ? लिच्छवि कंशा के सब पुरुष इस सभा मंडप में मिलते हैं, अपने जनपद की समस्याओं के बारे में चर्चा करते हैं, और तय करते हैं ।



मगर सभा में महिलारं या दूसरे जनपद के लोग नहीं जा सकते । लिच्छवियों के छेतों में गुलाम और मजदूर काम करते हैं - अनाज उगाते हैं । वे भी इस सभा में नहीं बैठ सकते ।

आज सभा में जोर शोर से चर्चा चल रही है । मगध का राजा हमला करे तो क्या करें ? एक नवयुवक बोलता है - "राजा अजातशत्रु के पास बड़ी सेना है, हमारे पास तो कोई सेना नहीं है - हम उनसे कैसे लड़ेंगे ?" उसे जवाब देते हुए एक वृद्ध बोलता है - "सेना नहीं है तो क्या - हम हमेशा सब मिलकर युद्ध में जाते रहे हैं - हमारे जन के सब लोग युद्ध

में लड़ेगी और मगध की सेना को हरायेगी।" और कोई कहता है - "आपने मगध की सेना को देखा नहीं है - वह बहुत बड़ी है - हजारों सैनिक हैं। घोड़े हैं, हाथी हैं, रथ हैं, और मजबूत लोहे के हथियार हैं। हम अकेले उन से नहीं लड़ सकते हैं। आसपास के जनपदों से मदद मांगनी चाहिए।"



हां सचमुच, किसी जनपद के पास युद्ध करने के लिए एक सेना का होना इस समय के लिए एक नई बात है। लिच्छवि लोग मगध की सेना को लेकर जरूर चिन्तित हुए होंगे।

लिच्छवि या वज्जि जनपद के आसपास कई और जनपद हैं जिनमें कोई एक राजा नहीं है। पूरे जन के पुरुष जनपद का कामकाज चलाते हैं। ऐसे जनपदों को गण संघ कहा जाता है। मल्ल जनपद ऐसा ही एक गण संघ है।


अब चलो मगध जनपद की राजधानी, राजगृह की ओर चलें। केशाली से राजगृह जाने वाली सड़क से चलें।

यह सड़क घने जंगलों से गुजरती है। फिर जब हम मगध राज्य में प्रवेश करते हैं, तो सड़क कई संपन्न गांवों से गुजरती है। तो कल्पना करो कि हम मगध जनपद के एक गांव में पहुंच गए हैं।

यह गंगा नदी के किनारे बसा है। चारों तरफ छेत ही छेत हैं। बोनी के पहले जमीन तैयार की जा रही है। कुछ लोग फावड़ा व कुल्हाड़ी से काम कर रहे हैं व कुछ हल-बैल से। हल का फाल लोहे का बना है।

इस गांव में कई सारे किसान हैं, जिन्हें उस समय गृहपति कहा जाता था। वे अपने-अपने छेतों में अनाज उगाते हैं। कुछ बड़े और धनी गृहपति भी हैं। इनके पास कुछ सारी छेती है जिसमें वे कुछ काम नहीं करते। उनमें गुलाम और मजदूर काम करते हैं।

मगध राज्य में कुछ साल पूर्व नया कानून बना है। इस कानून के अनुसार किसानों को हर फसल में से एक निश्चित हिस्सा राजा को बलि में देना पड़ता है। राजा का एक अधिकारी गांव - गांव जाकर बलि व अनाज वसूल करता है। उसके पास एक हिसाब किताब होता है जिसमें लिखा रहता है कि कौन से गांव में कितने गृहपति हैं और वहां से कितना अनाज बलि में मिला। **स्कट्टी**



की गई बलि को वह राजा के पास ले जाता है। इस समय से पहले यह तंत्र नहीं हुआ करता था। गण संघों में भी बलि जैसी कोई चीज नहीं है।



इस समय के लिए यह भी एक नई बात है कि कुछ राजा नियमित रूप से छेतों में उगी फसल का एक हिस्सा क्ल्ल कर रहे हैं। वे हर गाँव की छेती का लेखा-जोखा रखने की कोशिश करने लगे हैं। जिन लोगों से क्ल्ली न हो शायद उनको दण्ड भी दिया जाता है। छेती की लगान का हिसाब किताब रखना और उसकी क्ल्ली करना - यह जो आज साधारण बात है - उन दिनों बस शुरू ही हो रही थी।

एक तरफ एक खुला मैदान है। उसमें हजारों नौजवान कसरत कर रहे हैं। कुछ लोग एक दूसरे से तलवार भाला लेकर लड़ने का अभ्यास कर रहे हैं। कुछ किसी निशाने पर तीर क्ला रहे हैं। कुछ लोग घोड़ों व हाथियों पर चढ़कर लड़ने का अभ्यास कर रहे हैं।

चलो राजगृह चलकर देखें, राजा बलि में मिले अनाज का क्या उपयोग करता है।


सुना है कि इन लोगों को राजा अजातशत्रु ने भर्ती कर रखा है। उनका काम है उसकी रक्षा करना और जब भी राजा आज्ञा दे युद्ध पर जाकर लड़ना। राजा उन्हें तंखवाह देता है। इसलिए उन्हें अपने और अपने परिवार के पालन-पोषण के लिए छेती या और कोई काम नहीं करना पड़ता। राजा से मिली तंखवाह से वे गुजारा करते हैं।

एक छोटी पहाड़ी पर बसा है राजगृह शहर। एक के बाद एक, तीन पत्थर के किलों से घिरा है यह शहर। ऐसा लगता है कि कोई भी विरोधी सेना इस पर कब्जा नहीं कर सकती। कितने मजदूर लगे होंगे इसके बनाने में, कितना धन लगा होगा!

ऐसे लोगों को सैनिक कहते हैं। ऐसे सैनिक पहले कभी नहीं बने। पहली बार अजातशत्रु के पिता बिंबिसार ने सेना बनायी थी। अब इससे पहले के दिनों की तरह जन के सब लोग लड़ने नहीं जाते हैं। लोग अपने-अपने काम धर्मों में लगे रहते हैं। युद्ध करने के लिए अलग से सेना है।

शहर के अंदर कोलाहल मचा है। सड़कों पर खूब शोर शराबा है। घुड़-सवार तेजी से इधर-उधर जा रहे हैं। खूब सारे हट्टे कट्टे नौजवान इधर-उधर घूम रहे हैं। एक तरफ लोहारों की सड़क है। वे भट्टी से लोहा उतारकर, उसे पीट-पीट कर हथियार बना रहे हैं - तरह-तरह के हथियार - तलवार, भाला, तीर-कमान घुरी आदि।





शहर के इस कोलाहल के बीच चलो राजा अजातशत्रु से मिलें। राजा एक बड़े महल के अंदर रहता है। चारों तरफ सैनिकों का पहरा है। अंदर राजा बैठा है। उसके पास 3-4 और लोग बैठे हैं। इनका काम है राज्य के कामकाज में राजा की मदद करना, राजा को सलाह देना। इन्हें भी राजा तंडवाह देता है। ये राजा के अधिकारी व मंत्री हैं।

सब तो यह है कि यह भी इस समय हो रही एक नई बात है। इस समय के पहले राजा अपने निकट संबंधियों (जिन्हें राजन्य कहा जाता था - याद है 9) की सलाह व सहायता से काम करता था। पर अब राष्ट्रा तंडवाह देकर किसी को भी अपना अधिकारी और मंत्री बना सकता है।

अजातशत्रु का ऐसा एक मंत्री है, वर्षकार। वह बहुत बुद्धिमान और चतुर है। वह कह रहा है - "राजन, मैं इन लिच्छवियों को अच्छी तरह जानता हूँ। वे बहुत शक्तिशाली हैं। उनमें पूट डाले बिना उन्हें युद्ध में हराना मुश्किल है। इससे अच्छा हो कि हम कोशल राज्य पर हमला करें। वहाँ का राजा हनारा मुकाबला नहीं कर सकता है।" बाकी

सब मंत्रियों ने उसका समर्थन किया। राजा कहता है - "ठीक है। अब हम कोशल पर हमला करेंगे। मगर कभी न कभी केगाली को अपने राज्य में मिला लेना चाहिए। आप लोग युद्ध की तैयारी करिए।"

आजो अब 2500 साल पहले के उस पुराने युग की यात्रा समाप्त करें। तुमने उन दिनों की कई झलकें देखीं।

उस समय कई जनपदों में अजातशत्रु जैसे राजा थे - कोशल, अवन्ति, वत्स, जनपद आदि।

उस समय के राजा आपस में खूब लड़ते रहते थे। हर जनपद का राजा चाहता था कि दूसरे जनपद के राजा को हराकर उस जनपद को अपने राज्य में मिला ले। इससे वहाँ के लोगों पर भी उसका अधिकार होगा। उनसे वह नियमित बलि ले सकता है। जितने ज्यादा गाँव उसके राज्य में होंगे उतने ही ज्यादा लोगों से उसे बलि में अनाज मिलेगा। इस अनाज से ही वह अपने लिए कई सारे सैनिक, अधिकारी और मंत्री रख सकेगा। इनकी मदद से राजा अपने राज्य को फैला पाएगा, अपना राज्य चला पाएगा। बलि में मिले धन से ही वह अपने लिए बड़े-बड़े महल बनवाकर उनमें देश-विदेश की चीजें खरीद कर रख सकेगा।

मगध के राजा बिंबिसार ने कई जनपदों को युद्ध में हराया था। उसका पुत्र था अजातशत्रु। अजातशत्रु ने भी कई जनपदों को अपने राज्य में मिलाया। इस तरह मगध राज्य बहुत बड़ा हो गया था।

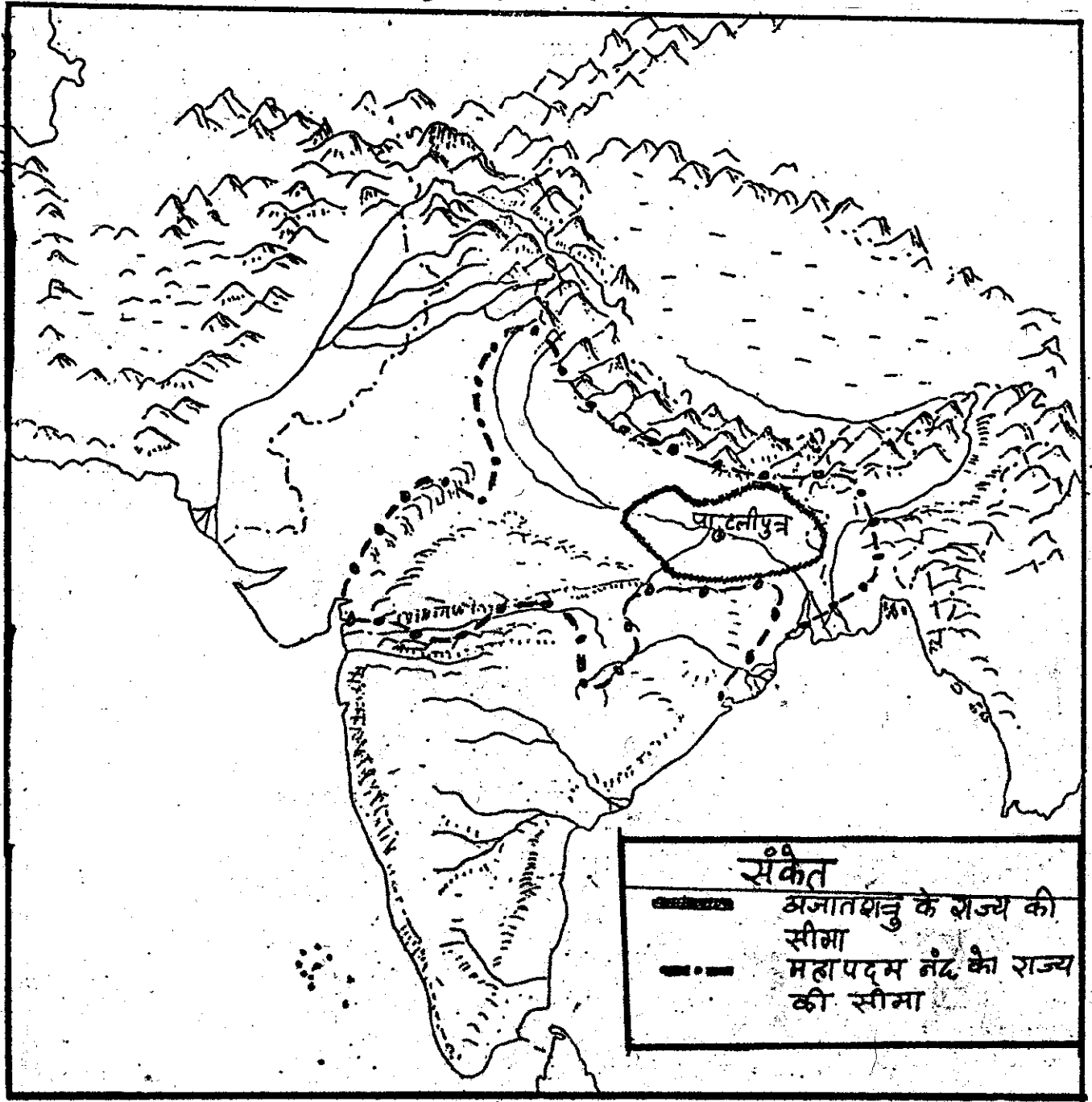
- आगे दिए नक्शे क्र० 2 को देखो । उसमें अजातशत्रु के राज्य की सीमा बतायी गयी है । नक्शा क्र० 1 से तुलना करो और बताओ, कौन-कौन से जनपद मगध राज्य में मिल गए हैं ।

कई साल बाद महापद्म नंद मगध

का राजा बना । उसने ओर भी जनपदों को मगध राज्य में मिला लिया ।

- उसका राज्य कहां से कहां तक फैला था ? नक्शा क्र० 2 में देखो । उसने अजातशत्रु के बाद कौन-कौन से जनपदों पर अपना अधिकार कर लिया ? अब कौन-कौन से जनपद उसके राज्य के बाहर हैं ?

### नक्शा-2 अजातशत्रु और महापद्म नंद के राज्य





महापदम नंद को इतने सारे गांवों से बलि मिलने लगी कि उसके पास सब सारा धन जमा हो गया। इस धन से उसने सब बड़ी सेना तैयार की। कहा जाता है कि उसकी सेना में बीस हजार घोड़सवार, दो लाख पैदल लड़ने वाले सैनिक, दो हजार रथ और तीन हजार हाथी थे। शायद यह सब बढ़ा-चढ़ाकर बताया गया है।



सिक्के  
पर बना  
सिक्कन्दर  
का चिन्ह

नंद राजा की भीमकाय सेना का वर्णन हमें यूनान देश की किताबों से मिलता है। संसार के नक्शे में देखो यूनान देश (उसे ग्रीस भी कहा जाता है) कहाँ है। इतनी दूर रहने वाले लोगों को मगध के राजा और उसकी सेना के बारे में पता कैसे चला ?

क्या तुमने कभी सिक्कन्दर के बारे में सुना है ? वह यूनान का एक वीर राजा था। उसने बचपन से तय किया था कि वह पूरी दुनिया को जीतकर अपने राज्य में मिला लेगा। वह एक बड़ी सेना के साथ यूनान से निकला और आसपास के राजाओं को हराता हुआ ईरान पहुँचा। वहाँ के राजा को भी उसने हराया। फिर वह सिन्धु नदी के किनारे पहुँचा। वहाँ के अनेक छोटे-छोटे राज्यों और गण संघों को हराया। मगर इन छोटे राज्यों के लोगों ने उसका इतना तमड़ा मुकाबला किया कि सिक्कन्दर के सैनिक थक गए। तब उन्होंने मगध के राजा महापदम नंद की भीमकाय सेना के बारे में सुना। वे अब और लड़ना नहीं चाहते थे। उन्होंने आगे जाने से मनाकर दिया। वे यूनान लौट गए। मगर कई यूनानी पीछे रह गए और वहीं बस गए।

:: शहर ::

आओ अब राजा महाराजा, सैनिक व अधिकारियों के अलावा उस युग के और लोगों से मिलें। 2500 साल पहले के जिस समय की हम बात कर रहे हैं वो बहुत बड़े-बड़े परिवर्तनों का समय था। कई ऐसे परिवर्तनों के तुम देखा चके हो, जैसे सेना व अधिकारियों का होना और बलि का नियमित लिया जाना।

पर सबसे नई बात जो इन दिनों दिखती थी वह थे इस समय के नगर। ये वो दिन थे जब एक के बाद एक कई नगर बने। नगर यानी कारीगरों और व्यापारियों के रहने व काम करने की जगह। राजा, अधिकारियों और सैनिकों की जगह। जैसे गाँव छेती से जुड़े लोगों की जगह है।

पिछले दो पाठों में तुमने कुछ कारीगरों को देखा था - जैसे लोहार, रथकार, कुम्हार व जुलाहा। उन दिनों बहुत ज्यादा व्यापारी देखने को नहीं मिलते थे। पर, अब तो बात ही कुछ और थी।

इस समय के जो ग्रंथ और कहानियाँ हमें पढ़ने को मिलती हैं उनसे लगता है कि इन दिनों न जाने कितनी तरह की चीजें बनाने वाले कारीगर थे, और न जाने कितने सारे छोटे बड़े व्यापारी थे। नगर-नगर में कारीगरों और व्यापारियों की रौनक और चहल-पहल रहने लगी थी।


चलो एक बार फिर अतीत की यात्रा करें। 2500 साल पहले के किसी शहर में पहुँचें। मानलो हम श्रावस्ती नाम के शहर में पहुँच गए और रंगू नाम के एक आदमी से मिले। तो उन दिनों ऐसे एक आदमी का जीवन कैसा होगा, कल्पना करते हैं।

सोचो कि श्रावस्ती शहर के एक कोने में एक लकड़ी और मिट्टी की बनी छोटी सी झुपड़िया है। इसी में रंगू और उसकी पत्नी - बास्ती रहते हैं। रंगू बाजार की सड़कों पर झाड़ू लगाता है। बास्ती मालिन है-वह

रोज पूल तोड़कर सुन्दर मालायें बनाती है और शहर के अमीरों के घरों में बेच आती है।

रंगू और बास्ती बहुत गरीब हैं। रंगू के पास केवल एक चांदी का सिक्का है जो उसे एक बार सड़क पर झाड़ू लगाते पड़ा हुआ मिला था। रंगू ने उस सिक्के को बचाकर राजमहल की उत्तरी दीवार में एक ईंट के नीचे छुपाकर रखा है। इसके सिवा उनके पास और कुछ धन-दौलत नहीं है।

बाजार की सड़कों पर दिन भर रौनक रहती है। बैल गाड़ियों का आना-जाना लगा रहता है। व्यापारी दूर-दूर से सामान लादकर लाते हैं और यहाँ बेचते हैं। उनके बैल, घोड़े, जख्वर, रह रहकर बाजार की सड़क पर गन्दगी कर देते हैं। रंगू बीच-बीच में सड़कों को गन्दगी साफ करता है।





ऐसे ही एक दिन अचानक दस-पंद्रह बेलगाड़ी और पांच-छह उट बाजार में आकर रूके। पूरे बाजार में हलचल मच गई -- 'सेठ अनाथपिंडिक का कारवां आ गया!' अनाथपिंडिक श्रावस्ती के बड़े व्यापारियों में से हैं।

जब उसका कारवां बाजार में आया तो पूरे बाजार से लोग दौड़े वले आये यह देखने के लिए कि वह क्या-क्या सामान ले आया है।

रंगू सड़क की एक ओर बैठ गया और देखने लगा। कई सारे मजदूर आये, सामान उतारने। कुछ गाड़ी हांकने वाले रंगू के पास आकर बैठ गए। बातों-बातों में उन्होंने उसे बताया-कैसे वे तक्षशिला से होते हुए आ रहे हैं। रंगू ने गाड़ीवान से पूछा - 'तुम्हारे सेठ ने क्या-क्या खरीदा है?' गाड़ी-

वान बोला, 'क्या नहीं खरीदा यह पूछो। पर सही में सबसे सुन्दर चीज तो है तक्षशिला की नीले पत्थरों की मालाएँ। क्या अनमोल चीज है!' रंगू बोला, 'तुम भी उन दूर देशों में कुछ खरीद पाए?' गाड़ीवान की आँखें चमक उठीं। वह बोला, 'हाँ, खरीदा है भैया। बहुत कोशिश कर के कुछ पैसे जोड़े थे। सो हस्तिनापुर के बाजार से यह जरी का कपड़ा खरीदा है। कैसा है?' रंगू ने कपड़े को छूते हुए कहा- 'बहुत अच्छा'।



यह सब देखकर रंगू की बहुत इच्छा हुई कि वह भी बास्तनी के लिए कुछ खरीदे । मगर उसके पास पैसे थे कहां १ फिर उसे अचानक याद आया कि उसने एक सिक्का महल की उत्तरी दीवार में छुपा रखा है । वह बहुत खुश हो गया । तेजी से दौड़ता हुआ वह गया और महल की दीवार से सिक्का निकाल लाया ।




सिक्के को लेकर वह बाजार गया । वह चाहता था कि बास्तनी के लिए जरी रेशम का कपड़ा खरीदे । वह एक कपड़ा व्यापारी के पास गया । उसके पास सब सारे कीमती कपड़े थे । व्यापारी ने बताया - "यह उत्तम रेशम का कपड़ा काशी नगर से आया है - इसकी कीमत है - पांच सिक्के । और यह रंगीन सूती कपड़ा उज्जयिनी से आया । इसकी कीमत है दो सिक्के ।" रंगू के पास तो सिर्फ एक सिक्का था । वह दुखी होकर वहां से निकला । फिर उसने सोचा - "दूर देश में बनी चीजें तो महंगी होंगी ही । चलो यहां के कारीगरों से कुछ खरीदते हैं ।"


वह सबसे पहले कुम्हार की गली में गया । गली में 10-15 कुम्हार रहते थे । उनके घरों के बाहर सुन्दर चिकने-

चमकीले-काले बर्तन रखे थे । उन पर उंगली से बजाओ तो पीतल के बर्तन जैसी आवाज निकले । रंगू ने एक कुम्हार से उसका दाम पूछा तो उसने कहा - "ये है दो सिक्कों का । ऐसे सुन्दर छड़े न राजगृह में बनते हैं न काशी में । वहां के व्यापारी इन्हें यहीं से खरीदकर ले जाते हैं । चाहो तो तुम ये लाल रंग के बर्तन ले जाओ । ये सस्ते हैं । एक सिक्के में दो मिलेगी । मगर रंगू को लाल बर्तन पसंद नहीं आया ।

धूमते-धूमते उसे एक सोनार की दुकान नजर आई । उसने सोचा शायद एक छोटी सी अंगूठी मिल जाएगी । सोनार के पास सुन्दर-सुन्दर गहने थे । तरह-तरह की मालायें थीं । सोने और चांदी की चुड़ियां थीं, छन-छन करती पायल थीं । सोने के गहनों में कीमती पत्थर गढ़े थे । सोनार ने बताया कि ये सब प्रतिष्ठान से आता है । मगर सोनार की सब चीजें महंगी थीं । रंगू को अपनी मुर्खता पर झेंप आई । सिर नीचा किए वह दुकान से निकल आया ।



फिर वह बढईयों की गली में जा पहुंचा । बढई के पास तरह-तरह की लकड़ी की चीजें थीं । पहिये, चोकी, डिब्बे, बक्से आदि । मगर ये रंगू को पसंद नहीं आए ।



कई जगह घूमकर आखिर में रंगू एक कसेरे के पास पहुँचा। उसकी दुकान में ताबे, पीतल व कसि के तरह-तरह के बर्तन रखे हुए थे। उसे एक ताबे का कटोरा बहुत पसंद आया। रंगू ने भाव पूछा तो उसने बताया - "तीन सिक्के में दो कटोरों की जोड़ी मिलेगी।" अब रंगू के पास तो एक ही सिक्का था। रंगू ने कसेरे से बहुत अनुरोध किया कि वह कटोरा एक सिक्के में दे दे। कसेरे ने कहा - "मगर तांबा इतना कीमती है। इसे हम मगध से मंगवाते हैं। मैं कीमत कैसे कम करूँ १" काफी देर रंगू उसे भाव कम करने को कहता रहा। अंत में कसेरे ने कहा - "अच्छा तो तुम एक काम करो। अभी कुछ देर में सेठ अनाथपिंडिक यहां बर्तन खरीदने आने वाले हैं। तुम इन बर्तनों को साफ कर टोकरियों में बाँध दो। फिर मैं तुम्हें तुम्हारा बर्तन एक सिक्के में दे दूँगा।"

रंगू विवश होकर बर्तन साफ करने लगा। कसेरे ने अपनी पोथी में लिखा हुआ था कि सेठ अनाथपिंडिक ने कौन कौन से बर्तन माँगे थे। वह पोथी में से देख देकर बर्तन निकालने लगा और रंगू को साफ करने के लिए देने लगा।

कुछ देर के बाद अनाथपिंडिक एक धोड़े पर चढ़कर आया। वह दुकान पर आकर धोड़े से उतरा। उसने अपनी पोथी निकाली। फिर कसेरे से बोला - "मैं कल प्रतिष्ठान जा रहा हूँ - व्यापार करने। उसके लिए मुझे कसि के बर्तन चाहिए थे। छः महीने पहले मैंने कुछ बर्तन बनाने के लिए कहा था। क्या वे बन गए १" कसेरे ने कहा "माल तैयार है। यह आदमी उन्हीं को साफ करके बाँध रहा है।" उसने सेठ को बर्तन दिखाए। अनाथपिंडिक ने अपनी पोथी में हिसाब-किताब लिख रखा था। पोथी में से पढ़ते हुए वह कसेरे से बोला, "छः महीने पहले यही दाम तय किए थे। उसी हिसाब से लूँगा। तब आपको कुछ रकम भी चुका दी थी। बाकी की रकम यह लीजिए।" यह कहकर अनाथपिंडिक ने कसेरे को कई चाँदी के सिक्के दिए। इतने में बेलगाड़ी आयी और रंगू ने सामान गाड़ी पर लाद दिया। फिर उसने अपना एक सिक्का कसेरे को दिया और ताबे का कटोरा लेकर खुशी-खुशी घर चला।



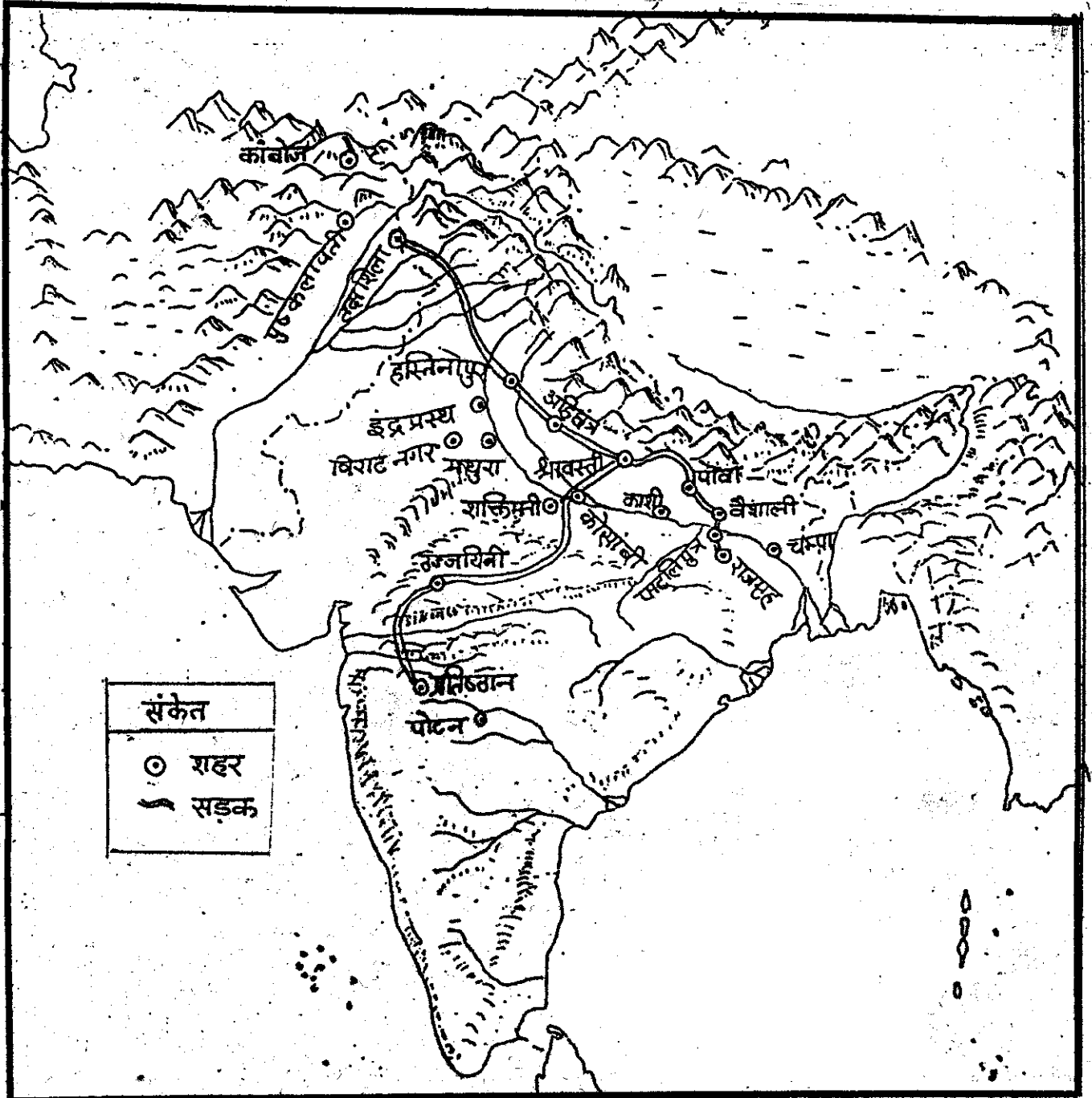
चलो, रंगू को घर जाने दें, और हम भी बीते दिनों की इस यात्रा से लौटें ।

कितने सारे नगरों का जिह्न इस कहानी में था । इन नगरों के बारे में

हमें उस समय के ग्रंथों से पता चलता है । यह भी पता चलता है कि उस समय के व्यापारी किन मार्गों से होकर व्यापार के लिए यात्रा करते थे । ये बातें हमने नीचे दिए नक्शे क्र० 3 में दिखाई हैं ।

नक्शा-3

शहर और सड़क (आज से 2500 साल पहले)



- इनमें से जिन शहरों का नाम तुम पढ़ चुके हो, उन्हें पहचान कर गोला बनाओ। इनके अलावा उस समय और कौन से शहर थे ? उनके भी नाम लिखो।

राजगृह से उत्तर की ओर जाने वाले मार्ग को उत्तरापथ कहा जाता था।

- राजगृह और तक्षशिला के बीच इस मार्ग में कौन-कौन से शहर पड़ते थे ? श्रावस्ती से दक्षिण की ओर जाने वाला मार्ग कहाँ समाप्त होता था ? इस मार्ग को दक्षिणापथ कहा जाता था।

- दक्षिणापथ पर कौन से शहर पड़ते थे ?

जनपदों का नक्शा देख कर क्या तुम यह भी बता सकते हो कि उत्तरापथ कौन-कौन से जनपदों से होकर जाता था ? और दक्षिणापथ ?

इन रस्तों के होने का यह मतलब निकलता है कि उन दिनों लोग नियमित रूप से दूर-दूर की यात्रा करने लगे थे। कैसे लोग ? जैसे सेठ अनाथपिण्डिक।

- व्यापारियों के अलावा राजाओं को भी इन लम्बे मार्गों से बहुत लाभ मिलता होगा। वो कैसे - चर्चा कर के लिखो। आज भी ऐसे लम्बे रस्ते हैं। वे किन लोगों के काम आते हैं - इस पर भी कक्षा में चर्चा करो।

हाँ उत्तरापथ और दक्षिणापथ आज के लम्बे रस्तों की तरह काले डामर वाले नहीं थे। ये कच्चे रस्ते थे और बीच-बीच में बहुत घने जंगलों से हो कर जाते थे। आज तो इतने जंगल भी नहीं बचे हैं। उन दिनों नदियों पर पुल नहीं बने थे। बाढ़ के समय कोई यात्रा नहीं कर पाता था।

लम्बे मार्गों और नगरों के अलावा क्या तुम्हें उस समय की और कोई खास बात पकड़ में आई ? यह वो समय था जब अलग-अलग तरह के काम धंधे शुरू होने लगे थे। रंगू को ही देखो। उसका धंधा था सड़कें साफ करना। बास्ती का मालाप बना कर बेचने का धंधा था। इस तरह हर काम को करने के लिए अलग लोग हो गए थे।

- रंगू और बास्ती के अलावा ऐसे कौन से लोग तुमने रंगू की कहानी में देखे ? 8 लोगों के नाम गिनाओ।

इस पाठ के शुरू में भी तुम ऐसे बहुत से लोगों को देख चुके हो - जैसे छेती की देख रेख करने वाले गृहपति, छेती में काम करने वाले दास व मजदूर, बलि इकट्ठी करने वाला अधिकारी, हाथी चलाने वाले महोत, घोड़े चलाने वाले धुड़सवार, लड़ने के लिए सैनिक, तीर चलाने वाले तीरंदाज। उन दिनों, इसी तरह लोग कई अलग-अलग काम धंधे अपनाते लगे थे। कुछ लोग रथ चलाने वाले सारथी थे, कुछ राज्य का हिसाब किताब रखने वाले लेखमाल बने, कुछ सेना की देख रेख करने वाले अधिकारी बने, कुछ सेना के खाने पीने का प्रबन्ध करने वाले अधिकारी बने। फिर रसोइए का भी धंधा था,

और नाई का भी, हलवाई और धोबी का भी। कई लोग सुतार थे और भवन बनाते थे, कई बसोढ़ थे और टोकरियाँ बना कर बेचते थे, कई लोग ईट बनाया करते थे। घर के काम-काज के लिए नौकर चाकर भी थे और हाँ, जरूरी चीजें लिख के रखने वाले लिपिक भी।


तुम सोचोगे कि इसमें क्या आश्चर्य की बात है। आज भी तो लोग कई तरह के काम धंधे करते हैं। पर, पशुमालक आयों और छेती करने वाले आयों के समय की तुलना में सोचो। तब लोग इतने अलग अलग तरह के काम धंधे कहाँ करते थे ?

फिर इस समय यह कैसे संभव हुआ ? अलग-अलग धंधों में लगे लोगों का गुजारा कैसे होता था ? इनका भोजन कौन उगाता था ?

गांवों में गृहपति के छेतों पर सब अनाज उगाया जाता था। तुम जानते हो कि इस समय पहले से ज्यादा गांव व छेत थे। पहले से ज्यादा अनाज उगता था। इन दिनों छेती के तरीके पहले से अच्छे हो गए थे। लोहे की नोक वाले हल से छेत अच्छे तैयार हो जाते थे। धान की स्पार्ह भी बहुत होने लगी थी। इससे काफी ज्यादा धान पैदा होने लगा। यह अनाज गृहपति, उसके परिवार, उसके दास व नौकरों के लिए काफी था। उसके ऊपर जो अनाज बचता, उसे गृहपति शहर में बेच आते। शहर में ब्यापारी अनाज खरीदता और गृहपति को पैसे दे देता।



गृहपति पैसे से शहर में बनी चीजें खरीद लेता। चीजों के बदले में वो कारीगर को पैसे देता।



शहर के कारीगर और अलग अलग काम धंधे करने वाले लोग अनाज के ब्यापारी के यहाँ से अपने लिए अनाज खरीद लेते।





इस तरह अलग-अलग काम धंधे करने वाले लोगों को अपना भोजन मिलता ।

- क्या आज भी इस तरह का लेन-देन होता है ?

सिक्के

एक और बात पर भी ध्यान दो । रंगू की कहानी में हमने सिक्कों का उपयोग देखा । यह वो समय था जब सिक्कों का चलन होने लगा था । इस समय से पहले लोग सिक्कों का उपयोग नहीं करते थे । सिक्कों से क्या किया जाता था ? कौन इस्तेमाल करता था सिक्के ? कहानी में ढूँढ कर लिखो -

- सिक्कों का उपयोग

किसने किया	किस लिए किया

इन दिनों ही सिक्कों का उपयोग क्यों होने लगा ? शायद इसलिए क्योंकि पहले इतना व्यापार नहीं होता था । ज्यादा व्यापार करने के लिए सिक्कों का उपयोग बहुत जरूरी है । नहीं तो लेन-देन में कठिनाई होती है । कल्पना करो कि दुनिया में अब सिक्के नहीं रहें तो क्या होगा ?

2500 साल पहले उन दिनों सिक्के चांदी के बनाए जाते थे । चांदी को चादर को छोटे-छोटे टुकड़ों में काटा जाता । फिर उन पर राजा अपना एक ठप्पा लगवाता । शायद अलग-अलग

राजाओं के अलग-अलग ठप्पे थे । क्या तुम देखना चाहोगे कि ये ठप्पे लगे सिक्के कैसे दिखते थे ?

मगध जनपद के सिक्के -



कोशल जनपद के सिक्के -



गान्धार जनपद के सिक्के -



- सिक्कों पर लगे ठप्पों को अपनी काँपी में बनावो ।

क्या एक जनपद के सब सिक्के एक जैसे हैं ?

अलग-अलग जनपदों के सिक्कों के बीच तुम्हें क्या फर्क नजर आता है ?

आज कल हम जो सिक्के इस्तेमाल करते हैं उन पर क्या बना होता है ? वे किस चीज के बने होते हैं ? क्या भारत देश के हर हिस्से में एक ही तरह के सिक्के होते हैं ?

पंजाब में, गुजरात में, कश्मीर में ?

## लिखाई

यह वो समय भी था जब सबसे पहले लिखाई का उपयोग हुआ। तुम्हें पता है न, वेदों के मन्त्र गीत संस्कृत भाषा में बोले व गाए जाते थे। पर उन्हें लिखा नहीं जाता था।

इस समय लोग लिखने लगे। इस पूरे पाठ में तुम्हें लिखाई का उपयोग कौन करता दिखाई दिया? ऐसे तीन लोगों के नाम बताओ।

### ● लिखाई का उपयोग

किसने किया	किस लिए किया

अगर लिखाई नहीं की जाती तो इनमें से हर एक को अपने काम में क्या कठिनाई आती?

इस समय शायद ये लोग पत्तों पर या कपड़े पर लिखते थे। वो पोथियाँ तो सड़ गईं और बची नहीं। पर इन दिनों राजाओं ने पत्थरों, चट्टानों और छम्भों पर अपने सँदेश भी खुदवाए थे। ऐसे एक राजा अशोक के बारे में

तुम पढ़ोगे। इस तरह हमें पता चलता है कि शुक्र-शुक्र के अक्षर कैसे थे। जिन अक्षरों में हम यह किताब लिखा रहे हैं उसे देवनागरी कहते हैं। पर शुक्र-शुक्र की लिखाई को ब्राह्मी कहते थे। ब्राह्मी में क को + ऐसे लिखा जाता था। इसी तरह ख को ४, ग को ८। ब्राह्मी में लिखे दो वाक्यों को देखो-

"४८ ८४ ८४ ४८"  
 "४ ००४ + ८ ४ ४ ४"।

- क्या इसमें से कोई अक्षर तुम्हारी पहचान का है?

इसमें लिखा है :

"मेरा नाम राजू है।

मैं छठवीं क्लास में पढ़ता हूँ।"

क्या तुम अब बता सकते हो कि ब्राह्मी में इन अक्षरों को कैसे लिखा जाता था?

म-	न-
र-	प-
ठ-	ता-
ला-	स-

हम जिन अक्षरों में लिखते हैं वे बाद में चलकर बने। अक्षर कैसे बनते हैं, यह बहुत मजेदार कहानी है। तुम्हें फिर कभी बताएँगी।



### अभ्यास के प्रश्न

1. लिच्छवी जनपद की क्या बातें मगध जनपद जैसी नहीं थीं?
  2. इन दिनों राज्यों या जनपदों के बीच लड़ाई किन कारणों से होती थी?
- इसमें खेती करने वाले आर्यों के दिनों से क्या फर्क आया?

3. इस समय राजा की सेना लड़ने जाती थी । आर्यों के समय में जो लोग लड़ने जाते थे, वे इन सैनिकों से कैसे भिन्न थे ?
4. इन दिनों सैनिक, अधिकारी व मंत्री रखने के लिए राजा धन कैसे जुटाता था ?
5. तुम जहां रहते हो, वहां उस पुराने समय में क्या कोई जनपद था ?
6. गृहपति कौन होता था ?
7. इन दिनों बलि कैसे ली जाती थी ? क्या देखी करने वाले आर्यों के समय में भी बलि इसी तरह ली जाती थी ?
8. नक्शा क्र.-3 में देख कर बताओ कि उस समय के कौन से शहर आज भी हैं ? अगर तुम कभी इन शहरों में जाओ तो कल्पना करना कि कैसे ये शहर हजारों सालों से बसे हुए हैं ।
9. इस समय के व्यापारी किस की सवारी करते थे ? वे व्यापार के लिए माल किस पर लादते थे ?  
और आज कल व्यापारी यात्रा करने व माल ढोने के लिए क्या - क्या उपयोग करते हैं ?
10. रंगू की कहानी में एक जगह से दूसरी जगह माल लाने ले जाने के कई उदाहरण हैं ।  
जैसे - 1. तक्षशिला से श्रावस्ती    ॥ अनाथपिण्डिक का कारवां आया था ॥  
          2. हस्तिनापुर से श्रावस्ती    ॥ गाडीवान जरी का कपड़ा खरीद कर लाया था ॥  
          3.  
          4.  
          5.  
          6.

इसी तरह ऐसे चार और उदाहरण ढूँढ कर लिखो ।

11. इस समय बहुत सारे कारीगर और व्यापारी थे । राजा सैनिक, मंत्री व अधिकारी भी रखता था । इस सब के लिए क्षेत्रों में उगाया जा रहा अनाज बहुत जरूरी था । वह कैसे - समझ कर लिखो ।
12. समय के साथ भवन और शहरों की बनावट भी बदलती जाती है । नीचे कई तरह के भवन बने हैं । क्या तुम इस समय के भवन पहचान सकते हो ?



## पाठ-8 नए प्रश्न नए विचार

तुमने अब तक यह देखा कि अलग-अलग समय में लोगों का जीवन कैसे बदलता गया । इस पाठ में अब हम उन बीते दिनों के लोगों के विचारों को जानेंगे उनके मन में क्या प्रश्न उठते थे ? वे किन बातों के बारे में सोचते विचारते थे ?

हेती करने वाले आर्यों के समय में ब्राह्मण बड़े-बड़े यज्ञ करवाते थे । वे हमेशा यह बताते थे कि कौन से यज्ञ को कैसे करना चाहिए, किस यज्ञ से क्या फल मिलेगा और किस अक्सर पर कौन सा यज्ञ करना चाहिए - आदि । मगर उस समय कई ऐसे लोग थे जो केवल तरह-तरह के यज्ञों से संतुष्ट नहीं थे । वे जानना चाहते थे - यह दुनिया कब बनी ? कैसे बनी ? किसने यह सब बनाया ? मरने के बाद हमारा क्या होगा ? क्या हम मरने से बच सकते हैं ? क्या दुनिया में कोई ऐसी चीज है जो बदलती नहीं है ?

ऋग्वेद में उस समय की एक कविता है जिसमें एक कवि ने अपने मन में उठे प्रश्नों को लिखा है :

"किसको पता है, कौन जानता है,  
यह सब कैसे हुआ कहां से आया ?  
ईश्वर खुद इस सब के बाद बना है,  
तो किसे पता है, कि सचमुच  
यह सब कहां से आया ?  
कहां से इस सब की शुरुआत हुई ?  
ईश्वर जो आसमान से यह सब  
देखता है,



चाहे उसने यह सब बनाया है या नहीं बनाया है,

शायद उसे पता है,

या शायद उसे भी नहीं पता ।"

कई ऐसे ब्राह्मण और राजन्य थे जो बड़े उत्साह से इन प्रश्नों के बारे में आपस में चर्चा करते थे । कुछ ऐसे थे जो जंगल में आश्रम बनाकर रहते थे । इन प्रश्नों के बारे में सोचते और दूसरों को बताते व सिखाते थे । इन लोगों के संवाद और विचार उपनिषद् नाम के ग्रंथों में पढ़ने को मिलते हैं ।

उन्होंने देखा कि अपने चारों तरफ हर चीज बदलती है । चीजें पैदा होती हैं और अन्त भी हो जाती हैं । हम खुद पैदा होते हैं और मर जाते हैं । उनका मानना था कि जो चीज बदलती है और अन्त हो सकती है, वह सत्य नहीं हो सकती । इसलिए वे ऐसी चीज की खोज में लगे थे जो बदलती नहीं है,

और अमर है। उन्होंने ऐसी चीज को आत्मा या ब्रह्म कहा।

काफ़ी समय बीता। बड़े-बड़े शहर बने। राजा बने। तरह-तरह के कारीगर बने, ब्यापारी बने, नई-नई चीज़ें बनीं। लोगों को नए-नए काम धन्धे करने को मिले। समाज में अमीर और गरीब के बीच अंतर बढ़ने लगे।

अब लोगों के मन में और नए-नए प्रश्न उठे। नए विचार आए। वे पूछने लगे -

जीवन में दुःख क्यों होता है ? क्या मनुष्य दुःख से छुटकारा पा सकता है ? मनुष्य को अपना जीवन किस प्रकार बिताना चाहिए ? समाज में लोगों को किस प्रकार का व्यवहार करना चाहिए ? क्या वास्तव में ब्राह्मण उच्च हैं और बाकी लोग उनसे नीचे हैं ?

बहुत से लोग घर परिवार छोड़-छाड़कर इन प्रश्नों का उत्तर खोजने निकले। इनमें हर तरह के लोग थे - राजा के बेटे भी, ब्राह्मण, किसान, ब्यापारी, गुलाम भी और कारीगर भी।

वे गांव-गांव, शहर-शहर, जनपद-जनपद घूमते थे। अक्सर वे गांव या शहर के पास के वनों में रहते थे। रोज गांव में जाकर लोगों से भिक्षा मांगकर लाते, उसी से अपना गुज़ारा करते थे। ऐसे लोगों को परिव्राजक (घूमने वाले) या श्रमण कहा जाता था। पाँच-दस श्रमण या चालीस पचास श्रमण तक एक साथ रहते और घूमते थे।

श्रमण अकेले में प्रश्नों के बारे में

विचार करते, और फिर एक-दूसरे से मिलकर चर्चा करते थे। हरेक का अपना-अपना विचार होता। उनके बीच खूब वाद-विवाद होता। चर्चा के बाद कभी कोई दूसरे का विचार मान लेता और उसका शिष्य बन जाता। अगर सहमती नहीं हुई तो दोनों अपनी-अपनी राह चलते।



गांव और शहर के आम लोग भी उनकी बातें सुनने के लिए उत्सुक थे। जब भी कोई श्रमण किसी गांव या शहर के पास आता तो वहाँ के सब लोग - राजा, सैनिक, मंत्री, अधिकारी, किसान कारीगर, - उनके पास जाते - उनके विचार सुनने, उनसे प्रश्न पूछने, चर्चा



करने । इस तरह धीरे-धीरे कुछ लोग एक श्रमण की बात से प्रभावित हुए तो और कुछ लोग दूसरे श्रमण से प्रभावित हुए । गाँव और शहरों में लोगों के बीच भी चर्चाएँ हुआ करतीं थीं ।

उस समय कई महत्वपूर्ण श्रमण बने, जैसे - गौतम बुद्ध, महावीर जैन, मकली गोशाल, अजीत केश कंबलिन, और संजय केलठीपुत्र । हरेक का अपना-अपना विचार था, अलग-अलग मत था । चलो उनमें से कुछ लोगों के बारे में पढ़ें ।

तुमने गौतम बुद्ध के बारे में तो सुना ही होगा । उनका जन्म शक्य नाम के एक गण संघ में हुआ था । शक्यों की राजधानी थी कपिलवस्तु । बुद्ध के बचपन का नाम था सिद्धार्थ । उनके पैदा होते ही उनकी माँ की मृत्यु हो गई थी । उनका पालन पोषण उनके पिता सद्धोष ने किया । बड़े होने पर सिद्धार्थ का विवाह हुआ और उन्हें राहुल नाम का एक पुत्र भी हुआ ।

सिद्धार्थ ने अपने चारों ओर लोगों को दृढ़ से ग्रस्त पाया, एक दूसरे से लड़ते हुए पाया । वे विचार करने लगे कि इस सब से छुटकारा कैसे पा सकते हैं ? उन्हें कई परिव्राजक देखने को मिले और उन्होंने तय किया कि वे भी अपने परिवार को त्याग कर, घर छोड़कर सत्य की खोज में निकलेगी । एक रात को वे चुपचाप घर छोड़कर निकले ।

घर से निकलकर वे कोशल जनपद में एक परिव्राजक से मिले और उससे कई बातें सीखीं । फिर वे राजगृह के पास के जंगल में रहने लगे । राजगृह में

भिक्षा माँगते और जंगल में जाकर चिंतन मनन करते । वहाँ वे अनेक श्रमणों से मिले । फिर वे एक सुन्दर जंगल में गए और वहाँ घोर तपस्या की । कई दिन बिना भोजन-पानी के बिताए । अंत में उन्हें ऐसी घोर तपस्या का कोई मतलब नहीं लगा और उन्होंने तपस्या करना छोड़ दिया । उपवास भी बंद कर दिया । वे चिंतन मनन करने लगे।

एक दिन पीपल के पेड़ के नीचे बैठे वे सोच रहे थे तो उन्हें अपने प्रश्नों का उत्तर मिला । इसके पश्चात बुद्ध जगह-जगह घूमने लगे - अब लोगों को अपने विचार बताने लगे ।



बुद्ध ने कहा कि जीवन में दुःख निश्चित है - बुढ़ापा, बीमारी या मृत्यु से हम बच नहीं सकते ।

हर चीज बदलती है । ऐसी कोई चीज दुनिया में नहीं हो सकती है जो हमेशा स्थिर रहे । हर चीज का अंत भी निश्चित है । मनुष्य इस बात को समझता नहीं है । इसलिए वह जीवन में दुःख भोगता है ।

मगर हम दुःख पर विजय पा सकते हैं। यह कैसे ? उनका कहना था कि दुःख का कारण है बहुत अधिक इच्छा करना। अगर हम संयम से अपना जीवन बितायें तो इच्छा पर विजय पा सकते हैं - इस तरह हम दुःख से भी छुटकारा पा सकते हैं।

तपस्या के नाम पर अपने आप को दुःख देना या हमेशा भोग किलास में रहना - बुद्ध ने इन दोनों का छुड़न किया। उनका कहना था कि मनुष्य को हर समय बीच का रास्ता अपनाना चाहिए।

बुद्ध ने बार-बार कहा है कि बड़े-बड़े यज्ञ जिनमें पशुओं की बलि चढ़ाई जाती है, उनसे कोई फायदा नहीं होगा। मनुष्य के लिए अच्छा आचरण, पूजा-पाठ वं यज्ञों से श्रेष्ठ है।

उस समय ब्राह्मण कहते थे कि वे ही श्रेष्ठ हैं और बाकी जातियाँ उनसे नीची हैं। इस समय के बहुत सारे श्रमणों ने इसका छुड़न किया। बुद्ध का भी कहना था कि उन्नत या नीच जन्म या पेशे से नहीं बल्कि कर्म और आचरण से होती है। बौद्ध ग्रंथों में इस बात पर कई कहानियाँ मिलती हैं। उनमें से एक कहानी यह है-

एक बार जब गौतम बुद्ध श्रावस्ती नगर में रहते थे, अलग-अलग जनपदों से 500 ब्राह्मण श्रावस्ती में आए। उन्होंने सोचा - "गौतम बुद्ध कहते हैं कि ब्राह्मण, राजन्य, वैश्य, और शूद्र-चारों को मोक्ष मिल सकता है। यह बात सही नहीं है। उनसे वाद-विवाद करके उनके कथन को झूठा सिद्ध करेगी।" वाद-विवाद

के लिए उन्होंने आशक्लायन नाम के एक युवक ब्राह्मण का नाम सोचा। फिर उन्होंने आशक्लायन के पास जाकर उसे बुद्ध से वाद-विवाद करने को कहा।

आशक्लायन बोला - "गौतम के साथ वाद-विवाद करना कठिन है। फिर भी आपके आग्रह के कारण मैं आपके साथ चलता हूँ।"



इसके बाद आशक्लायन 500 ब्राह्मणों सहित गौतम के पास गया और बोला - "हे गौतम, ब्राह्मण कहते हैं कि ब्राह्मण जाति ही उंची है, अन्य जाति नीची हैं। ब्राह्मणों को ही मोक्ष मिलता है, औरों को नहीं। ब्राह्मण ब्रह्मदेव के मुँह से उत्पन्न हुए हैं। अतः वे ही ब्रह्मदेव के क्रां के हैं। हे गौतम, इस संबंध में आपका क्या मत है ?"

बुद्ध बोले - "हे आशक्लायन, ब्राह्मणों के बच्चे अन्य जातियों के बच्चों की तरह अपनी माता के पेट से जन्म लेते हैं। यदि ब्राह्मण ऐसा कहे कि वे ब्रह्मदेव के मुँह से उत्पन्न हुए हैं तो क्या यह आश्चर्य की बात नहीं है ?"

आशक्लायन बोला - "हे गोतम आप चाहे जो कहिए ब्राह्मणों का यह दृढ़ विश्वास है कि वे ब्रह्मदेव के क्रां के हैं ।"

बुद्ध - "क्या तुमको ऐसा लगता है कि यदि अश्रिय, क्रय, या शूद्र, हत्या या चोरी करें, झूठ बोल दें, चुगली, गाली गलोच करें, तो वे ही मरने के बाद नरक में जाएंगे ? यदि ब्राह्मण ये कर्म करेगा तो वह नरक नहीं जायेगा ?"

आशक्लायन - "हे गोतम किसी भी कर्म का मनुष्य ये पाप करे तो वह नरक में चला जाएगा - चाहे वह ब्राह्मण हो या शूद्र ।"

बुद्ध - "क्या तुम ऐसा मानते हो कि कोई ब्राह्मण इन पापों को न करे तो केवल वही स्वर्ग में जाएगा ? बाकी कर्म के लोग अच्छे आचरण से स्वर्ग नहीं जा सकते हैं ?"

आशक्लायन - "किसी भी जाति का मनुष्य ऐसे पाप नहीं करने पर स्वर्ग जाएगा । अच्छे आचरण का फल ब्राह्मण और शूद्र दोनों को समान रूप से मिलेगा ।"

बुद्ध - "क्या तुम्हें ऐसा लगता है कि इस प्रदेश में केवल ब्राह्मण ही लोगों से प्यार कर सकते हैं ?"

आशक्लायन - "नहीं, चारों जातियों के लोग मैत्री भावना रख सकते हैं ।"

बुद्ध - "तो फिर यह कहने का क्या मतलब है कि ब्राह्मण ही उंचे हैं और अन्य जाति नीचे हैं ?"

आशक्लायन - "आप जो भी कहें ब्राह्मण यह मानते हैं कि वे उंचे हैं ।"

बुद्ध - "हे आशक्लायन, दो ब्राह्मण भाईयों में से एक वेद-पठन किया हुआ है और अच्छा शिक्षित है तथा दूसरा अशिक्षित है, तो उनमें से किस भाई को ब्राह्मण लोग श्राद्ध तथा यज्ञ में प्रथम आर्मक्रण देगी ?"

आशक्लायन - "जो शिक्षित होगा उसी को पहले आर्मक्रण दिया जाएगा ।"

बुद्ध - "अब मान लो कि उन दो भाईयों में एक बहुत विद्वान किन्तु दुराचारी है और दूसरा विद्वान नहीं, किन्तु अत्यन्त शील है, तो उन दोनों में सबसे प्रथम किसे आर्मक्रण दिया जाएगा ?"

आशक्लायन - "हे गोतम, जो शीलवान होगा उसी को प्रथम आर्मक्रण दिया जाएगा । दुराचारी मनुष्य को दिया हुआ दान कैसे फलदायक होगा ?"

बुद्ध - "हे आशक्लायन, पहले तुमने जाति को महत्त्व दिया, फिर वेद-पठन को और अब शील को महत्त्व देते हो । अर्थात् मैं जो कहता हूँ कि चारों कर्म के लोग मोक्ष प्राप्त कर सकते हैं उसी बात को तुमने माना है ।"

बुद्ध का यह भाषण सुनकर आशक्लायन सिर झुकाकर चुप बैठ गया । उसकी समझ में न आया कि आगे क्या कहा जाए ।

बुद्ध के विचारों से कई सारे लोग प्रभावित हुए । कई लोग घर-बार छोड़ कर भिक्षु (सन्यासी) बन गए और बुद्ध के साथ चल दिए । इन सब भिक्षुओं ने मिलकर एक संगठन बनाया जिसका नाम था बौद्ध संघ ।



संघ में जो भी था उसे कई नियमों का पालन करना पड़ता था। संघ में कोई ऊँचा या नीचा नहीं माना जाता था। हर भिक्षु को, चाहे वह संघ में आने से पहले ब्राह्मण रहा हो या भूमि, समान अधिकार मिला हुआ था।



भिक्षु किसी शहर या गाँव के बाहर झोपड़ियों में रहते थे। रोज़ उनको गाँव में जाकर भिक्षा मांगनी पड़ती और भिक्षा से जो अन्न मिले उसी को वे खाते थे। हर भिक्षु को संघ की तरफ़ से तीन जोड़ी कपड़े और एक भिक्षा पात्र मिलता था। इससे ज्यादा वह कोई और चीज़ नहीं रख सकता था।

संघ का यह नियम था कि बारिश के चार महीनों को छोड़कर साल के बाकी महीने संघ के सदस्य छुमते रहेंगे। गाँव-गाँव जाकर धर्म का प्रचार करेंगे।

संघ के इन नियमों से काफी लोग आकर्षित हुए। संघ में ऊँच-नीच का भेद भाव नहीं था। सबको आदर और सम्मान दिया जाता था।

शुरू में बुद्ध ने औरतों को अपने संघ में शामिल नहीं होने दिया। पर बाद में उन्होंने अपना क्वार बदला। बहुत सी औरतें घर परिवार के बंधनों को छोड़कर संघ में शामिल हुईं। उन्होंने भिक्षुगी बनकर संघ के काम में अपना जीवन बिताया।

उस समय बुद्ध के अलावा और भी भ्रमण थे। उनमें से एक थे वर्धमान महावीर। बुद्ध की तरह महावीर भी एक गण संघ के थे और वे घर त्यागकर भ्रमण बन गए थे। उनका कहना था कि दूसरे लोगों और जीव-जन्तुओं को दुख पहुँचाने से हमारे ऊपर बुरे कर्मों का बोझ बढ़ता है। अतः बोझ को कम करने के लिए उपवास आदि घोर तपस्या करनी चाहिए। जहाँ तक संभव हो किसी भी प्रकार के प्राणी को, चाहे वह छोटे से छोटा कीड़ा या काई क्यों न हो, दुख नहीं पहुँचाना चाहिए। हिंसा नहीं करनी चाहिए। वर्धमान महावीर द्वारा चलाए गए धर्म को जैन धर्म कहा गया। जैन धर्म ने अहिंसा पर बहुत जोर दिया है।

कई भ्रमण ऐसे भी थे जो यह कहते थे कि अपने जीवन पर हमारा कोई नियंत्रण नहीं हो सकता है। ऐसे भ्रमणों को आजीविक कहते थे। प्रमुख आजीविक भ्रमण थे - मकड़ली गोशाल, पूरण कश्यप, पक्कड़ कात्यायन। वे नहीं मानते थे कि अच्छे कर्मों का अच्छा फल मिलेगा और बुरे कर्मों का बुरा फल मिलेगा।

उनका कहना था कि मनुष्य अपने किसी भी प्रयत्न से न सुख बढ़ा सकता है न अपना दुख घटा सकता है। याद

करो, बुद्ध और महावीर कहते थे कि अच्छे आचरण से हम दुःख पर विजय पा सकते हैं ।

उस समय अजीत केशकंबलिन नामक एक श्रमण था । उनके साथ कई और श्रमण थे । इन्हें लोकायत कहते थे । इन लोगों का मानना था कि न कोई आत्मा होती है न ईश्वर । मनुष्य मिट्टी, पानी, हवा आदि तत्वों से बना है । जब मर जाता है तो उसका कुछ भी नहीं बचता है । इसलिए यह सच नहीं है कि अच्छे कर्म करने से अगले जन्म में अच्छे फल मिलेंगे । हमें इसी जीवन में सुख पाने की कोशिश करनी चाहिए । सुख जानना-पीना चाहिए । और मोज करनी चाहिए । उनका कहना था -

"जब तक मनुष्य जिन्दा है उसे सुख से जीना चाहिए, उधार भी लेना पड़े तो भी छूट के घी पीना चाहिए । जब हम मर कर राख हो जाएँ तो क्या हमें जीवन वापिस मिल सकता है ?"

उस समय के लोग इस प्रकार सोचते थे । क्या तुम भी इन बातों के बारे में कभी सोचते हो - कि दुःख क्यों होता है ? मरने के बाद क्या होता है ? समाज में ऊँच-नीच क्यों होती है ? हमें अपना जीवन कैसे बिताना चाहिए ?

क्या तुम्हारे माता-पिता या शिक्षक भी इन बातों के बारे में चर्चा करते हैं ?

### अभ्यास के प्रश्न

1. जो लोग यज्ञ कर्मों से स्तुष्ट नहीं थे, उनके मन में किस तरह के प्रश्न उठते थे ?
2. "आत्मा" किसे कहा गया ?
3. श्रमणों के जीवन पर 8 वाक्य लिखो ।
4. गौतम बुद्ध के अनुसार - दुःख क्यों होता है ?  
मनुष्य दुःख से छुटकारा कैसे पा सकता है ?
5. बुद्ध ने यह बात सिद्ध करने के लिए कि ब्राह्मण सबसे ऊँचे नहीं हैं - क्या तर्क दिए ?
6. निम्नलिखित विचार किस के थे, बताओ - (बुद्ध के, आजीविकों के, लोकायतों के, महावीर के )  
क- मनुष्य अपनी कोशिश से दुःख घटा नहीं सकता । अगर जीवन में दुःख है तो वो हो कर रहेगा ।  
ख- किसी भी जीव के प्रति हिंसा नहीं करनी चाहिए । इसी से हम दुःख कम कर सकते हैं ।  
ग- मनुष्य अगर संयम से काम ले और अपनी इच्छाओं पर रोक लगाए तो दुःख कम कर सकता है ।  
घ- चमड़े जैसे हो इस जीवन में सुख भोगना चाहिए क्योंकि यह जीवन फिर लौट कर नहीं आएगा ।

## पाठ-9 मौर्य वंश के राजा

अभी तक हमने सोलह छोटे राज्यों को देखा था। वे धीरे-धीरे मगध के राजाओं के अधीन होते जा रहे थे। मगध का राज्य दूसरे राज्यों को अपने में मिला कर, बड़ा होता जा रहा था।

राजा महापद्म नंद के मरने के कुछ सालों बाद मौर्य वंश का चंद्रगुप्त मगध का राजा बना। उसने कई युद्ध लड़े और बहुत से छोटे-छोटे राज्यों को अपने राज्य में मिलाया।

उन दिनों सिन्धु नदी के पास कुछ यूनानी लोगों का राज्य था। ये लोग सिकन्दर की सेना के साथ आए थे।

चंद्रगुप्त ने एक यूनानी सेनापति (जिसका नाम सेल्यूकस निकेटर था) को भी हराया। सेल्यूकस के राज्य का काफी बड़ा भाग चन्द्र गुप्त का हो गया। इस तरह मगध राज्य सिन्धु नदी के पार भी फैल गया।

चंद्रगुप्त के बाद उसका बेटा बिन्दुसार मगध का राजा बना। उसने दक्षिण दिशा में मगध को फैलाया।

जब बिन्दुसार का पुत्र अशोक राजा बना, तब पूर्व दिशा में कलिंग राज्य ही एक ऐसा ताकतवर राज्य था जो मगध राज्य के बाहर था। भारत में आज जहाँ उड़ीसा प्रदेश है, वहाँ राजा अशोक के समय कलिंग नाम का राज्य था।

अशोक ने कलिंग को जीतने की ठानी। उसने कलिंग पर चढ़ाई की।

बहुत घमासान युद्ध हुआ। कलिंग के लोग हार गए। लाखों लोग युद्ध में मारे गए। हजारों बेघर हो गए। कलिंग के डेढ़ लाख लोगों को बन्दी बना कर राजा के छेतों पर काम करने भेज दिया गया।

इस भयानक युद्ध के बाद अशोक ने तय किया कि वो जहाँ तक हो सके, युद्ध नहीं करेगा।

अशोक ने बुद्ध धर्म अपना लिया। उसने 30 साल तक शासन किया। इन 30 सालों में उसने फिर कोई युद्ध नहीं लड़ा।

उसने तय किया कि वो युद्ध के बदले देश-विदेश के लोगों के बीच धर्म का प्रचार करेगा। उसने घोषणा की कि वह लोगों की भलाई में अपना जीवन लगाएगा।

राजा अशोक के समय में मगध का राज्य कितना विस्तार था यह तुम नक्शे क्र. 4 में देख रहे हो।

● महापद्म नंद के समय का नक्शा फिर से देखो।

तब मगध का राज्य कहाँ-कहाँ था, और अशोक के समय में 9

किस के राज्य में पर्वतीय भाग अधिक थे 9

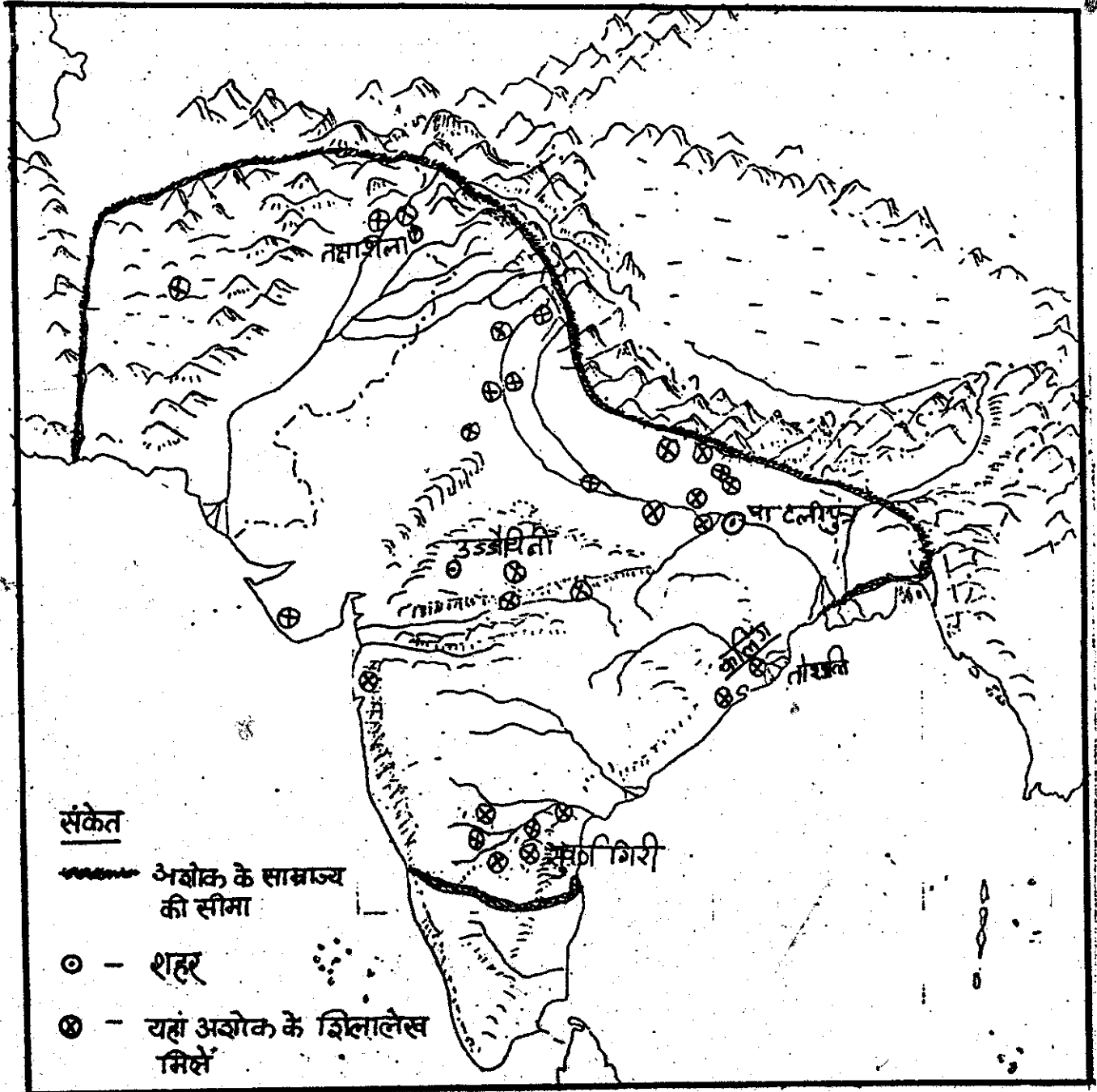
अशोक के राज्य में कितना समुद्र तट आता था। 9 पेन फेन कर बताओ।

- क्या महापद्म नंद का राज्य भी समुद्र तट को छूता था ?
- अशोक के राज्य में किन और नदियों के मैदान शामिल हो गए जो महापद्म नंद के राज्य में नहीं आते थे ?

- मौर्यों का राज्य पश्चिम में एक ऐसे देश की सीमा तक फैला था जिसके बारे में तुम इस किताब के भूगोल के पाठों में पढ़ोगे। पहचान पाए ?

नक्शा - 4

अशोक का साम्राज्य



इस तरह नए-नए इलाकों के लोग एक-एक कर के मगध के अधिकार में आ गए । पहले से कहीं ज्यादा गांवों पर मगध राजा का अधिकार हो गया । इतने बड़े इलाके में सैकड़ों हजारों गांव थे । उनमें रहने वाले किसान थे । जंगलों में रहने वाले शिकारी थे । छमते-पारते पशु पालक लोग भी थे ।

इस राज्य में बहुत से शहर थे । इनमें कई प्रकार के कारीगर थे जो तरह-तरह का माल बनाते थे । व्यापारी थे जो दूर-दूर तक व्यापार करते थे, माल खरीदते - बेचते थे ।



इन सब लोगों पर मगध के राजा का अधिकार हो गया । राजा इन सब लोगों से लगान ले सकता था, कर ले सकता था ।

राज्य के दक्षिणीक्षेत्रों में सोना मिलता था, पश्चिम के इलाकों में तांबा और टिन मिलता था, राज्य के मध्य और उत्तर के हिस्सों में मूल्यवान पत्थर मिलते थे । इन सब चीजों पर भी मगध के राजा का हक हो गया ।

राज्य बड़ा हो गया । बहुत बड़े क्षेत्र से कर व लगान इकट्ठा करने का हक मगध के राजा का हो गया । इस तरह मगध के राजा के पास बहुत धन जमा हो सकता था । परन्तु इतने दूर-दूर के इलाकों से नियमित रूप से लगान और कर कैसे इकट्ठे किए जाएं ? उन दिनों एक जगह से दूसरी जगह पहुंचने में आज से बहुत ज्यादा समय लगता था ।

इसलिए मगध साम्राज्य को चार इलाकों में बांट दिया गया । ओर कई सारे अधिकारी व कर्मचारी नियुक्त किए गए ।

हर इलाके को राजा के परिवार का कोई एक व्यक्ति संभालता था । राज्य के उत्तरी इलाकों का कामकाज तक्षशिला नाम के नगर से चलता था ।

दक्षिण के इलाकों का कामकाज सुवर्णगिरी से चलता था । पश्चिम के इलाकों का कामकाज उज्जयिनी से ।

कलिंग को हराने के बाद पूर्व के इलाकों का काम तोशली से चलाया जाता था । पूरे साम्राज्य की राजधानी पाटलिपुत्र में थी ।

नक्षेत्रों में इन नगरों को देखो

1. इनमें से कौन सा नगर आज के मध्य प्रदेश में आता है ?
2. पाटलिपुत्र से सबसे अधिक दूरी पर कौन से नगर थे ?
3. मौर्य साम्राज्य के समुद्र तट पर बहुत से बंदरगाह थे । वहाँ से व्यापारी दूर देशों को व्यापार करने जाते

थे। पूर्वी तट से व्यापार करने वाले व्यापारियों से किन नगरों के अधिकारी कर वसूल करते होगे- पाटलिपुत्र, तक्षशिला, उज्जयिनी, तोशली, सुर्कागिरी 9

तो चलो मोर्यों के विजाल साम्राज्य के कुछ अधिकारियों से मिला जाए। मोर्य राज्य के सबसे बड़े अधिकारियों को महामात्र कहा जाता है। इन्हें राजा से बहुत उंची तहवाह मिलती है। इन महामात्रों में से कुछ राजा के मंत्री हैं। वे राजा को सलाह देते हैं। कुछ महामात्र सेनापति हैं, और कुछ राज्य के छजाने की देखरेख करते हैं। बड़े शहरों का प्रशासन भी महामात्र ही संभालते हैं। इन सब अधिकारियों को राजा की आज्ञा का पालन करना पड़ता है।

इन बड़े अधिकारियों के अलावा कई सारे छोटे अधिकारी भी हैं। उनके नाम हैं - राजुक, गोप, युक्त, प्रदेशिक आदि।



राजुक मगध साम्राज्य का बहुत महत्वपूर्ण अधिकारी है। चलो उसका काम देखें। कई सारे गांव एक राजुक की देखरेख में हैं। वह गांव-गांव से राजा के लिए किसानों से लगान वसूल करता है। वह किसानों की जमीन नापता है और निर्णय करता है कि किसको कितना लगान देना होगा।



उस समय लगान आज से बहुत ज्यादा था। किसानों को अपनी उपज का लगभग एक चौथा हिस्सा राजा को देना होता था।

पर राजुक के और भी काम हैं। वह गांव के कारीगरों और जंगलों में रहने वाले शिकारियों पर भी निगरानी रखता है। और उनसे कर वसूल करता है।


मगध के राजा कहीं-कहीं नहर बनवाते हैं। गांव के लोग भी नहर बनाते हैं। राजुक यह देखता है कि नहर का पानी सबको समान रूप से मिले। वह सबके बनवाना और उनकी मरम्मत करवाने का काम भी करता है।

इन सबके अलावा राजुक न्यायाधीश का भी काम करता है। गांव के झगड़ों को निपटाता है और अपराधियों को दण्ड देता है।

राजुक के इस तरह से बहुत सारे काम हैं और बहुत सारे गांव उसकी देखरेख में हैं। उसे अपने काम करने के लिए लगातार घूमते रहना पड़ता है।

राज्य के उपर एक ओर अधिकारी है। इसका नाम प्रादेशिक है। कर वसूल करके राज्य प्रादेशिक को देता है। प्रादेशिक का काम है गाँव और शहरों की देखरेख करना और राज्यों का निरीक्षण करना। अगर राज्य अत्याचार करें तो गाँव वाले प्रादेशिक से शिकायत लगा सकते हैं। ये अधिकारी भी सदा घूमते रहते हैं।

इस तरह मगध साम्राज्य में कई और अधिकारी हैं - कुछ अधिकारियों का काम है बाजारों में व्यापारियों के तराजुओं और बांटों की जांच करना। कारीगर और व्यापारी जो भी सामान बेचते हैं उस पर वे कर वसूल करते हैं। कई अधिकारी चुंगी नाकों पर काम करते हैं। वे बाहर से आने वाले सामान और बाहर जाने वाले सामान पर कर वसूल करते हैं।



मौर्य राजा हमेशा यह जानना चाहता है कि उसके अधिकारी क्या कर रहे हैं, कोई उसके खिलाफ साजिश तो नहीं कर रहा है और उसके राज्य के लोग क्या सोच रहे हैं। इसके लिए उसने खूब सारे जासूस रखे हैं। जो उसे

लगातार अधिकारियों के बारे में, लोगों के बारे में, खबरें देते हैं।

मौर्य राजा के पास खूब सारे जेठ हैं जिन पर दास और मजदूर काम करते हैं। इन जेठों की उपज राजा के खजाने में जाती है। इन जेठों के निरीक्षण के लिए भी अधिकारी हैं। इसी तरह राजा के कारखाने भी हैं जहाँ हथियार आदि बनते हैं। कारखानों को संभालने के लिए भी अधिकारी हैं।

मगध साम्राज्य के कई अधिकारियों से तुम मिल लिए। तुम्हें शायद इस तरह के अधिकारी कुछ जाने पहचाने लगते होंगे। आज भी तो गाँव, तहसील, जिले आदि के स्तर पर इस तरह के अधिकारी हम देखते हैं। आज के अधिकारियों भी कई ऐसे काम करते दिखते हैं जैसे मगध साम्राज्य के अधिकारियों को हमने करते पाया था। और जैसे राज्यों के उपर प्रादेशिक थे वैसे आज भी तो छोटे अधिकारियों के उपर बड़े अधिकारी होते हैं।

पर ध्यान देने की बात यह है कि इस तरह के अधिकारी और उनके काम करने का ढंग, मौर्य राजाओं के समय नया-नया ही शुरू हो रहा था। अजातशत्रु के समय में जरूर कुछ मंत्री व अधिकारी रखे जाने लगे थे। पर तुम खुद याद करो - परमालक आर्य और छेती करने वाले आर्यों के समय में हमने इतने सारे अधिकारी और उनके काम की यह व्यवस्था नहीं देखी थी। इसे ही प्रशासन व्यवस्था भी कहा जाता है। आर्यों के समय में ऐसा क्यों नहीं हुआ था? इस प्रश्न पर कक्षा में चर्चा करो। कुछ 2-3 कारण सोच कर लिखो।

:: अशोक का "धम्म" ::

इतनी दूर-दूर के इलाके, इतने अलग-अलग लोग, पहले कभी एक राजा के नीचे नहीं आए थे। राजा अशोक ने अपने विशाल राज्य के लोगों पर शासन करने की व्यवस्था कैसे की - यह हमने पढ़ा।

पर अशोक ने अपनी प्रजा तक सिर्फ अपने अधिकारी और कर्मचारी ही नहीं भेजे। उसने लोगों तक अपने कई संदेश पहुँचाए जिसमें बताया कि वह कैसे युद्ध को छोड़ चुका है और कैसे लोगों की भलाई के कामों में लगा है।

संदेश में उसने यह भी बताया कि अच्छा व भला जीवन क्या होता है, और कैसे वह चाहता है कि सब लोग एक भला जीवन बिताएँ। इन्हीं बातों को वह "धर्म" या उन दिनों की भाषा में "धम्म" कहता था।

उसने अपने राज्य में चारों तरफ यह सारी बातें, बड़ी-बड़ी चट्टानों और छम्भों पर खुदवाईं, जिसे कई सालों तक लोग उसके संदेश जान सकें।

उसके अधिकारी चट्टानों व छम्भों पर खुदी बातें लोगों को पढ़कर सुनाते थे। उस समय भी सब लोग पढ़े-लिखे नहीं थे न।


अशोक के स्तंभालेख (यानी छम्भों पर खुदे लेख), शिलालेख (यानी चट्टानों पर खुदे लेख) आज भी कई जगह हमें पढ़ने को मिलते हैं।

● नक्शे क्र. 4 में देखो कहां-कहां हैं।

आज के भारत के कौन-कौन से राज्यों में अशोक के शिलालेख मिलते हैं? कौन से राज्यों में बिल्कुल नहीं? 9

● मध्य प्रदेश में कहां-कहां मिलते हैं, देखो।

तुम्हें कहीं ये शिलालेख और स्तंभालेख मिलें तो उन्हें पहचान सको इसलिए नीचे चित्र दिए गए हैं -




अशोक का स्तंभ

स्तंभ पर खुदा संदेश



अशोक के समय के अक्षर ऐसे ही होते थे। इस तरह की लिखाई को ब्राह्मी कहते हैं यह तुमने पिछले पाठ में देखा। आज से 100 साल पहले जब, इतिहासकारों ने इन शिलालेखों को खोजा तो उन्हें कुछ समझ नहीं आया कि इनमें क्या लिखा है। धीरे-धीरे बहुत मुश्किल से इतिहासकारों ने इन्हें पढ़ना सीखा। इनसे अशोक के बारे में, उसके राज्य के बारे में बहुत कुछ पता लगता है। ब्राह्मी लिपि (यानी लिखाई) के कुछ अक्षर तो तुम्हारी पहचान में आ गए हैं, जैसे म, र, ला ।



● इन्हें ऊपर दिए चित्रों में ढूंढो ।

हमने तुम्हारे लिए अशोक के कुछ संदेश हिन्दी में लिखकर यहाँ दिए हैं। इन्हें पढ़ो, और देखो कि राजा अशोक ने अपने राज्य के लोगों से क्या बातें कहीं।

अशोक ने अलग-अलग जगह लिखवाया-

1. "जब मैंने कलिंग पर विजय पाई तो मुझे बहुत दुःख हुआ। यह क्यों? जब एक आजाद जनपद हराया जाता है, वहाँ लाखों लोग मारे जाते हैं। और बंदी बनाकर अपने जनपद से बाहर निष्कल दिए जाते हैं। वहाँ रहने वाले ब्राह्मण, श्रमण मारे जाते हैं। ऐसे गृहस्थ जो अपने बंधु-मित्र, दास और मजदूरों से नम्रता पूर्ण बर्ताव करते हैं - ऐसे लोग युद्ध में मारे जाते हैं। अपने प्रियजनों से बिछुड़ जाते हैं। इस तरह हर किस्म के लोगों पर युद्ध का बुरा प्रभाव पड़ता है। इससे मैं बहुत दुःखी हूँ। अब मेरे लिए धर्म की विजय, युद्ध में प्राप्त विजय से बढ़कर है।"

● इस संदेश में अशोक अपने दुःख का क्या कारण बताता है ?  
पर तुम एक बात और सोचो। अगर अशोक को कलिंग के युद्ध का परिचाताप हुआ, तो उसने कलिंग राज्य को आजाद क्यों नहीं किया ? उसने कलिंग के लोगों को बंदी क्यों बनाया ?

2. "मैंने अपने अधिकारियों को आदेश दिया है कि वे हर पाँच साल में अपने प्रदेश का दौरा करें और लोगों को धर्म के बारे में बतायें।"

"लोग तरह-तरह के अक्षरों पर तरह-तरह के संस्कार करते हैं। जब बीमार पड़ते हैं, जब लड़के लड़कियों की शादी होती है, जब बच्चे पैदा होते हैं, जब यात्रा पर निकलते हैं, आदि। महिलाएँ आसकर बहुत से ऐसे बेमतलब के संस्कार करती हैं।"

ऐसे धार्मिक संस्कारों को करना चाहिए। मगर इनसे प्राप्त लाभ कम ही है। मगर कुछ संस्कार ऐसे होते हैं जिनसे अधिक फल मिलता है। वह क्या क्या हैं? 9 गुलाम और मजदूरों से नम्रता से व्यवहार करना, बड़ों का आदर करना, जीव जंतुओं से संयम से व्यवहार करना, ब्राह्मण और श्रमणों को दान देना आदि।"

3. "मैं सभी धर्मों का आदर करता हूँ, और सभी धर्मों के सन्यासियों और गृहस्थों को दान और सम्मान देता हूँ। मैं चाहता हूँ कि सब धर्मों के विचारों की उन्नति हो।"

4. "अपने धर्म के प्रचार में संयम से बोलना चाहिए, अपने धर्म के गुणों को बढ़ा-चढ़ाकर कहना या दूसरे धर्मों की बुराई करना दोनों बातें गलत हैं। और हर तरह से हर वक्त दूसरे धर्मों का आदर करना चाहिए।"

अगर कोई अपने धर्म की बुराई करता और दूसरे धर्मों की बुराई करता है तो वह वास्तव में अपने धर्म को हानि पहुँचाता है। इसीलिए एक दूसरों के धर्म की मुह्य बातों को सम्झना और उनका सम्मान करना चाहिए।"

● अशोक ने लोगों से कैसा व्यवहार अपनाने को कहा? 9 पिछले तीन सदिशों को पढ़कर लिखो।

5. "पहले समय में धर्म की उन्नति के लिए कोई अधिकारी नहीं था। मैंने

सबसे पहले ऐसे अधिकारियों को नियुक्त किया। ये अधिकारी धर्म की स्थापना के लिए, लोगों में धर्म के प्रति रुचि बढ़ाने के लिए, धार्मिक लोगों की देखभाल के लिए निरन्तर काम कर रहे हैं। वे मजदूर, व्यापारी, किसान, ब्राह्मण, अनाथ, वृद्ध आदि की भलाई के लिए काम कर रहे हैं। वे धर्म को मानने वाले कैदियों को रिहा करने में व्यस्त हैं।"

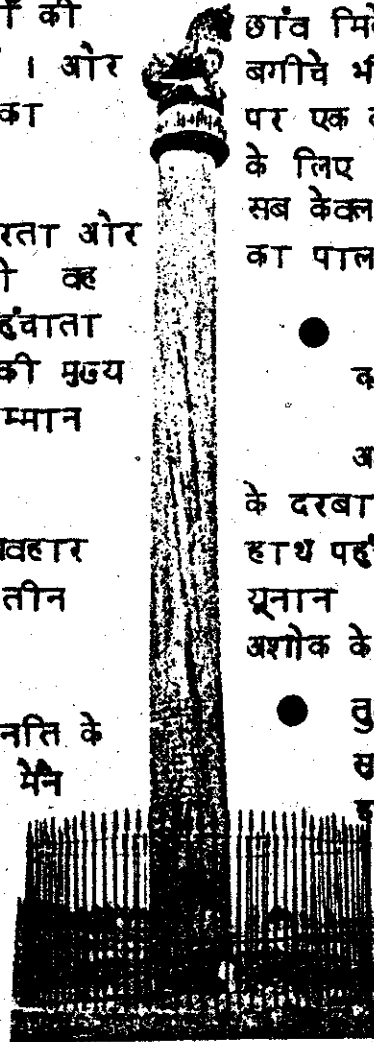
"बौद्ध संघ, ब्राह्मण आजीविक, जैन तथा अन्य धर्मों की देखभाल के लिए अलग-अलग अधिकारियों को मैंने नियुक्त किया है।"

6. "मैंने सड़कों पर बरगद के पेड़ लगवाये ताकि पशुओं और मनुष्यों को छाँव मिले। इसके लिए मैंने आम के बगीचे भी लगवाये। मैंने हर आधे कोस पर एक कुँआ भी खुदवाया, और ठहरने के लिए धर्मशाला भी बनवाई। मैंने यह सब केवल इसलिए किया ताकि लोग धर्म का पालन करें।"

● अशोक ने अपनी प्रजा को अपने क्या-क्या कामों के बारे में बताया?

अशोक ने ऐसे सदिशों को दूसरे राजाओं के दरबार में भी, अपने अधिकारियों के हाथ पहुँचाया। उसके अधिकारी मिस्र, यूनान और श्रीलंका के राज्यों तक अशोक के सदिश लेकर गए।

● तुमने कई राजाओं के बारे में पढ़ा-सुना होगा। क्या अशोक उन्हें इन सब से कुछ बातों में फर्क लगाता है? 9



## अभ्यास के प्रश्न

1. अशोक के समय में मगध राज्य के अन्दर क्या ये इलाके आते थे ?
  - क- गंगा नदी का मैदान
  - ख- विन्ध्याचल पर्वत
  - ग- सिंधु नदी का मैदान
  - घ- कावेरी नदी का मैदान
  - ङ- दक्कन का पठार
  - च- भारत के पूर्वी तट के कुछ भाग
  - छ- भारत का पूरा पश्चिमी तट
  - ज- हिमालय पर्वत के कुछ भाग
  - झ- गंगा नदी का मुहाना
  - ट- ब्रह्म-पुत्र नदी का पूरा मैदान
  - ठ- कैस्पियन सागर का तट
2. अशोक के राज्य के पांच प्रमुख केन्द्रों के नाम लिखो ।
3. मौर्य राजाओं के अधिकारी किस-किस तरह के काम करते थे बताओ ।
4. मौर्य राजाओं ने किन कारणों से प्रशासन की पूरी व्यवस्था की ?

## पाठ-10 विदेशों से व्यापार और संपर्क

जिस पुराने समय के बारे में हम पढ़ रहे हैं, उस समय भारत का यूनान, रोम, ईरान और मिस्र जैसे देश के लोगों के साथ काफी संपर्क हुआ ।

तुम जानते हो कि यूनान का राजा सिकन्दर भारत आया था । उसके लोटने के बाद भी ईरान और अफगानिस्तान में उसके सेनापति राज्य करते रहे ।

मौर्य राजाओं ने उनके राज्यों को अपने राज्य में मिला लिया था । अशोक का नक्शा देखो--उसका राज्य अफगानिस्तान तक फैला था ।

अशोक की मृत्यु के बाद ईरान व अफगानिस्तान में फिर से यूनानी राजाओं

ने अपने राज्य बना लिए । उन्होंने पंजाब के क्षेत्र पर भी कब्जा कर लिया । इस पूरे समय में कई यूनानी भारत में बसते रहे । जैसे काफ़ी समय से भारत के व्यापारी यूनान तक व्यापार करने जाते रहे थे और वहाँ के व्यापारी यहाँ आते रहे थे । मेगस्थनीस और डिमिट्रियस नाम के यूनानी राजा बहुत प्रसिद्ध हुए ।

यूनानियों के अलावा मध्यएशिया से भी कई और लोग भारत आकर बसे । इन्होंने यूनानी राजाओं को हरा कर उत्तर भारत पर अपना राज्य स्थापित किया । इनमें से शक व कुषाण वंश प्रसिद्ध हैं । जबकि दक्षिण भारत में इस समय शतवाहन वंश के राजाओं का राज्य बन गया ।

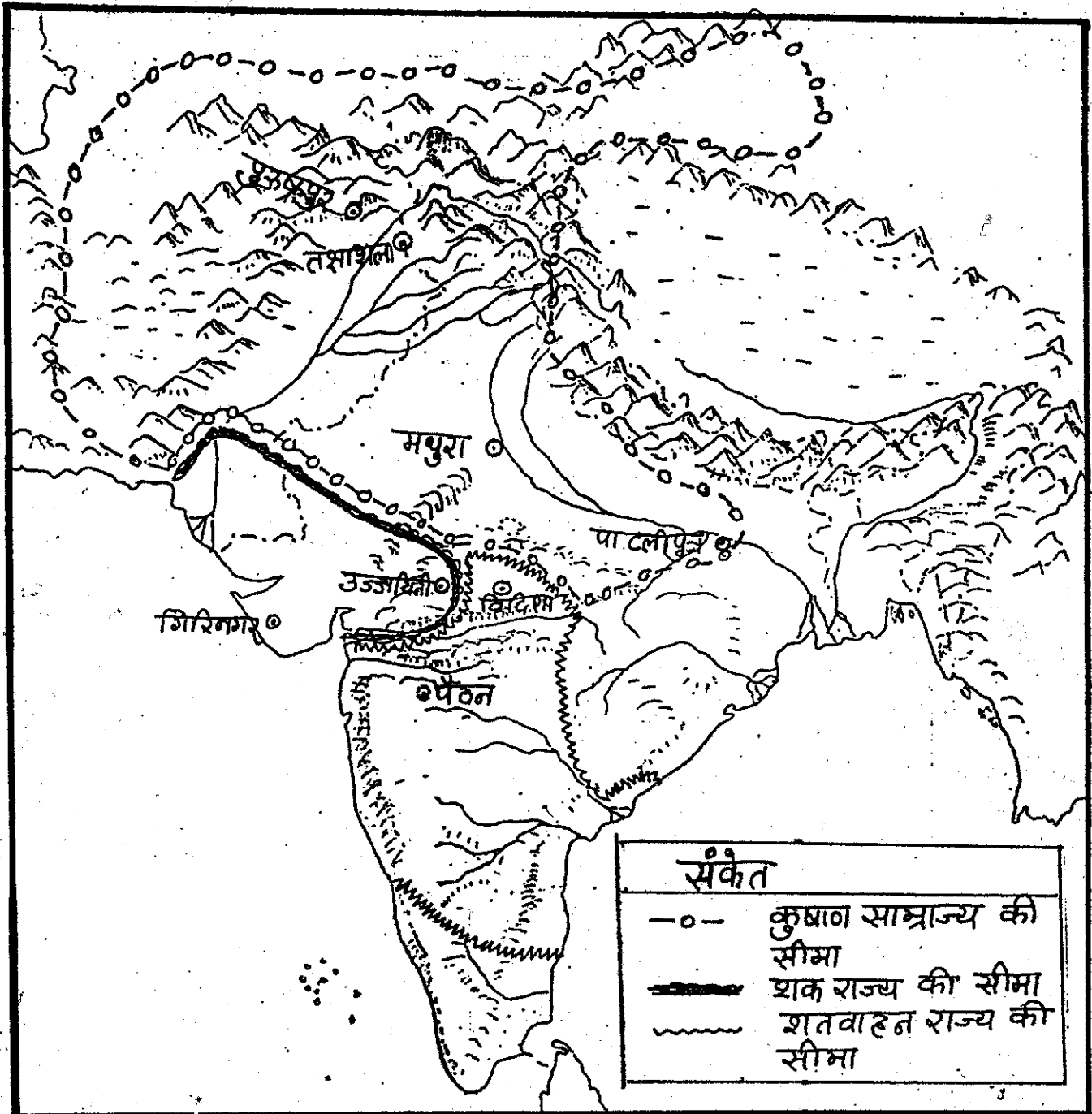
जिस विशाल क्षेत्र में मौर्य का राज्य करता था वहाँ अब कई राज्य हो गए। इन राज्यों के बीच भी लगातार लड़ाईयाँ होती रहती थीं। कभी किसी का राज्य बड़ा हो जाता, तो कभी किसी का।

इन वंशों के कुछ प्रमुख राजाओं के नाम जान लो। कनिष्क और कृष्ण नाम के कुषाण का के राजा थे।

रुद्रदामन शक का प्रसिद्ध राजा था। शतवाहन का में वसिष्ठीपुत्र और

चक्रा - 5

कुषाण, शक और शतवाहन राज्य



गौतमीपुत्र सत्कर्णी नाम के बड़े राजा हुए ।

यद्यपि यह कहना मुश्किल है कि किस क्रां का राज्य कहाँ तक था, फिर भी, नक्शा नं० 5 से एक अंदाज लग सकता है।

इस नक्शे में कुषाण, शक व शतवाहन राज्यों के इलाकों को अलग-अलग रंगों से भरो ।

● इनमें से कौन सा राज्य सबसे बड़ा है ?

आज का गुजरात प्रदेश उस समय किस के राज्य में था ?

आज का महाराष्ट्र उस समय किस राज्य में था ?

मथुरा किस के राज्य में था ?

गिरिनगर किस के राज्य में था ?

अगर कोई व्यापारी पेटन से पुरूषपुर जाना चाहता तो वह किस-किस के राज्यों से होकर जाता ?

क्या यह सारे इलाके पहले मौर्य राज्य में आते थे ?

कुषाण राज्य के उन हिस्सों को अलग से दिखाओ जहाँ मौर्यों का राज्य नहीं था । वहाँ कौन से पहाड़ थे ?

एशिया के कौन-कौन से देशों के हिस्से उस समय कुषाण राज्य में थे ?

विदेशों से व्यापार

इस समय बहुत दूर-दूर तक जाकर व्यापार किया जाता था । पाटलीपुत्र, मथुरा, पुरूषपुर के व्यापारी अफगानिस्तान

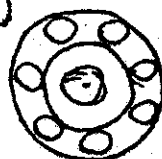
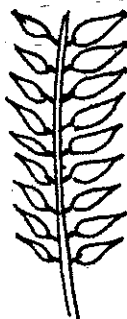
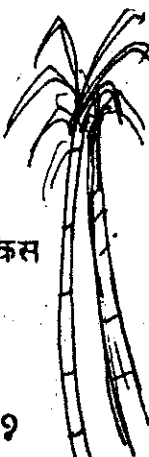
होते हुए यूनान तक जाते थे और यूनान के व्यापारी यहाँ आते थे । बड़ोच, मुसिरी और कोरकई के व्यापारी समुद्र की यात्रा कर के रोम और मिस्त्र पहुंचते थे ।

यूनान व रोम के व्यापारी भारत से क्या चीजें खरीदते थे ? बहुत सारी चीजें जैसे-

1. काली मिर्च, दाल चीनी, जीरा, अदरक जैसे मसाले । ऐसे मसाले यूरोप में नहीं उगते हैं । (यूनान और रोम यूरोप महादीप के देश हैं।) वहाँ के लोगों को यह मसाले भारत से ही मिलते थे ।

2. शक्कर और चाकल : यूरोप में उस समय गन्ना नहीं उगता था । वहाँ मीठे के लिए शहद का इस्तेमाल किया जाता था । भारत आने पर गन्ने को देखकर यूनानी व रोमन व्यापारियों को बहुत आश्चर्य हुआ । पौधे से शहद से भी ज्यादा मीठी चीज मिलती थी । इसी लिए वे भारत से शक्कर खरीदते थे । यूरोप में अधिक ठंड के कारण चाकल भी कम उगते थे, गेहूँ और जौ अधिक होते थे । इसलिए वह चाकल भी भारत से ही खरीदते थे ।

3. उस समय मगध और शतवाहन राज्य के कारीगर मजबूत लोहे की चीजें बनाते थे । भारत का लोहा काफी महूर था और यूनान, मिस्त्र आदि देशों के व्यापारी भारत से ही लोहा खरीदते थे ।



4. यूरोप में कपास नहीं उगता था इसलिए वहाँ के व्यापारी सूती कपड़े यहीं से खरीदते थे। उसके अलावा लाख और नील जैसे रंग भी वे भारत से ही खरीदते थे।



5. रोम और मिस्त्र के अमीर लोगों को तरह-तरह की सुन्दर वस्तुएँ इकट्ठा करने का बहुत शौक था। भारत में बने गहने, इत्र, चंदन, हाथी-दाँत, मोती आदि की इन देशों में खूब माँग थी। यही नहीं, तरह-तरह के जानवर जो यूरोप में नहीं पाए जाते - हाथी, शेर बाघ, भैंस, लंगूर, तोते, मोर-भी यहाँ से जाया करते थे।

इन चीजों के बदले रोम और मिस्त्र के व्यापारी भारत क्या-क्या लाते थे?

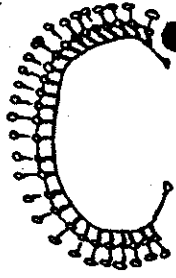
अ. खूब सारे सोने के सिक्के, खासकर रोम से भारत आते थे।

ब. सुन्दर घड़े व कांच की चीजें। इन सुन्दर घड़ों में शायद कीमती मदिरा लाई जाती थी। यूनान में अच्छे अंगूर उगने की वजह से अच्छे किस्म की मदिरा बनती थी।

स. इसके अलावा कई धातुएँ जैसे टिन, सोसा (लेड) आदि भी विदेशों से भारत आती थीं।

अब नक्शा क्र. 6 देखो। इस नक्शे में दिखाया गया है कि व्यापारी कौन-कौन से रास्तों से कहाँ-कहाँ जाते थे, और भारत में बंदरगाह कहाँ-कहाँ थे।

नक्शे में व्यापार का जलमार्ग देखो। समुद्र के इन रास्तों से व्यापारियों के भरे भराए जहाज सफ़र करते थे।




● अगर एक व्यापारी अपना सामान बड़ोंच पर जहाज में लादता है और उसे बवेरू पहुँचाना चाहता है, तो वह कैसे जाएगा ?

रोम का माल ताम्रलिप्ति पहुँचाने के लिए एक व्यापारी किन रास्तों को अपना सकता था ?

भारत के तट पर कौन कौन से बंदरगाह थे ?

उन दिनों दक्षिण भारत और रोम, मिस्त्र, यूनान के बीच व्यापार समुद्र मार्ग से ही ज्यादा होता था। दक्षिण भारत के कई बंदरगाहों में यूनानियों की बस्ती भी थी।

● नक्शे में देखकर यह भी बताओ कि पाटलीपुत्र से बड़ोंच जाने वाली सड़क किस नगर से होकर जाती थी ?



- यह यात्रा कितने किलोमीटर लम्बी थी ?

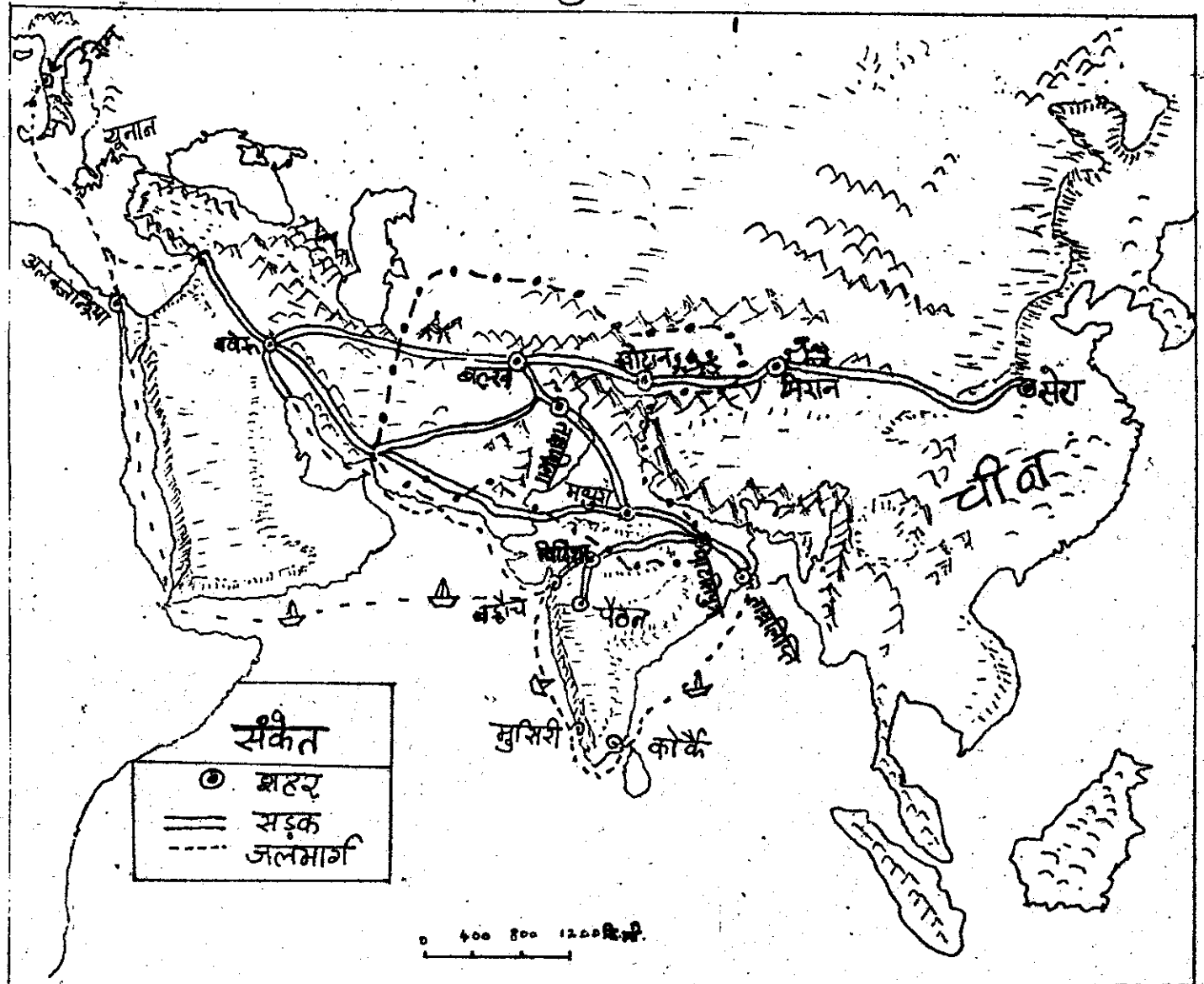
क्या यह अनुमान लगा सकते हो कि उस समय इस यात्रा को करने में कितना समय लगता होगा ? उस समय रेलगाड़ी तो थी नहीं । मोटर व हवाई जहाज भी नहीं थे । लोग बैलगाड़ियों में जाते थे । यदि हम मान लें कि एक बैलगाड़ी एक दिन में 40 कि.मी. चलती है तो पाटलीपुत्र से बड़ौच जाने में कितने दिन लगते होंगे ?

- गंधार से रोम जाने के मार्ग देखो । रोम आज के इटली नामक देश की राजधानी है । क्या गंधार से रोम तक सड़कें मार्ग था ?

अगर कोई व्यापारी पाटलीपुत्र से चले तो वह रोम कौन-कौन से रास्तों से जा सकता था - इन रास्तों में कौन-कौन से मुख्य शहर पड़ते थे ? एक ऐसा रास्ता ढूँढो जिसमें अधिक समय सड़क से यात्रा करनी पड़े, और एक ऐसा रास्ता

नक्शा - 6

व्यापार के पुराने मार्ग



भी दूटों जिसमें अधिकतर समय समुद्र से यात्रा करनी पड़ती हो ।

उस समय चीन से रोम हजारों मील लम्बी सड़क थी । इस सड़क से व्यापारी आते जाते थे । चीन से कीमती रेशम के कपड़े लेकर रोम जाते थे । और इस्ती-लिए इस सड़क को रेशम सड़क कहा जाता था । यह सड़क उच्च-उच्च पहाड़ों, गर्म रेगिस्तानों, तेज बहती नदियों, बर्फीले प्रदेशों आदि से गुजरती थी । इन पर व्यापारी उंटों, घोड़ों और खच्चरों पर बैठकर बड़े-बड़े समूहों में एक साथ चलते थे । ऐसे समूह को कारवां कहते हैं । व्यापारियों के कारवां महीनों तक यात्रा कर के एक जगह से दूसरी जगह जाते थे ।

- क्या रेशमी सड़क कुषाण राज्य से गुजरती थी १ पाटलीपुत्र से जो सड़क निकलती थी वह रेशम सड़क से कहाँ पर मिलती थी १

कुषाण राजा अपने राज्य से गुजरने वाले व्यापारियों से कर वसूल करते थे । इन सब करों को इकट्ठा करने से उनके पास छब सारा सोना जमा हो गया था । इस सोने का इस्तेमाल उन्होंने

सोने के खूबसूरत सिक्के बनवाने के लिए किया ।

इस समय के ढेरों सिक्के मिलते हैं । इन सिक्कों से व्यापारी लेन-देन करते थे । कुषाण राजाओं ने जो सिक्के जारी किए थे उनके चित्र हैं -




इन सिक्कों में से बहुत से सिक्कों पर कुषाण राजा अपनी तस्वीर और नाम लिखाते थे । इन सिक्कों को देखो । इनके किनारों पर कुछ लिखा है । सिक्के बनाने के लिए पहले सोना पिघलाया जाता, फिर उसे साँचे में डाला जाता । जब साँचे में सोना ठंडा हो जाता तो वह मजबूत सोने का सिक्का बन जाता । फिर उसे साँचे से निकाल लिया जाता ।

- क्या पहले भी सिक्के इसी तरह बनते थे १

इस तरीके से सिक्के बनाना कुषाणों ने यूनानी लोगों से सीखा । नीचे कुछ यूनानी राजाओं के चाँदी के सिक्के दिए गए हैं ।

- इनमें जोर कुषाण राजाओं के सिक्कों में क्या समानता है १








### अभ्यास के प्रश्न

1. इस समय के प्रमुख राज्य किन वंशों के थे ?
2. इस समय के व्यापार के रास्तों पर 8 वाक्य लिखो ।
3. व्यापार किन वस्तुओं का होता था ?
4. अलग-अलग समय के सिक्कों को अपनी पहचान होती है । क्या नीचे दिए चित्रों में से तुम जनपदों के सिक्के व कुषाण वंश के सिक्के अलग छांट सकते हो ?



5. कई राजवंशों के राज्यों के बारे में तुम पढ़ चुके हो । अजातशत्रु, महापदमनंद, अशोक, कुषाण वंश, शक वंश, शतवाहन वंश। तो बताओ कि नीचे दिए गए क्षेत्र किस-किस के राज्य में रह चुके हैं -

- क- गंगा नदी का निचला मैदान
- ग- सिन्धु नदी का मैदान
- ङ- हिन्दुकुश पर्वत
- छ- दक्कन का पठार

- ख- गंगा नदी का उपरी मैदान
- घ- हिमालय पर्वत
- च- अफगानिस्तान का पठार
- ज- ध्यान शान पर्वत



# नागरिक शास्त्र

## पाठ-7 सरकार

तुमने पंचायत और नगर पालिका के बारे में पढ़ते समय कई बार "सरकार" शब्द को पढ़ा होगा ।

● "पंचायत" और "नगरों" में सुविधाओं का प्रबन्ध" अध्याय में किन-किन अवसरों पर सरकार के बारे में तुमने पढ़ा - अपनी कॉपी में एक सूची बनाओ ।

● तुम कौन-कौन सी सरकारी संपत्ति या चीजों के बारे में जानते हो या इस्तेमाल करते हो, इसकी भी एक सूची बनाओ ।

● तुम कौन-कौन से सरकार से संबंधित व्यक्तियों के बारे में जानते हो ?

क्या तुमने कभी सोचा है कि आखिर यह "सरकार" क्या है ? चलो इस पाठ से हम सरकार के बारे में कुछ समझने की कोशिश करते हैं ।


नियम बनाना, सब लोगों से उन नियमों का पालन करवाना और जो उनका पालन न करें उन्हें दण्ड देना- ये सरकार के प्रमुख काम हैं ।

तुम कई तरह के नियमों का पालन करते हो । तुम्हारे घर में तुम्हें कई नियमों का पालन करना होता होगा। जैसे-कब सोना, कब जागना, कब और कैसे खाना, कब नहाना धोना, कब

खेलना, पढ़ना आदि काम तुम किसी नियम के अनुसार करते होगे । घर के यह नियम कौन तय करता है ? ये कैसे तय होते हैं ?

तुम हमेशा अपनी मर्जी से तो नहीं चल सकते हो । कुछ बातें अपने बड़ों से पूछकर ही करनी पड़ती हैं । कुछ बातें अपनी मर्जी से भी कर सकते हो । कौन सी बातें तुम बिना पूछकर कर सकते हो और कौन सी बातें तुम्हें बड़ों से पूछकर करनी होंगी - यह भी किसी नियम के अनुसार ही होगा ।

इसी तरह तुम्हारे स्कूल में भी नियम होंगे । कब आना, कैसे बैठना... कैसे खेलना, कब खाना, ऐसे अनेक नियम हैं ।



- क्या तुम स्कूल के नियमों की एक सूची बना सकते हो ?
- किस ने ये नियम बनाये ?
- यदि तुम इनमें से किसी नियम को न मानो तो क्या होगा ?

घर और स्कूल में नियम होते हैं।  
तुम्हें पता होगा कि कई और तरह के  
नियम भी होते हैं। जैसे- रेल में यात्रा  
करने के, सामान खरीदने बेचने के, जमीन



जायदाद खरीदने बेचने के, दुकान,  
कारखाना खोलने के आदि। देश के  
करोड़ों लोगों के अनेक काम इन नियमों  
के हिसाब से होते हैं।

● क्या तुम्हें इन चीजों के नियमों  
की कुछ जानकारी है ? आपस में  
चर्चा करो और गुरुजी से भी पूछो।

● अब सोचो कि ये नियम कौन बनाता  
है ? इन्हें बनाना क्यों जरूरी है ?  
अपना देश हजारों मीलों में फैला  
हुआ है और उसमें करोड़ों लोग रहते  
हैं। सरकार इस पूरे देश में रहने वाले  
लोगों के लिए तरह-तरह के नियम  
बनाती है। ये नियम अपने देश में रहने  
वाले सब लोगों पर समान रूप से लागू  
होते हैं। सरकार द्वारा बनाये गए इन  
नियमों को कानून कहते हैं।

● तुम्हारी शाला में क्या कोई कानून  
लागू होते हैं ? गुरुजी से पता करो  
तुम्हारी शाला से संबंधित क्या-  
क्या कानून हैं।

अब देखते हैं कि सरकार कानून कैसे  
बनाती है।

:: केन्द्रीय सरकार ::

पूरे भारत देश की जो सरकार है उसे  
केन्द्रीय सरकार कहा जाता है। केन्द्रीय  
सरकार या भारत सरकार में तीन तरह  
के लोग होते हैं - कानून व नीतियां  
बनाने वाले, उनको लागू करवाने वाले  
और कानून तोड़ने वालों को दण्ड देने  
वाले। जो लोग कानून बनाते हैं उन्हें  
सांसद या संसद सदस्य कहते हैं।

सांसद कौन होते हैं ? वे कैसे सांसद  
बनते हैं ? सांसद जनता द्वारा पांच साल  
के लिए चुने जाते हैं। जिस प्रकार पंच  
या नगर-पालिका सदस्य वार्डों से चुने  
जाते हैं, उसी प्रकार सांसद चुने का  
भी एक क्षेत्र होता है। यह क्षेत्र किसी  
भी वार्ड से बहुत बड़ा होता है। इस  
क्षेत्र को संसदीय चुनाव क्षेत्र कहा जाता  
है। इस क्षेत्र में कई गांव व शहर आ  
जाते हैं। उदाहरण के लिए एक संसदीय  
चुनाव क्षेत्र में पूरा बैतल जिला और  
होशंगाबाद जिले के हरदा, टिमरनी  
व छिड़किया विकास छूठ आते हैं।


कई शहरों में घनी आबादी रहती है - जैसे, भोपाल, इन्दौर, दिल्ली, मद्रास। ऐसे शहरों में तो एक से अधिक चुनाव क्षेत्र होते हैं। कुछ शहरों से तो सात-आठ सांसद चुने जाते हैं।

एक संसदीय चुनाव क्षेत्र के लोग मिलकर एक सांसद चुनते हैं।

इस तरह पूरा भारत संसदीय चुनाव क्षेत्रों में बांटा गया है। हर गांव या शहर किसी न किसी क्षेत्र में होता है।

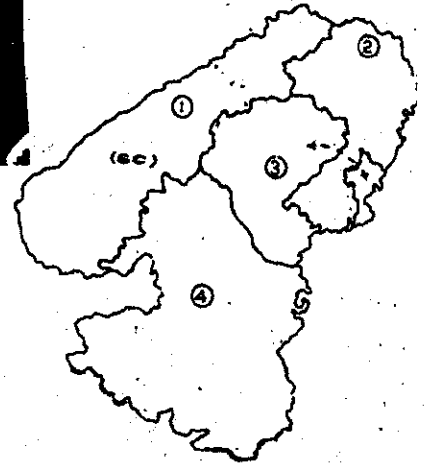
चुनाव क्षेत्र के सभी लोग जिनकी उम्र 21 वर्ष से अधिक है, सांसद के चुनाव में वोट डाल सकते हैं।

- वम जिस जगह रहते हो वह कौन से संसदीय क्षेत्र में जाता है ?
- वम्हारा संसदीय क्षेत्र कितना बड़ा है ? उसमें और कौन-कौन सी जगह गांव, शहर मोहल्ले आते हैं ?
- वम्हारे क्षेत्र का सांसद कौन है ?



वोट डालते हुए

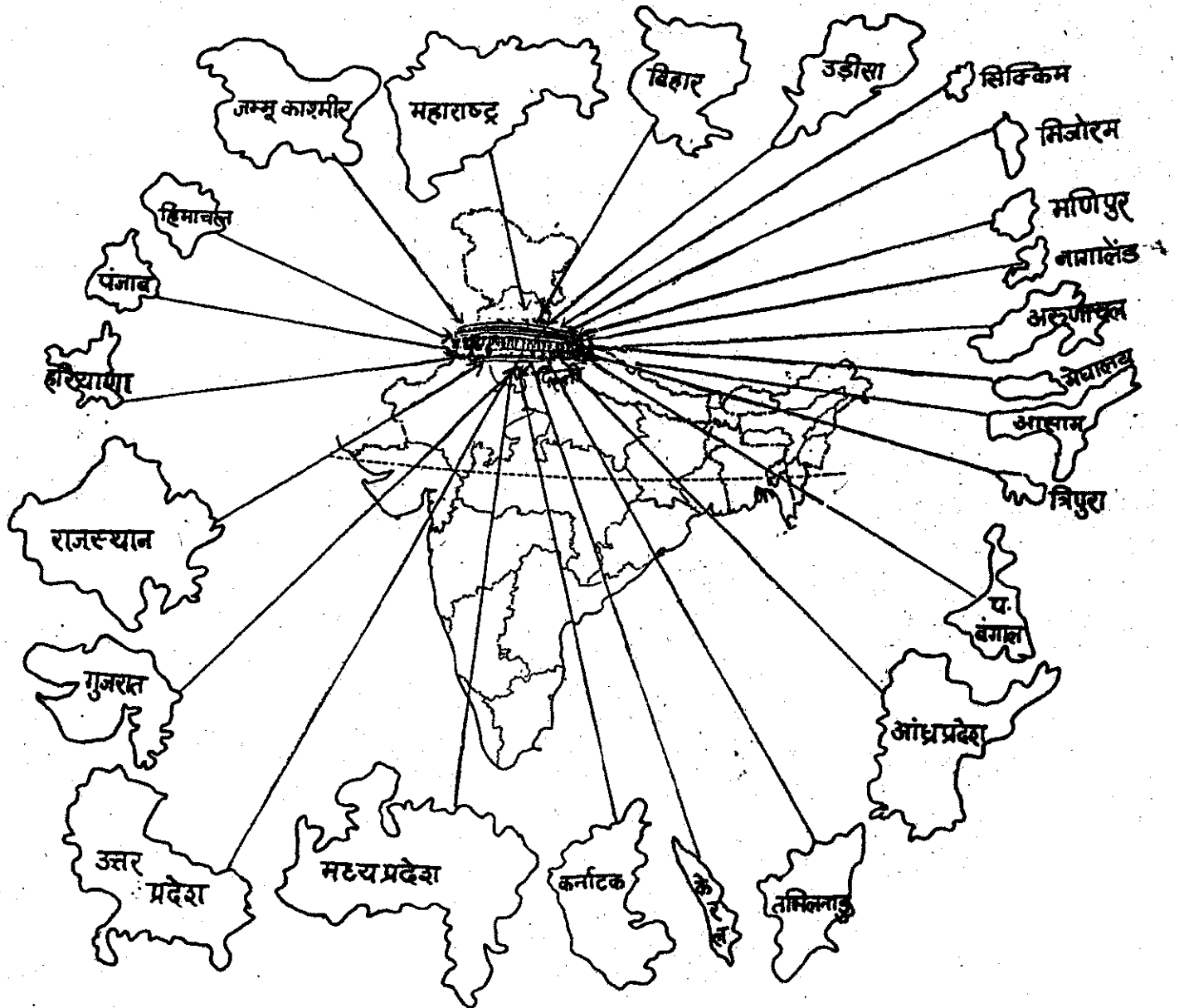
मध्यप्रदेश के कुछ संसदीय चुनाव क्षेत्रों का नक्शा




पूरे भारत से कुल 544 सांसद चुने जाते हैं। नई दिल्ली में संसद सदन है। यहाँ सांसदों की बैठक होती है। संसद की बैठक में कम से कम 109 सांसदों

का होना जरूरी होता है। इन बैठकों में देश की विभिन्न समस्याओं पर चर्चा की जाती है।

भारत के हर राज्य से सांसद चुनकर संसद में आते हैं।



नई दिल्ली ही भारत की राजधानी है।



← संसद में विधेयक पर चर्चा

राष्ट्रपति कानून पर  
हस्ताक्षर करते हुए




जब कोई नया कानून बनाना हो तो उस पर छब चर्चा की जाती है और अंत में सब सांसद उस कानून के बारे में अपना पसला सुनाते हैं। कोई उस कानून को बनाने के पक्ष में होता है कोई उसके विरोध में। अगर संसद में उपस्थित सदस्यों में आधे से अधिक सदस्य उस कानून के पक्ष में हो तभी उसे पास किया जाता है। फिर यह राष्ट्रपति के पास जाता है। उनकी मंजूरी पाने के बाद वह वास्तव में कानून बन जाता है।

कानून तो संसद में बन गया। पर यह कौन देखता है कि कानून लागू भी हो 9 सांसदों में से ही कुछ लोगों को कानून व नीतियों को लागू करवाने का काम दिया जाता है। यह काम केन्द्रीय मंत्री मंडल करता है। केन्द्रीय मंत्री मण्डल भी नई दिल्ली में काम करता है।

केन्द्रीय मंत्री मंडल कैसे बनती है 9 अधिकतर सांसद किसी न किसी पार्टी के होते हैं। जिस पार्टी के 272 से अधिक सांसद चुनाव जीतते हैं उसे बहुमत वाली पार्टी कहा जाता है - यानि संसद में उसी पार्टी का बहुमत होगा। उसी पार्टी के नेता को राष्ट्रपति प्रधान मंत्री नियुक्त करते हैं और उससे अपना मंत्री मंडल बनाने को कहते हैं।

प्रधान मंत्री संसद के सदस्यों में से मंत्री चुनते हैं। अगर कभी प्रधान मंत्री चाहे तो किसी भी मंत्री को हटाकर नए मंत्री नियुक्त कर सकते हैं। प्रधान मंत्री और उनका मंत्रिमंडल कानूनों को लागू करवाते हैं।

## संसद भवन में सांसदों की बैठक



मंत्रिमंडल

बोलचाल की भाषा में केन्द्रीय मंत्रिमंडल को केन्द्रीय "सरकार" भी कहा जाता है। इसीलिए तुमने सुना होगा कि "इस" पार्टी की सरकार बनी या "उस" पार्टी की सरकार बनी।

सरकार संसद में बनी नीतियों को लागू करने के लिए लाखों कर्मचारियों को नियुक्त करती है। ये सरकारी कर्मचारी अलग-अलग विभागों में काम करते हैं। जैसे - रेल कर्मचारी, डाक व तार विभाग के कर्मचारी, सेना के कर्मचारी। उन्हें मंत्रिमंडल के आदेशानुसार काम करना होता है। इन्हें केन्द्रीय सरकार से तन्खुवाह मिलती है। ये सब केन्द्रीय सरकार के कर्मचारी होते हैं।

तुम्हारे शिक्षक, तुम्हारे गांव के पटवारी, तहसीलदार, थानेदार ये सब भी सरकारी कर्मचारी हैं। मगर ये केन्द्रीय सरकार के कर्मचारी नहीं हैं। ये तो राज्य सरकार के, यानि मध्य-प्रदेश सरकार के कर्मचारी हैं। हम तो केन्द्रीय सरकार की बात कर रहे थे, तो ये राज्य सरकार की बात कहाँ से आ गई?

राज्य सरकार क्या होती है 9 चलो देखते हैं।

:: राज्य सरकार ::

पूरे भारत की एक सरकार तो है ही, पर इस के अलावा भारत करीब 24 राज्यों में बंटा है। इन राज्यों की अपनी सरकारें हैं। हाँ, तुम यह तो समझ गए होगे कि ये राज्य किसी राजा के घटते बढ़ते राज्य नहीं। इन राज्यों की सरकारें बदलती हैं, राज्य बही रहता है।

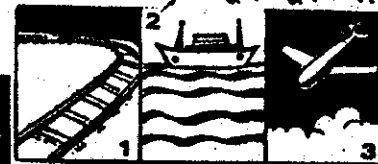
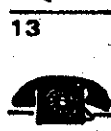
राज्यों की अपनी-अपनी सरकार होने का यह मतलब नहीं कि वे केन्द्रीय सरकार से स्वतंत्र हैं। केन्द्रीय सरकार पूरे भारत के लिए कई विषयों का कानून बनाती है। जैसे - सेना, विदेशों से संबंध डार-तार, रेल्वे, स्पये, सिक्के, बैंक आदि। ये कानून पूरे देश पर लागू



सेना



विदेशों से संपर्क



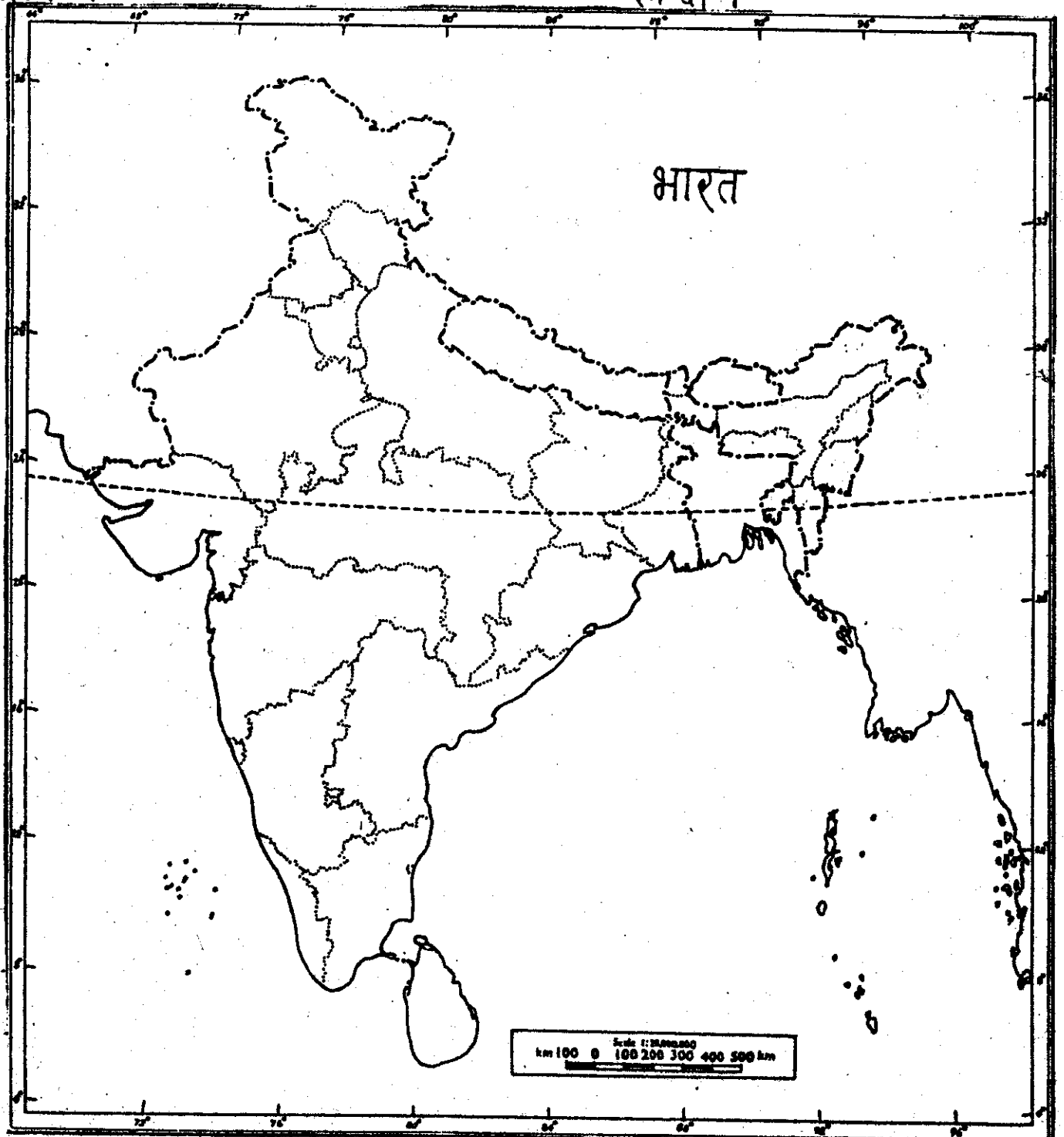
डाक, यातायात,

बैंक



होते हैं। लेकिन कई विषय हैं जिन पर राज्य सरकार अपने कानून बनाती है। जैसे कृषि से संबंधित, पंचायत संबंधी आदि।

● नीचे दिए गए नक्शे में राज्यों के नाम भरते। तुम जिस राज्य के हो उस राज्य को किसी रंग से रंग दो।





हर राज्य की सरकार अपने-अपने राज्य के लिए कानून बनाती है ।

- क्या मध्य प्रदेश सरकार द्वारा बना कानून हिमाचल प्रदेश में लागू हो सकता है ?
- क्या तामिलनाडु सरकार पंजाब के लिए कानून बना सकती हैं ?
- क्या केन्द्र सरकार द्वारा बनाया गया कानून उड़ीसा में लागू होगा ?

राज्य सरकार कुछ विषयों पर तो अपने आप कानून बना सकती है, मगर कई विषयों पर उसे केन्द्रीय सरकार के कानूनों को मानना पड़ता है और उन्हें लागू भी करना होता है ।

हम सबसे केन्द्र सरकार भी और हमारे राज्य की सरकार भी कर इकट्ठा



एक विधान सभा चुनाव क्षेत्र में कई गाँव और शहर आते हैं।

करती हैं । इसी पैसे से सरकारी कर्मचारियों को तनख्वाह दी जाती है और तरह-तरह की योजनाएं लागू की जाती हैं । केन्द्र सरकार जो कर हमसे लेती है उसका कुछ भाग वह राज्य सरकार को भी देती है ।

राज्य सरकार कैसे बनती है ?

राज्य सरकार में जो लोग कानून बनाते हैं उन्हें विधायक या विधान सभा सदस्य कहते हैं ।

विधायक राज्य के अलग-अलग क्षेत्रों से लोगों द्वारा चुने जाते हैं ।

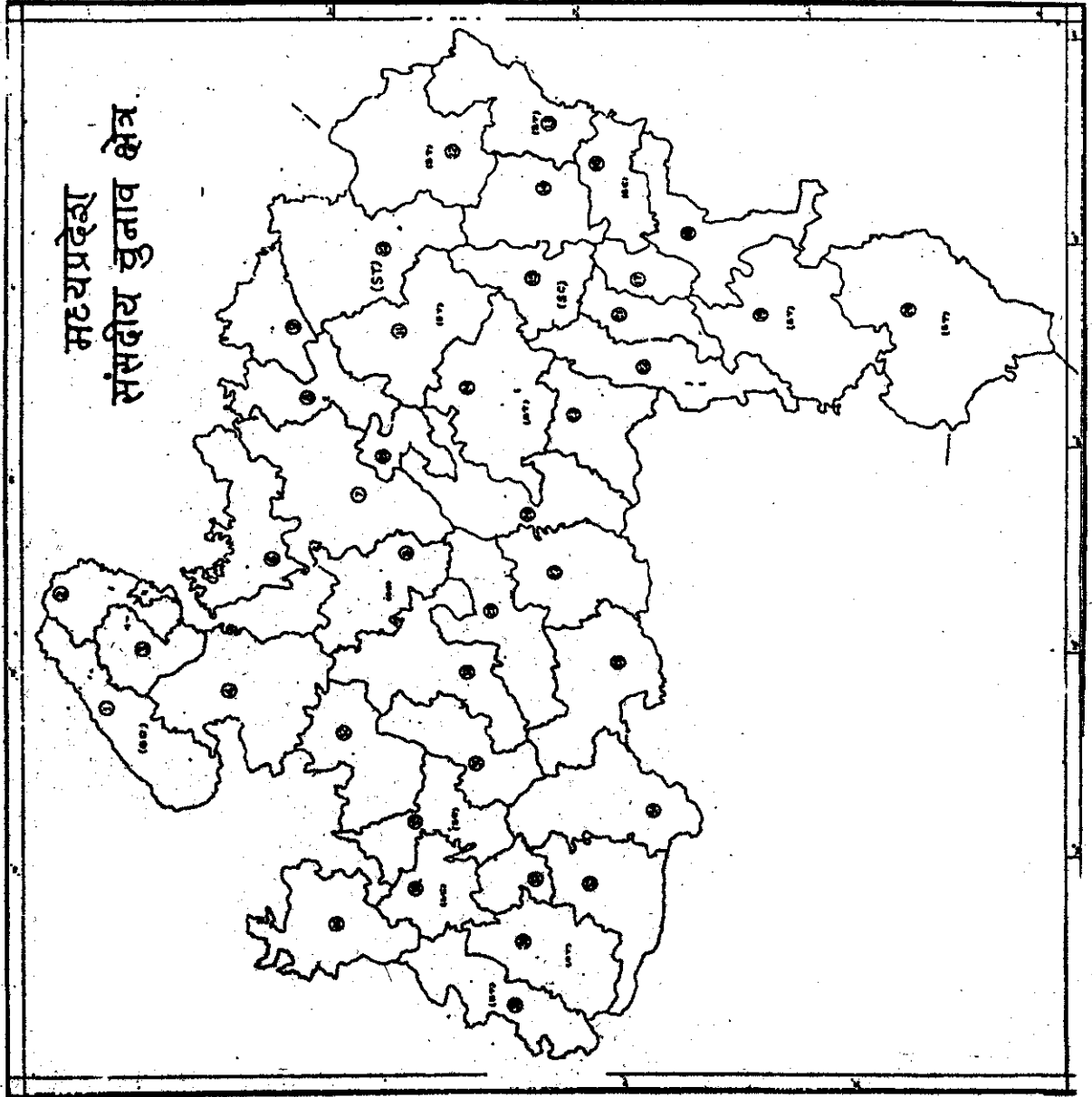
इन क्षेत्रों को विधान सभा चुनाव क्षेत्र कहा जाता है । यह क्षेत्र संसदीय चुनाव क्षेत्र से काफी छोटा होता है । विधान सभा चुनाव क्षेत्र में लगभग एक लाख लोग रहते हैं ।

- क्या तुम बता सकते हो कि विधान सभा चुनाव क्षेत्र बड़ा होगा कि पंचायत या नगर पालिका का वार्ड ?

विधान सभा चुनाव क्षेत्र

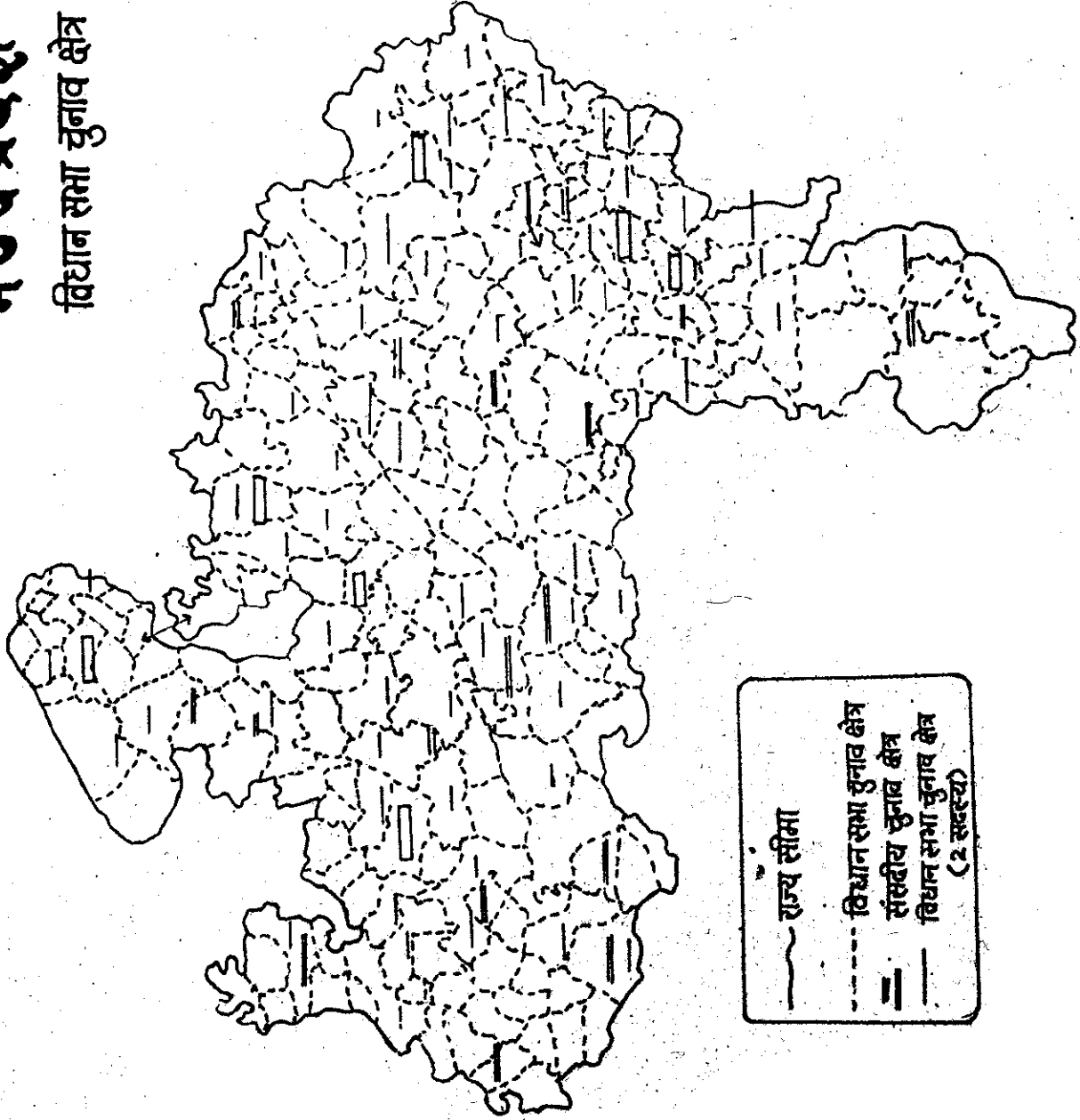
● यहाँ मध्य प्रदेश के संसदीय चुनाव क्षेत्रों और विधान सभा चुनाव क्षेत्रों के नक्शे दिए गए हैं ।

दोनों को तुलना करके बताओ कि एक संसदीय चुनाव क्षेत्र में लगभग कितने विधान सभा क्षेत्र आते हैं ?



# मध्य प्रदेश

विधान सभा चुनाव क्षेत्र



— राज्य सीमा  
- - - विधान सभा चुनाव क्षेत्र  
= = संसदीय चुनाव क्षेत्र  
— विधान सभा चुनाव क्षेत्र  
(2 सदस्य)

विधान सभा क्षेत्र में रहने वाले सभी लोग, जिनकी उम्र 21 वर्ष से अधिक हो, विधायक के चुनाव में वोट डाल सकते हैं।


क्या तुमने कोई विधान सभा चुनाव देखा है? शायद उसका मतदान तुम्हारे ही स्कूल में हुआ होगा, और तुम्हारे गुरुजी चुनाव कार्य में लगे होंगे।

- संसद या विधान सभा के चुनाव की एक मजेदार कहानी लिखो। (चुनाव में कौन-कौन खड़ा हुआ, भाषणों में क्या कहा गया, मतदान कैसे हुआ, कौन जीता उसके बाद क्या हुआ - सब कुछ याद से लिखना।)

- तुम्हारे क्षेत्र का विधायक कौन है?

मध्य प्रदेश की विधान सभा भोपाल में है। पूरे मध्य प्रदेश के विधायकों को विधान सभा की बैठकों में भाग लेना होता है।

भोपाल को मध्यप्रदेश की राजधानी क्यों कहा जाता है?



विधान सभा में चर्चा

विधान सभा में तरह-तरह के विषयों पर चर्चा होती है - कृषि पर, शिक्षा पर, उद्योग पर, चोरी उकैती पर, विभिन्न क्षेत्रों की समस्याओं पर। कुछ विषयों पर कानून भी बनाए जाते हैं। विधान सभा में उपस्थित विधायकों में से आधे से अधिक विधायक जब किसी विधेयक/या बिल के पक्ष में हों तभी वह कानून बन सकता है। विधान सभा में पास होकर "बिल" राज्यपाल के पास जाता है। उनकी मंजूरी के बाद ही वह कानून बनता है और लागू होता है।

इन कानूनों को लागू करना राज्य के मंत्रिमंडल का काम है। मंत्रिमंडल कैसे बनता है? विधान सभा में जिस पार्टी के आधे से ज्यादा विधायक हों उस पार्टी का नेता मुख्य मंत्री बनता है।

राज्यपाल ही मुख्य मंत्री को नियुक्त करते हैं। मुख्य मंत्री विधान सभा के सदस्यों में से अन्य मंत्री चुनते हैं। बोलचाल की भाषा में राज्य मंत्रिमंडल को राज्य सरकार कहा जाता है।

यह ध्यान रखो कि केन्द्रीय मंत्रिमंडल और राज्य मंत्रिमंडल एक ही पार्टी का होना जरूरी नहीं है।

- आजकल केन्द्रीय मंत्रिमंडल किस पार्टी का है?
- तुम्हारे राज्य का मंत्रिमंडल किस पार्टी का है?
- भारत के कौन से राज्यों में मंत्रिमंडल उस पार्टी का नहीं है जिसका केन्द्रीय मंत्रिमंडल है?

राज्य में विधान सभा में बने कानून व नीतियों को लागू करने के लिए राज्य सरकार कई लाख सरकारी कर्मचारी नियुक्त करती है - डाक्टर, तहसीलदार विकास छूट अधिकारी, पुलिस, पटवारी, आदि। इन सबको राज्य सरकार तनख्वाह देती है और उन्हें राज्य मंत्रिमंडल के आदेशों का पालन करना होता है। अगले पाठ में तुम ऐसे कुछ अधिकारियों के बारे में पढ़ोगे।

इस पाठ में तुमने देखा कि "सरकार" क्या है, कानून कैसे बनता है, और मंत्रिमंडल कैसे बनता है। इन बातों को और अच्छी तरह समझने के लिए एक विधायक की कहानी पढ़ो।

:: एक विधायक की कहानी ::

कोशलपुर एक काल्पनिक जगह है। हम मान लेते हैं कि यह जगह मध्य प्रदेश में ही है। इस कहानी में पार्टी और लोग भी काल्पनिक हैं। लेकिन विधायक चुनने का तरीका, नियम तय करने के तरीके, जो इस कहानी में बताए हैं, वे सही हैं।

कोशलपुर क्षेत्र में विधानसभा चुनाव होने वाले हैं। पांच पार्टियां चुनाव लड़ रही हैं। उन्होंने अपने चुनाव प्रत्याशी या उम्मीदवार (यानी कोशलपुर क्षेत्र के लिए विधायकों के चुनाव के लिए पार्टी से कौन छड़ा होगा) तय कर लिया है। सब से ताकतवर पार्टियां हैं मध्य भारत दल और महाकोशल संघ मध्य भारत दल से चुनाव लड़ रहे हैं,

किस भाई और महाकोशल संघ से रामप्रसाद जी। कुछ निर्दलीय-उम्मीदवार भी हैं, जो किसी पार्टी के सदस्य नहीं। कोशलपुर क्षेत्र से चुनाव के लिए कुल 8 उम्मीदवार या प्रत्याशी हैं। 5 पार्टियों के और तीन निर्दलीय। प्रचार

चुनाव 25 सितंबर को होने वाले हैं। 15-20 दिन पहले ही चुनाव प्रचार शुरू हो गया। लाज्ज स्पीकर, जीप, तांगी - आम सभाएं। हर पार्टी के सदस्य आश्वासन देते हैं। कोई कहता "हम सड़क बनवाएंगे"। तो कोई कहता "हम जमीन दिलवाएंगे"। उम्मीदवार दूसरी पार्टी के सदस्यों की निन्दा भी करते। 24 ता. तक यह शोरगुल रहा और फिर सब शान्त हो गया। कोशलपुर में वोट डले

25 तारीख को सुबह वोट डलना शुरू हुए और शाम तक डलते रहे। चुनाव केन्द्रों के सामने लम्बी कतारें थीं। बड़े-



मतदाताओं की कतारें

बूटे, औरत, आदमी सभी वहाँ थे। एक व्यक्ति दरवाजे पर बैठा था। उसके पास लम्बी सूचियाँ थी। वोट देने वाले उसके पास पहले जाते। जिस का नाम उस सूची में न होता उसे वह लौटा देता। बीच में एक व्यक्ति से उस अधिकारी की छब लड़ाई हुई। अधिकारी कह रहा था, "तुम तो अपना वोट डाल चुके हो, फिर से क्यों आए हो" वोट डालने वाला बार-बार अपने नाखून और पर्ची दिखाता "जब मेरे नाखून पर निशान ही नहीं और पर्ची भी मेरे पास है तो आप मुझे रोक कैसे सकते हैं?" आपने मेरे नाम को सूची में गलती से काटा होगा या कोई पर्ची पर्ची लेकर आया होगा। अधिकारी ने उस से वोट एक लिफाफे में रख कर सील बन्द करके देने को कहा। वोट का लिफाफा अधिकारी ने अपने पास रख लिया।

कोशलपुर में वोट डाल ही रहे थे कि पास के रामपुर क्षेत्र से खबर आई कि कई सारे लोगों ने लाठी लेकर 2 केन्द्रों पर धावा बोला। अधिकारियों को पीटा गया और वोट पेट्टी के ताले छलवाकर उस में पर्ची वोट डाले गए। अधिकारियों से फिर जबरजस्ती वोट पेट्टियाँ सील करवाई गई। पुलिस वहाँ बहुत देर में पहुँची।

दूसरे दिन वोटों की गिनती शुरू हुई। शाम तक चुनाव के परिणाम आने लगे। कोशलपुर की सभी वोट पेट्टियों की जब गिनती खत्म हुई तो पता चला कि रामप्रसाद जी को 42,803 वोट मिले और किलास भाई को 28,156।

बाकी 6 प्रत्याशियों को 5 हजार से भी कम वोट मिले।

● बताओ कोशलपुर का विधायक कौन बना 9 वह किस पार्टी का था 9 सरकार किसकी बनी

जब हर विधान सभा क्षेत्र के चुनाव परिणाम घोषित हो गए तो पता चला कि कुल 320 विधान सभा क्षेत्रों में से 192 क्षेत्रों में किलास भाई की पार्टी यानी मध्य भारत दल के प्रत्याशी जीते हैं 93, महाकोशल संघ के और बाकी 35 विधायक अन्य पार्टी के हैं, या निर्दलीय हैं।

● बताओ मंत्रीमंडल और मुख्यमंत्री किस पार्टी के बने 9



मंत्री शपथ लेते हुए

हालांकि रामप्रसाद जी कोशलपुर क्षेत्र से विजयी हुए, उनकी पार्टी की सरकार नहीं बनी। वे विपक्षी दल के हो गए।

5 सालों में विधान सभा की कई बैठकें हुईं। इन बैठकों में राज्य से संबंधित

कई बातों पर चर्चा और बहस होती और कई मसले तय किए जाते । जैसे- किस चीज पर कितना कर लगेगा 9 माचिस पर अधिक या पेट्रोल पर 9 छेती की जमीन पर भी कर लगेगा या नहीं 9 पंचायत किस प्रकार से बनाई जाएगी 9 और ऐसे ही कई मसले ।


विधायक सरकार से प्रश्न पूछते और संबंधित मंत्री जवाब देते । कोई पूछता "मंहगाई बहुत बढ़ रही है, उसे रोकने के लिए आप क्या कर रहे हैं 9" तो वित्त मंत्री को जवाब देना पड़ता । यदि पूछा जाता प्रदेश में कितनी प्राथमिक शालाओं की छतें नहीं है 9 आप इस के बारे में क्या कर रहे हैं 9" तो शिक्षामंत्री उत्तर देते । कुछ विधायक जवाबों से संतुष्ट हो जाते और कुछ नहीं भी ।

### न्यूनतम मजदूरी का कानून बना

एक दिन श्रम मंत्री ने विधान सभा में न्यूनतम मजदूरी का बिल पेश किया । पहले सब विधायकों को बिल की प्रतियां बांटी गई । श्रम मंत्री ने बिल को संक्षेप में समझाते हुए कहा- "पिछले कुछ सालों में उत्पादन काफी बढ़ा है । मंहगाई भी बढ़ी है । लेकिन मजदूरों की मजदूरी इतनी नहीं बढ़ पाई है जितना कि और लोगों की आमदनी बढ़ी है । कई मजदूर संगठनों ने अपने मालिकों के साथ ये मसले भी उठाए हैं । हड़तालें भी हुई हैं । हड़तालों से उत्पादन पर बुरा असर पड़ा है । पर मजदूरों की मांगी भी कुछ हद तक जायज हैं । इन सब चीजों को ध्यान में रखते हुए हम यह बिल पेश कर रहे हैं जिस में

उद्योगों में काम करने वाले, मजदूरों की न्यूनतम मजदूरी 10 रु से बढ़ाकर 15 रु प्रति दिन की जा रही है और छेतीहर मजदूरों की 8 रु से 10 रु । यह अन्तर इसलिए रखा जा रहा है चूंकि शहरों में मंहगाई अधिक बढ़ रही है । इसके अलावा बिल में कुछ और बिन्दु भी हैं । आप सब को बिल की एक प्रति दी गई है । सब लोग उसे ध्यान से पढ़ें । इसके बाद हर बिन्दु पर चर्चा होगी ।"

सब विधायकों ने बिल पढ़ा । फिर बहस शुरू हुई । कोई बिल के पक्ष में बोलता तो कोई उसके विरुद्ध । महा-कोशल संघ के रामप्रसाद जी अधिकांश मामलों में कुछ न होलते । पर आज वे जड़े हो गए । बोले "हमारे देश में अधिकांश छेतीहर मजदूर हैं । जब तक उनकी हालत



राम प्रसाद जी बोले ...

नहीं सुधरेगी हमारा देश आगे नहीं बढ़ सकता । सिंवाई के आने से साल में कई

पसलें होने लगे हैं। अनाज के भाव भी खूब बढ़ गए हैं। इससे कई किसानों को पण्यदा हुआ है। पर छेतिहर मजदूर की मजदूरी उतनी नहीं बढ़ी। उसे भी अनाज आदि की बढ़ती कीमतों का सामना करना पड़ रहा है। छेतिहर मजदूरों की मजदूरी और बढ़नी चाहिए।”

कई विधायक रामप्रसाद जी की बातों से प्रभावित हुए। दूसरों ने कहा— “यदि छेतिहर मजदूरी और बढ़ गई तो अनाज, दाल, तेल सभी के भाव बढ़ जाएंगे। ये वस्तुएं सभी के काम की हैं। फिर उद्योगों के मजदूर भी अधिक मजदूरी मांगने लगेंगे।”



दूसरे विधायक बोले.....

एक ओर विधायक श्री आकाशमल जी ने कहा— “इतने सारे छेतिहर मजदूरों के पास पैसे बढ़ेंगे तो वे लोग भी कपड़े,

रेडियो, साइकल जैसी कारखानों में बनने वाले चीजें खरीद पाएंगे। इन चीजों की मांग भी तो बढ़ेगी। इससे उद्योग को पण्यदा होगा।”

चर्चा और बहस खूब हुई। कोई छेतिहर मजदूरों के लिए 10 रु. न्यूनतम मजदूरी रखने को कहता, कोई 11 रु. तो कोई 12 रु.। औद्योगिक मजदूरी पर इतनी बहस नहीं हुई। 15 रु. तक बढ़ोत्तरी सब को मान्य थी। जब बिल पर मत पूछे गए कि छेतिहर मजदूरों के लिए 11 रु. के पक्ष में कितने लोग हैं तो उपस्थिति 273 में से 200 हाथ उठ गए। फिर बिल में यह संशोधन किया गया कि छेतिहर मजदूरों को कम से कम 11 रु. दिन मजदूरी मिलनी चाहिए। और इस संशोधित बिल को राज्यपाल के हस्ताक्षर के लिए पेश किया गया। राज्यपाल ने हस्ताक्षर कर दिए। ऐसे न्यूनतम मजदूरी का कानून बना।

कानून कैसे लागू होगा

गजेट में छपकर यह कानून जिलाधीश जैसे सरकारी कर्मचारियों के पास पहुंचा। अब यह देखना उनकी जिम्मेदारी हो गई कि हर मजदूर को उतनी मजदूरी मिलती है जितनी विधान सभा में तय की गई है।

कानून बनाने वाले विधायकों की कहानी तो तुमने पढ़ ली। अब अगले पाठ में कानून लागू करने वाले सरकारी अधिकारियों और कर्मचारियों के बारे में पढ़ना।



## अभ्यास के प्रश्न

1. सब से बड़े चुनाव क्षेत्र से कौन चुना जाता है ? इस क्षेत्र को क्या कहते हैं ?  
पंच, सांसद, विधायक, नगर पालिका सदस्य, नगर निगम सदस्य
2. क्या सभी लोग जो पंचायत के चुनाव में वोट डाल सकते हैं, सांसद के चुनाव में भी वोट डाल सकते हैं ?
3. कानून बनाने का काम कौन करता है ?  
पूरे भारत के लिए -  
राज्यों के लिए -
4. प्रधान मंत्री कैसे बनता है ?
5. मंत्रिमंडल का काम क्या है ?
5. मंत्रिमंडल का काम क्या है ?
6. मंत्रिमंडल कैसे बनता है ?
7. इन में से कौन केन्द्रीय सरकार के कर्मचारी है और कौन राज्य सरकार के ?  
तहसीलदार, पटेल, सेना के कर्मचारी, हमारे शिक्षक, थानेदार, रेल कर्मचारी।
8. विधान सभा में आज जेती की भूमि पर कर समाप्त करने का विधेयक पेश किया गया । जब विधायकों से पूछा गया कि कितने इस के पक्ष में हैं । 272 विधायक उपस्थित थे । उन में से 106 के हाथ उठे ।  
क्या यह विधेयक कानून बना ? कारण सहित उत्तर दो ।
9. भारत की 5 पार्टियों के नाम बताओ ?

## पाठ-8 जिला प्रशासन

उमने पिछले पाठ में पढ़ा कि सरकार नियम कानून बनाती है, उसका पालन करवाती है। उमने यह भी पढ़ा कि पूरे भारत की सरकार है और भारत के अलग-अलग राज्यों या प्रदेशों की भी सरकार है।

सरकार जो कानून और नीतियाँ बनाती है उन्हें लागू करने के लिए बहुत सारे लोगों को काम पर रखती है। इन्हें सरकारी कर्मचारी कहते हैं। इन लोगों को सरकार तन्खुवाह देती है। ये लोगों द्वारा वोट डालकर चुने नहीं जाते।

कानून और नीति लागू करने का काम किसी एक जगह से करना मुश्किल है। इसलिए हर राज्य को जिलों में बाँटा गया है। हर राज्य में कई जिले होते हैं। जिले में कई सरकारी कर्मचारी काम करते हैं। मध्य प्रदेश के जिलों के नक्शे में अपने जिले को पहचानो।

जिला प्रशासन के कर्मचारी


- |                        |                     |
|------------------------|---------------------|
| 1. कलेक्टर             | 2. तहसीलदार         |
| 3. कानूनगो             | 4. पटवारी           |
| 5. पुलिस सुपरिटेण्डेंट | 6. पुलिस इंस्पेक्टर |
| 7. चीफ मेडिकल अप्सर    |                     |
| 8. जिला शिक्षा अधिकारी |                     |
| 9. कृषि अधिकारी        |                     |

10. विकास छँड अधिकारी
11. सिवार्ड अधिकारी
12. दरोगा

ये नाम उमने जरूर सुने होंगे।

- इनमें से किन लोगों के बारे में उम जानते हो वे क्या करते हैं - उनके काम क्या क्या हैं ?

**पुलिस विभाग:** पुलिस विभाग का नाम किसने नहीं सुना। पुलिस का काम है विधायकों व सांसदों द्वारा बनाए गए कानून का पालन करवाना।



पुलिस विभाग कानून का पालन कैसे करवाती है ? अगर कोई व्यक्ति कानून तोड़ने का प्रयास करे तो उसे रोकती है, (जैसे दंगा, फसाद, मारपीट आदि)।

अगर कहीं किसी ने कानून तोड़ा तो पुलिस पता लगाती है कि किसने कानून

तोड़ा, क्यों तोड़ा आदि। फिर कानून तोड़ने वाले को गिरफ्तार करती है और उसके खिलाफ न्यायालय में मुकदमा चलाती है। उदाहरण के लिए अगर रघुवीर के घर में चोरी हो जाए तो उसे जाकर थाने में रिपोर्ट लिखवाना होगा। इस रिपोर्ट को मोके की पहली रिपोर्ट या एफ.आई.आर. भी कहा जाता है। इस रिपोर्ट के आधार पर पुलिस को यह पता लगाना पड़ता है कि वास्तव में चोरी हुई या नहीं। अगर चोरी हुई तो किसने की आदि। जिस व्यक्ति पर पुलिस को शक है उसे वे गिरफ्तार भी कर सकते हैं। किसी भी घटना की पहली रिपोर्ट लिखने से कोई थानेदार मना नहीं कर सकता।

मगर किसी व्यक्ति को पुलिस

किसी प्रकार की सज़ा नहीं दे सकती है। गिरफ्तार व्यक्ति पर केवल कोर्ट में मुकदमा चला सकती है। न्यायाधीश ही यह तय करेगा कि क्या वास्तव में यह व्यक्ति चोर है या नहीं। अगर चोर है तो उसे क्या सज़ा मिलनी चाहिए।

किसी भी व्यक्ति को गिरफ्तार करने से पहले उसे बताना पड़ता है कि उसे किस जुर्म के लिए गिरफ्तार किया जा रहा है। गिरफ्तार करने के 24 घंटे के अन्दर उसे न्यायालय में पेश करना पड़ता है और उसे गिरफ्तार करने के लिए न्यायाधीश से अनुमति लेना पड़ती है। अगर कोई थानेदार किसी व्यक्ति को गिरफ्तार करता है और कोर्ट में उसे 24 घंटे में पेश नहीं करता तो उस थानेदार पर मुकदमा चलाया जा सकता है।

पुलिस विभाग में कौन-कौन काम करते हैं और कहाँ-कहाँ काम करते हैं।

- तुम्हारे घर में चोरी हुई तो तुम क्या करोगे ?

हर गाँव में एक कोटवार होता है। कोटवार का काम है गाँव में हुए जुर्म या अपराध की सूचना पास की पुलिस चौकी में देना।



एक गाँव पर



एक कोटवार

चार पाँच गांवों के लिए एक पुलिस चौकी होती है। हर चौकी पर दो-तीन सिपाही और एक दरोगा होता है। चौकी के गांवों में हुए अपराधों की वे खबर रखते हैं और जा कर छान-बीन करते हैं।

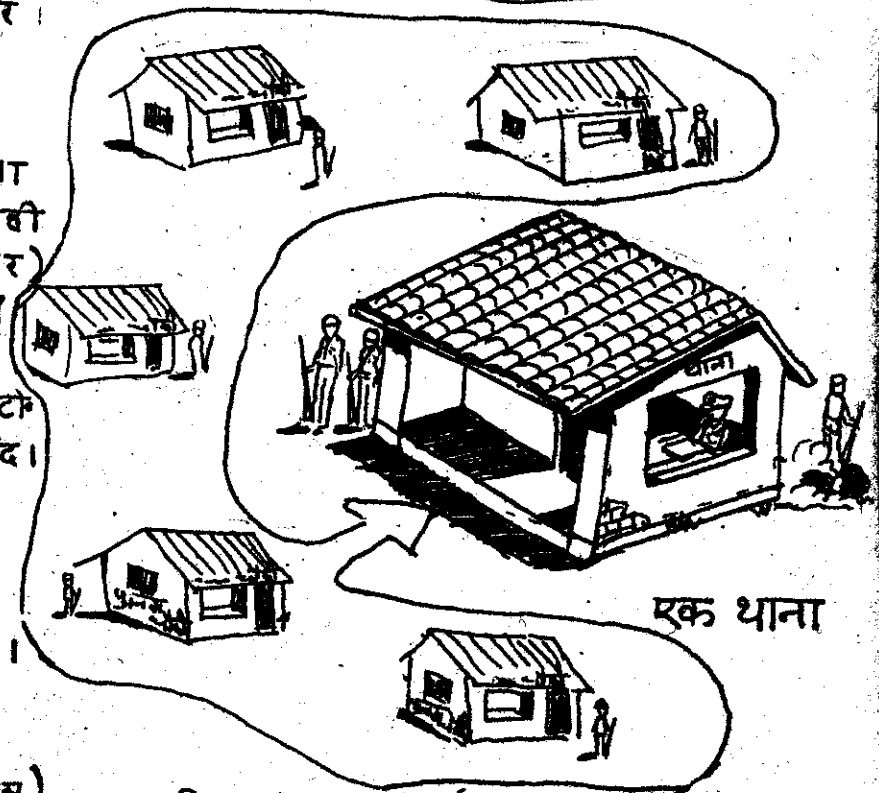
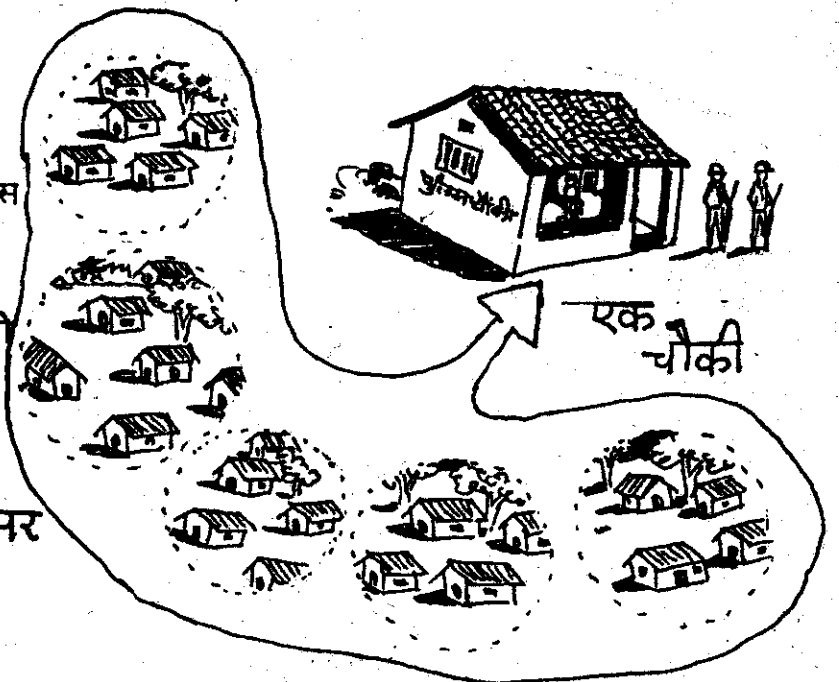
### चार-पाँच गाँवों पर

- अगर उन्हें चौकी में रपट दर्ज करानी हो तो उन्हें कितनी दूर जाना पड़ेगा १

कई चौकियों पर एक थाना होता है। थाने में चौकियों से अधिक सिपाही होते हैं और एक थानेदार (सब इंस्पेक्टर) होता है। भोपाल जैसे बड़े शहरों में कई थाने होते हैं जो अपने अपने क्षेत्र संभालते हैं - जैसे हबीबगंज थाना, टी.टी. नगर थाना, जहांगीराबाद थाना आदि।

### कई चौकियों पर

ये रही चौकी व थाने की बात। इन थानों पर नियंत्रण किसका है १ हर जिले में कई अनुविभागीय पुलिस अधिकारी होते हैं। (एस.डी.ओ. पुलिस) उनके निर्देशन में ही थानेदार काम करते हैं। अगर किसी जगह कोई दंगा फसाद जैसी वारदात हो जाये तो एस.डी.ओ. कई थानों से सिपाही बुलाकर जहाँ भेज सकता है। कोई थानेदार अपने थाने के



सिपाही दूसरे थाने के हलाके में नहीं भेज सकता है।

पूरे जिले में एक पुलिस सुपरिटेण्डेंट एस.पी. होता है जो पूरे जिले की पुलिस पर नियंत्रण रखता है। उसकी देख रेख करता है।

**शिक्षा विभाग :** राज्य सरकार कई हजार शालाएँ चलाती है। इन शालाओं में शिक्षकों का प्रबन्ध उनकी तन्खवाह आदि पढ़ाई की देख-रेख, भवन आदि का प्रबन्ध, परीक्षा का प्रबन्ध, सब राज्य सरकार को करना होता है।

- सोच कर लिखो कि शाला के लिए और किन चीजों की जरूरत होती है ?

इतनी सारी शालाओं के लिए इन सब चीजों का समय पर प्रबन्ध करना, इन सब शालाओं में पढ़ रहे बच्चों की परीक्षा लेना, खासा बड़ा काम है। उदाहरण के लिए, हर शाला में चाक पहुँचानी होती है। जहाँ कम शिक्षक

हैं वहाँ ओर शिक्षक भेजने पड़ते हैं। बच्चों के लिए बुक बैक को पुस्तकें भिजवानी पड़ती है। सभी शाला के शिक्षकों को हर महीने वेतन पहुँचाना पड़ता है। जिन बच्चों को छात्रवृत्ति मिल रही है, उनकी छात्रवृत्ति के पैसे समय-समय पर शालाओं में भिजवाने पड़ते हैं।

इसके लिए जरूरी है कि शिक्षा विभाग को सभी शालाओं की आवश्यकताओं की जानकारी समय-समय पर मिलती रहे। इस जानकारी को इकट्ठी करने और वस्तुएं समय पर पहुँचाने के काम के लिए शिक्षा विभाग के कई कर्मचारी काम करते हैं।

ए. डी. आई. एस-  
शाला का निरीक्षण  
करते हुए



70-75 प्राथमिक शाला और 10-15 माध्यमिक शालाओं पर

एक विकास छण्ड पर

एक जिले पर

एक सहायक जिला शाला निरीक्षक (ए. डी. आई. एस)

एक विकास छण्ड शिक्षा अधिकारी

एक जिला शिक्षा अधिकारी (डी. ई. ओ.)

इन सब कामों की देखरेख करते हैं।

- अपने गुस्जी से पता करो कि ऊपर दिए गए शिक्षा विभाग के लोग और क्या-क्या करते हैं १ कैसे काम करते हैं १
- क्या तुम्हारी शाला में सभी जरूरत की चीजें पर्याप्त हैं १ यदि नहीं तो किन चीजों की कमी है १ इन कमियों को पूरा करने को कहोगे १
- तुम किस से इन कमियों को पूरा करने को कहोगे १
- अपने गुस्जी से पूछो क्या वह व्यक्ति ये कमियों पूरी कर सकता है १
- उस अधिकारी को तुम्हारी शाला की जरूरतों को पूरा करने के लिए क्या-क्या करना पड़ेगा १

**इवाङ्गम्य विभाग :** तुम्हारे घर में तुम या कोई और कभी बीमार पड़े होंगे । अस्पताल, डिस्पेन्सरी या "प्रायवेट" डाक्टर के पास कभी गए होंगे ।

- तुम्हारे लिए सब से नज़दीक कौन सा अस्पताल पड़ता है १ उसे क्या कहते हैं १

कभी न कभी बीमार तो सभी पड़ते हैं - अमीर हो या गरीब । यदि इलाज केवल पैसे से ही मिलता तो गरीब अपना इलाज नहीं करवा पाते । पर सरकारी अस्पतालों में सभी को निशुल्क इलाज मिल सकता है ।

सरकार कई सारे अस्पताल चलाती है । बड़े शहरों में बड़े अस्पताल और कुछ बड़े गांवों में छोटे अस्पताल । इन

अस्पतालों में काम करने वाले डाक्टरों और नर्सों आदि को सरकार तन्हुवाह देती है । अस्पतालों में आवश्यक चीजें और दवाएं पहुंचाती है । इन सब कामों के प्रबन्ध के लिए कई कर्मचारी होते हैं, जो डाक्टर न भी हों ।




सब से छोटे अस्पताल होते हैं मिनी पी.एच.सी (लघु प्राथमिक चिकित्सा केन्द्र) । इस में एक डाक्टर और एक नर्स होती है । इसके अलावा गांव-गांव घूम कर छोटी-मोटी बीमारियों के इलाज करने और गम्भीर बीमारियों को जानकारी इकट्ठा करने के लिए ग्राम स्वास्थ्य रक्षक होता है । आदिमियों के लिए अलग और औरतों के लिए अलग । वह डाक्टर नहीं होता लेकिन इलाज की कुछ जानकारी उसे होती है । यह भी जानकारी होती है कि कब किसी मरीज को डाक्टर के पास ले जाया जाए । उस के पास बुखार, सिर दर्द, पेचिश, फोड़े-पुसी, चोट आदि की दवाएं भी रहती हैं । उस से कोई भी ये दवाएं मांग सकता है ।

एक मलेरिया कर्मचारी भी होता है जो मलेरिया के लिए बून की जांच करता है और उसकी दवा देता है ।

- क्या तुम्हारे यहां स्वास्थ्य रक्षक और मलेरिया कर्मचारी आते हैं ?  
तुम्हें उनसे क्या मदद मिलती है ?

मिनी पी.एच.सी से बड़ी पी.एच.सी. (प्राथमिक चिकित्सा केन्द्र) होती है । इस में तीन डाक्टर और कुछ नर्स होते हैं । कुछ पलंग होते हैं तो मरुजों के भरती करने का भी प्रबन्ध होता है । एक जिले में कई पी.एच.सी. होती है ।

डाक्टर नर्स और कपाण्डर भी होते हैं ।



जिला स्तर पर सिविल अस्पताल होता है जिस की पूरी देख रेख चीफ मेडिकल अपसर सी.एम.ओ. या सिविल सर्जन करता है जो एक अनुभवी डाक्टर होता है । पी.एच.सी. में यदि कोई गम्भीर केस आए तो उसे वहां के डाक्टर सिविल अस्पताल भेज देते हैं । सी.एम.ओ. के अलावा सिविल अस्पताल में कई

यह सरकार का स्वास्थ्य विभाग है ।

- क्या ये डाक्टर और अस्पताल काफी हैं ? तुम्हें क्या लगता है ? उस दृश्य का वर्णन करो जो कभी तुमने अस्पताल में देखा होगा ?  
पर ये तो तब है जब इलाज की नोक़्त आए । बीमारी को रोक ही तो

जा सकता है। साफ और पर्याप्त पानी पी कर, सफाई और रोशनी में रहकर, व्यायाम करके, ठीक से खा पी कर। बहुत सी ऐसी जगह हैं जहाँ ये सब सुविधाएँ नहीं हैं। बहुत से लोग हैं जिन्हें ठीक से खाना पीना भी नहीं मिलता।

- इस स्थिति में लोगों के स्वास्थ्य की देख भाल के लिए सरकार को क्या-क्या करना चाहिए ? आपस में चर्चा करके लिखो।
- हमारे विचार में पी.एच.सी.व अस्पताल की सुविधाओं में क्या सुधार किया जाना चाहिए ?

तुमने शिक्षा विभाग और स्वास्थ्य विभाग के बारे में पढ़ा। ये विभाग लोगों को शिक्षा और इलाज की सुविधाएँ देने के लिए हैं। ऐसे और भी विभाग हैं, जो लोगों की सुविधाओं के लिए बने हैं।

- पता करो ऐसे कौन से और विभाग हैं ? वे क्या-क्या सुविधा देते हैं ?
- हमारे विचार में इन्हें और अच्छा बनाने के लिए क्या करना चाहिए ?

तुमने देखा कि सरकार के कितने विभाग हैं। हर एक विभाग के जिले में कितने सारे कर्मचारी हैं। इन सब की तन्त्रवाह सरकार ही देती है। ये सुविधाएँ ठीक से लोगों को मिलें, इस के लिए बहुत सारी चीजों की जरूरत होती है। जैसे अस्पतालों में आपरेशन के औजार, दवाईयाँ, कागज-

(दवाई लिये के लिए) आदि। उसी तरह स्कूल-कालेजों के लिए भी ढेर सारी चीजें चाहिए। इन सब के लिए सरकार को पैसा चाहिए। ये पैसा आता कहाँ से है ? अगर तुम सोचते हो कि सरकार जितना जी चाहे नोट छाप सकती है तो यह सही नहीं है। यदि ऐसा होता तो नोट ही नोट होते और उन से खरीदने की चीजें बहुत कम पड़ जातीं। इसलिए एक देश में जितनी चीजें बनती हैं उसके हिसाब से ही नोट छापे जाते हैं। ये कैसे होता है - काफी मुश्किल है समझना। आगे धीरे-धीरे समझने की कोशिश करोगे।

- तो फिर कैसे पैसा आता है सरकार के पास ?

हमारे और हमारे परिवारों से। हाँ, सभी लोग सरकार को टैक्स देते हैं। जो भी बाजार में माचिस, नमक, कपड़ा या कोई भी वस्तु खरीदता है वह सरकार को टैक्स देता है। यह उन वस्तुओं की बिक्री पर टैक्स होता है जो दुकानदार को सरकार को देना पड़ता है। दुकानदार इस टैक्स के पैसे खरीदने वालों से ले लेता है। कुछ टैक्स केन्द्रीय सरकार लेती है और कुछ राज्य सरकार। टैक्स या कर इकट्ठा करने के भी विभाग हैं, और उन में भी सरकारी कर्मचारी काम करते हैं।

पर इस के अलावा एक और तरीके से सरकार टैक्स कसूल करती है। वह है ज़मीन की जमीन पर कर लेकर। इसे भूमि कर कहते हैं। सभी किसानों को यह कर देना पड़ता है।



● तुम्हारे कक्षा में जिन बच्चों के परिवार में छेती की जमीन हो, उन से पता करो कि उन्हें साल में अपनी भूमि पर कितना कर देना पड़ता है ?

● क्या सभी किसानों को एक सा कर देना पड़ता है या बड़े किसानों को अधिक और छोटे किसानों को कम ? यह कर किसान किस के पास जमा करवाते हैं ?

**राजस्व विभाग :** भूमि कर की कसूली के लिए एक विभाग है जिस राजस्व विभाग कहते हैं। भूमि पर कर लेने से पहले किसानों की जमीन नापनी पड़ती है। यह काम पटवारी का होता है। एक पटवारी 4-5 गांव की जमीन का लेखा-जोखा रखता है - यानी यह जानकारी कि किसके पास कितनी जमीन है। यदि कोई जमीन बेचे या खरीदे तो उसे यह जानकारी पटवारी के पास दर्ज करानी पड़ती है। उन दो-चार गांवों को जिसकी जमीन नपाई एक पटवारी करता है - हल्का कहा जाता है। यानी एक हल्के पर एक पटवारी।

● तुम्हारे हल्के का पटवारी कौन है ? और कौन-कौन से गांव आते हैं तुम्हारे हल्के में ?

जमीन नाप कर पटवारी गांव के नक्शे भी बनाता है। जमीन नापने के अलावा पटवारी गांव की सभी जानकारी का लेखा जोखा रखता है। जैसे जन्म व

मृत्यु का, फसल का और उपज आदि का।

हर गांव में एक पटेल होता है, जिसे सरकार ने भूमि कर इकट्ठा करने का ठेका दिया हुआ है। जितना कर इकट्ठा होता है उसका कुछ भाग वह अपने पास रख लेता है। कितना भाग रहेगा यह बंधा होता है। सरकार पटेल को तन्खुवाह नहीं देती। वह सरकारी कर्मचारी नहीं होता। सिर्फ पटवारी के नाप के अनुसार कर इकट्ठा करता है।

जिले को कुछ अनुविभागों में बांटा जाता है। अनुविभागों को तहसीलों में एक तहसील में कई गांव आते हैं।


तहसीलदार तहसील की देख-रेख करता है। तहसील की तिजोरी में पटेल अपने गांव से इकट्ठा किया गया कर जमा करता है। यदि जमीन के झगड़े हों तो उनका फैसला तहसीलदार कर सकता है। इस फैसले के लिए वह पटवारी से जानकारी ले सकता है।

**जिलाधीश व अनुविभागीय अधिकारी:**

जिले के स्तर पर इन्हीं सब कामों की देख रेख के लिए जिलाधीश होता है। भूमि कर की देख रेख के अलावा जिलाधीश और कई कामों के लिए भी जिम्मेदार है। वही जिले का सबसे बड़ा अधिकारी है।

यदि कहीं दंगा फसाद हो जाए या होने की संभावना हो तो वह दंगा करने

वालों को गिरफ्तार करने का आदेश दे सकता है। धारा 144 (यानी उस समय 4 से अधिक व्यक्ति एक साथ नहीं इकट्ठे हो सकते)- का आदेश भी जिलाधीश दे सकता है। यदि कोई भीड़ हिंसक हो जाए तो लाठी या गोली तक चलाने का आदेश जिलाधीश ही दे सकता है। लेकिन ये आदेश देने से पहले उसे भीड़ को तितर-बितर होने को कहना भी जरूरी है। यदि फिर भी भीड़ नहीं छटी तो ही लाठी या गोली चलवा सकता है। जिले के किसी भी विभाग के विरुद्ध या पंचायत के विरुद्ध यदि शिकायत आए तो जिलाधीश उसकी छानबीन करवा सकता है। सभी विकास के कार्यों की देख-रेख भी जिलाधीश करता है।



अनुविभागीय स्तर पर अनुविभागीय अधिकारी (एस.डी.ओ.) जिलाधीश के सभी कार्य (भूमि कर की देख-रेख, शांति बनाए रखना, आदि) करता है।

विकास के कार्य :- कुछ सालों से सरकार ने कुछ खास विकास कार्य शुरू किए हैं, जैसे-कृषि उत्पादन बढ़ाने की योजना, रोजगार देने की योजना आदि।

- विकास क्या होता है ? आपस चर्चा करो।
- हमारे विचार में सरकार ने विकास के काम क्यों शुरू किए ? इन से लोगों को क्या लाभ मिलता है क्या सरकार को भी इन से कुछ लाभ मिलता है ?

विकास के कामों के लिए जिले को विकास छण्डों में बांटा गया है। विकास छण्ड और तहसील बराबर ही होते हैं पर तहसीलदार विकास कार्यों की देख रेख नहीं करता। इस के लिए विकास छण्ड अधिकारी (ब्लॉक डिवेलपमेंट अफसर या बी.डी.ओ.) होता है। अनुविभाग स्तर पर अनुविभागीय अधिकारी और जिला स्तर पर जिलाधीश इन कामों की देख रेख करता है। गांवों में ग्राम सेवक इन्हीं कामों के लिए होता है।

प्रशासन का मतलब है कोई भी काम को ठोस रूप से करना। कानून या नीति लागू करना। पाठ को पढ़कर तुम शायद समझ गए होंगे कि जिला प्रशासन में कौन-कौन से काम आते हैं।

अभ्यास के लिए प्रश्न :

1. जिले के जितने सरकारी कर्मचारी के नाम तुमने इस पाठ में पढ़े, उन्हें तालिका में भरो। साथ ही वे किस विभाग के हैं और क्या काम करते हैं, यह भी भरो।

---

क्र.	कर्मचारी का नाम	विभाग	काम
------	-----------------	-------	-----

---

1. शिक्षक

