

## भिन्न



आज कक्षा में कितने बच्चे आए हैं?

अब सभी 4-4 के समूहों में बंट जाओ।

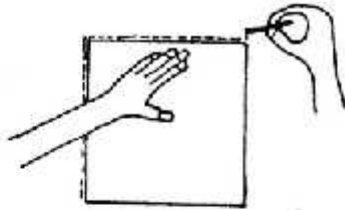
(पहले तुम कंकड़ो और और भी कई चीजों को बराबर - बराबर बांट चुके हो, वैसे ही अब कक्षा के बच्चों को बांटो। ऐसे बांटो कि हर समूह में 4 बच्चे हों।)

बैठ गए सब 4-4 के समूहों में?

अब हर समूह में से एक बच्चा मास्साब से एक चौकोर कागज़ मांग लो। (कागज़ लगभग तुम्हारी कॉपी के बराबर हो)



इस कागज़ को ज़मीन पर फैलाओ और चॉक से उसके चारों तरफ लाइन खींचो।



अब इस कागज़ को चारों बच्चों में बराबर-बराबर बांटना है, यानी जितना बड़ा हिस्सा तुम्हें मिले उतना ही बड़ा तुम्हारे समूह के हर बच्चे को।


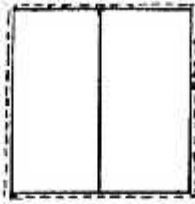
बराबर - बराबर बांटने के लिए:

1. कागज़ को आधा मोड़ो, ऐसे-



2. जहाँ से मोड़ा वहाँ से फाड़ लो। कागज़ के 2 हिस्से हो गए?

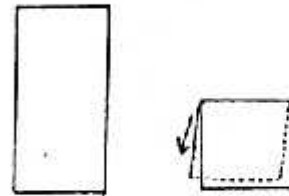
हर एक हिस्सा पहले के चौकोर का आधा ( $\frac{1}{2}$ ) है।



चाहो तो इन दोनों को ज़मीन पर चॉक से बनाए चौकोर के ऊपर जमा कर देखो।


पर अभी तो दो ही बच्चों को कागज़ मिल सकता है। तुम्हें दो हिस्से और बनाने होंगे।

3. दोनों हिस्से को फिर से बीच में से मोड़ लो, ऐसे-



4. दोनों को उस जगह से फाड़ लो जहाँ से मोड़ा है।

अब कागज़ के कितने हिस्से हो गए?

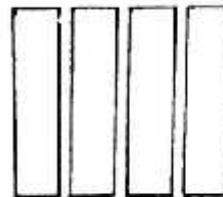


हर एक हिस्सा पहले के चौकोर का चौथाई ( $\frac{1}{4}$ ) हिस्सा है।

एक बार फिर इन चारों हिस्सों को ज़मीन पर बनाए चौकोर के ऊपर जमा कर देखो।

चौकोर कागज़ को आधा और चौथाई बांटने का ये एक तरीका है।

अगर ऐसे चौथाई हिस्से बनाने हों तो तुम्हें चौकोर कागज़ को कैसे फाड़ना होगा?



क्या किसी और तरह से भी चौकोर कागज़ को फाड़ कर 4 बराबर हिस्से बना सकते हो?

---

## गुरुजी की नज़र में...

विद्यार्थी का नाम \_\_\_\_\_ पिता का नाम \_\_\_\_\_

तीन महीने बाद \_\_\_\_\_

\_\_\_\_\_

\_\_\_\_\_

\_\_\_\_\_

\_\_\_\_\_

\_\_\_\_\_

छह महीने बाद \_\_\_\_\_

\_\_\_\_\_

\_\_\_\_\_

\_\_\_\_\_

\_\_\_\_\_

साल के अंत में \_\_\_\_\_

\_\_\_\_\_

\_\_\_\_\_

\_\_\_\_\_

\_\_\_\_\_

\_\_\_\_\_

---


पाठ्यक्रम में लिखे बिन्दुओं को ध्यान में रखते हुए, उपयुक्त जगह में विद्यार्थी का आकलन भरना है।

---


## चित्र

० इस चित्र में कितने चक्के हैं?  
ये कितनी बेलगाड़ियों के लिए काफी होंगे?

० इस चित्र में रसोईघर की  
कौन-कौन सी चीज़ें दिख रही हैं?

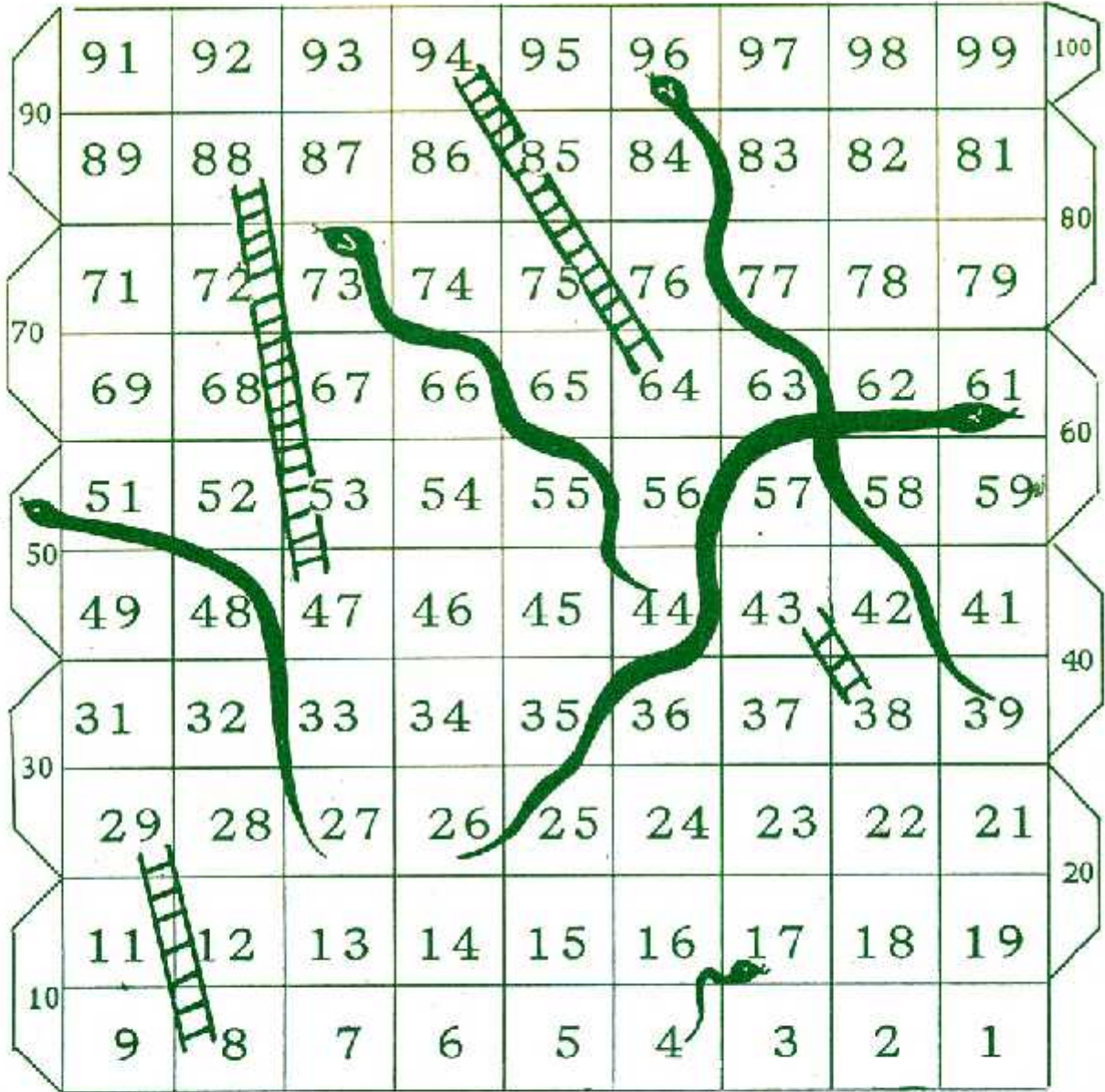


० नीचे के चित्र में क्या-क्या हो रहा है? जो-जो  
चीज़ें चित्र में दिख रही हैं, उनके नाम लिखो।



## सांप सीढ़ी

इस खेल को खेलने के लिये बारी-बारी से पासा चलो। जिसके जितने आयेंगे उसकी गोटी उतने ही घर बागे बढ़ेगी। अगर वहां पहुंच कर उसे सीढ़ी मिली तो वो सीढ़ी चढ़ कर ऊपर वाले घर में पहुंच जायेगा। और अगर वहां सांप मिला तो वो लुढ़क कर पहुंच जायेगा सांप की पूंछ वाले घर में। शुरू 1 से करना है। जो सबसे पहले 100 पर पहुंचेगा वो जीतेगा।



ISBN: 978-91-87171-03-0



9 788187 1171690



मूल्य: ₹ 52.00



A0550H